

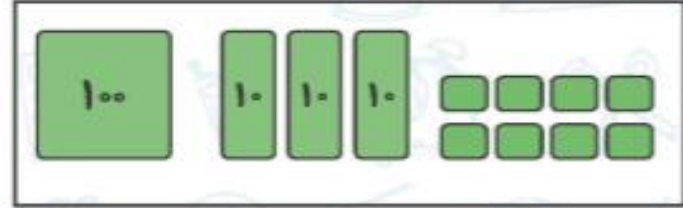
تمرین



۱. عددی را که هر شکل نشان می‌دهد بنویس، سپس با هم مقایسه کن و علامت $< = >$ بگذار.



۲۳۸



۱۳۸



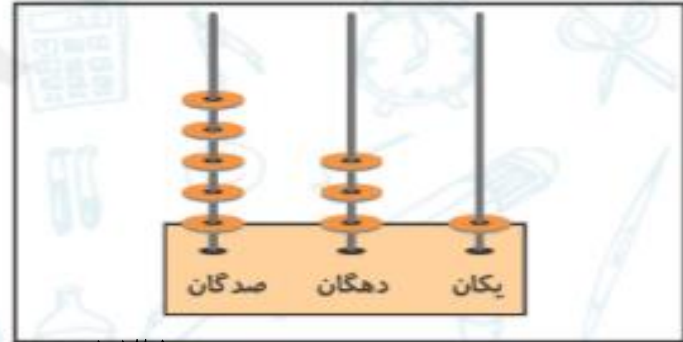
۱۷۰



۴۳۰



۵۳۰



۵۳۱



۱۳۰

۲. هر دو عدد را با هم مقایسه کن، سپس در جای خالی علامت $<$ $=$ $>$ بگذار.

$$۲۰۰ < ۲۰۲$$

$$۷۰۸ < ۷۳۵$$

$$۱۸۵ < ۱۸۹$$

$$۵۰۷ > ۴۹۹$$

$$۳۸۰ > ۳۰۸$$

$$۹۸ < ۱۰۷$$

$$۲۱۴ < ۳۱۴$$

$$۴۱۷ > ۴۰۷$$

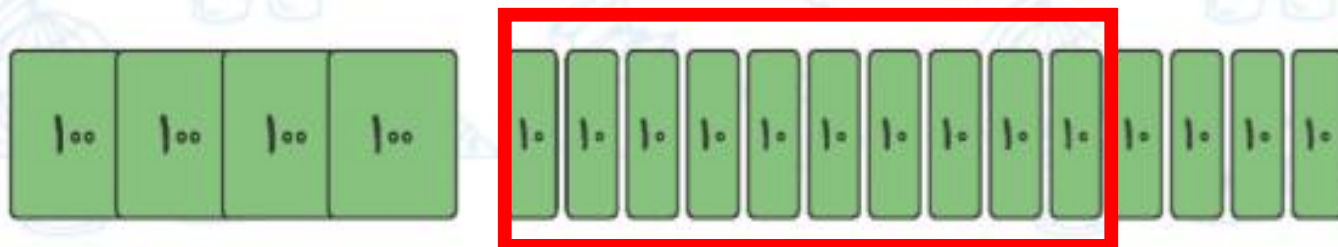
$$۳۰۵ > ۳۵$$



۳. تا جایی که می‌توانی دسته‌های ده‌تایی و صدتایی درست کن. سپس عدد مناسب را داخل جدول بنویس.

۱۰۰

(الف)




صدگان	دهگان	یکان
۵	۵	۶

۱۰

۱۰۰

(ب)



صدگان	دهگان	یکان
۳	۱	۵

۴. پول برنا چند ریال بیشتر از پول درنا است؟



پول برنا

۸ (۴)

۱۰ (۳)



پول درنا

۶ (۲)

۷ (۱)

۵. کدام عبارت عددی زیر صحیح است؟

۹۶۸ < ۶۸۹ (۲)

۹۶۸ = ۶۸۹ (۴)

۹۶۸ < ۶۹۸ (۱)

۹۶۸ > ۶۸۹ (۳)





۶. در کدام یک از دسته‌های زیر، عددها از چپ به راست و از بزرگ‌ترین به کوچک‌ترین مرتب شده‌اند؟

۸۷، ۶۶، ۴۳، ۳۶ (۴)

۸۷، ۶۶، ۳۶، ۴۳ (۳)

۶۶، ۴۳، ۳۶، ۸۷ (۲)

۳۶، ۴۳، ۶۶، ۸۷ (۱)

۷. از سگه‌های انتهای کتاب کار علوی جدا کن، در جای خود بچسبان و در \bigcirc علامت مناسب $\langle = \rangle$ بگذار.

۴۳۴ ریال

۳۲۱ ریال

