

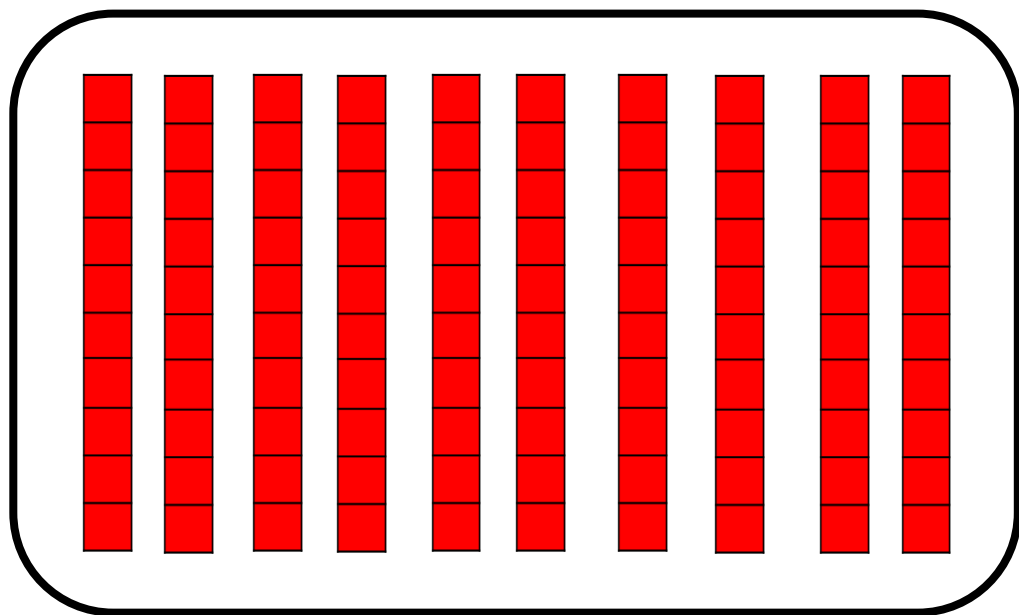
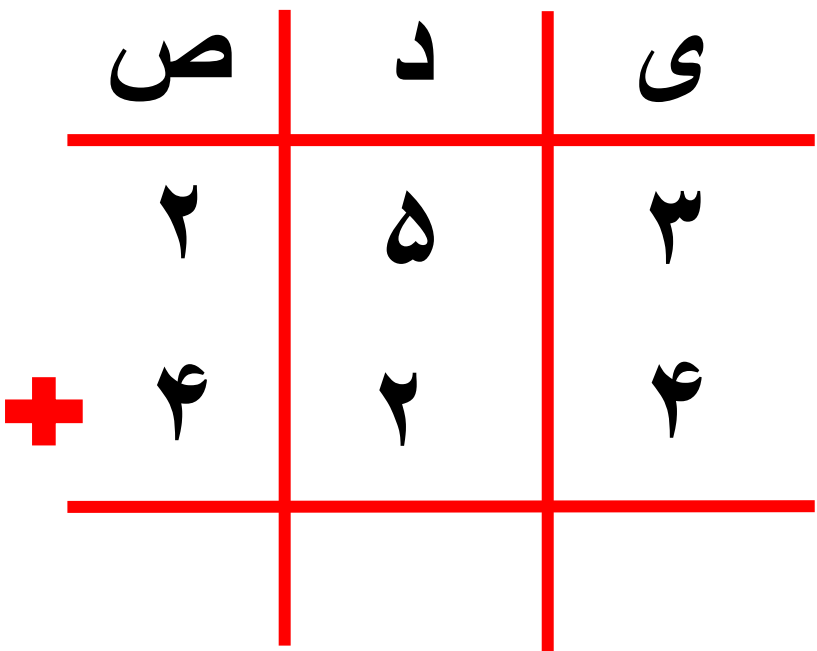

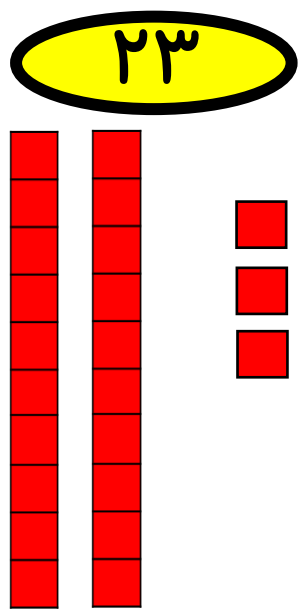
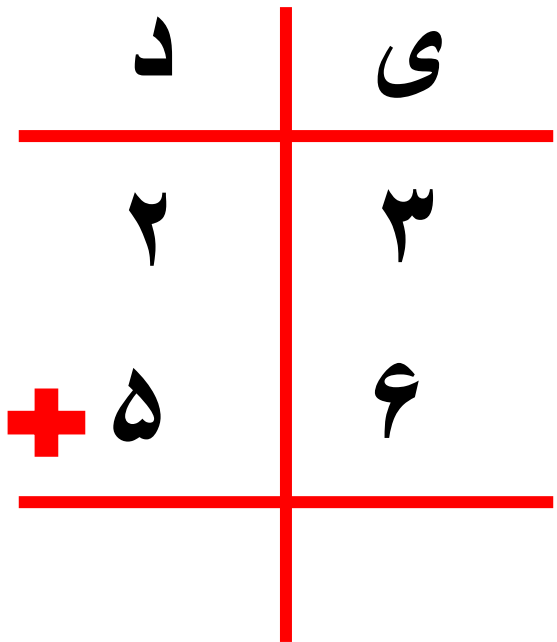


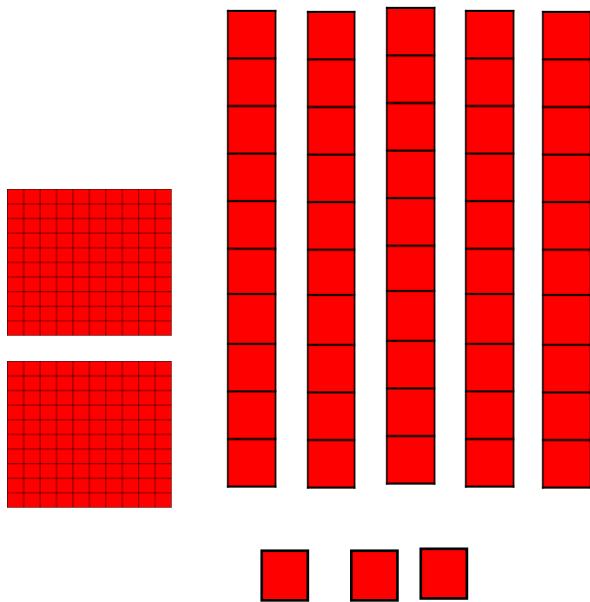
۱۰ یکی برابر است با ۱ دسته ده تایی



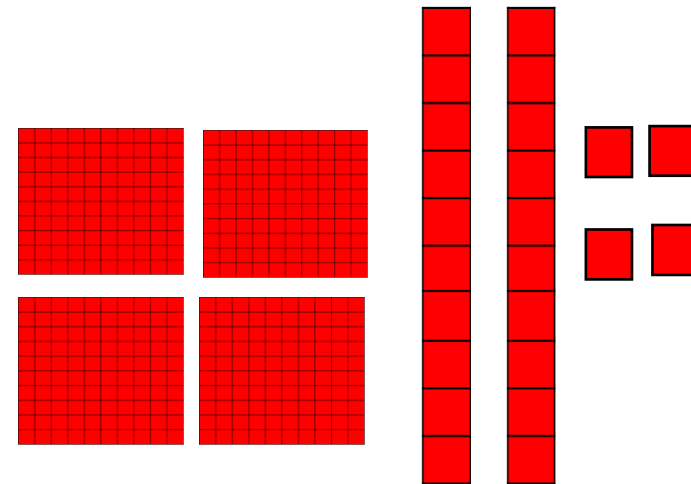
۱۰ دسته ۱۰ تایی برابر است با ۱ دسته صد تایی



253



424



جمع در جدول ارزش مکانی



۱- مرتضی ۵۴ ریال داشت.

اگر ۲۷ ریال دیگر هم بگیرد، چقدر پول دارد؟
حساب کنید از هر سکه چند تا دارد.
همین جمع را در جدول ارزش مکانی انجام دهید.

۸ سکه ۱۰ ریالی ۱ سکه ۱ ریالی

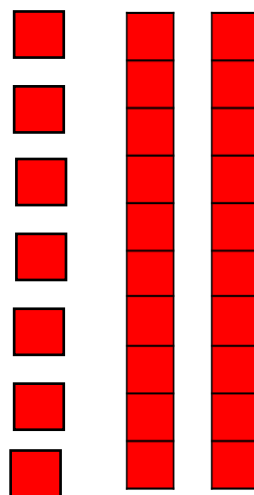
یک بار هم بدون جدول این جمع را بنویسید.



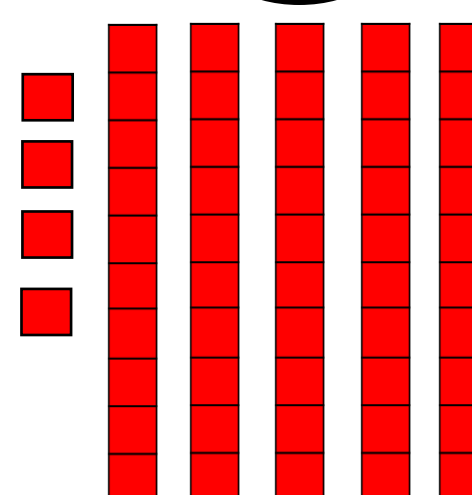
فعالیت

۱	۵
۵	۴
+	۲
۸	۱

۲۷



۵۴



۲- مرتضی ۷۴ ریال داشت. ۶۳ ریال هم از خواهرش گرفت. او روی هم چقدر پول دارد؟





	ص	د	ی
	۱	۷	۴
+		۶	۳
		۱۳	۷
	۱	۳	۷

$$\begin{array}{r}
 74 \\
 + 63 \\
 \hline
 137
 \end{array}$$

۶۳

۷۴



۳- مرتضی ۵۹۷ ریال پول دارد.

الف - اگر ۱۳۰ ریال دیگر به او پول بدهند، جمع پول هایش چقدر می شود؟ **۷ ۲ ۷**

ب - چند سکه‌ی یک ریالی دارد؟ **۷**

ج - چند سکه‌ی ۱۰ ریالی دارد؟ **۱ ۲**

د - با این تعداد سکه‌های ۱۰ ریالی می تواند چند سکه‌ی ۱۰۰ ریالی بگیرد؟ **۱**

ه - چند سکه‌ی ۱۰ ریالی باقی می ماند؟ **۲**

و - حالا روی هم چند سکه‌ی صد ریالی دارد؟ **۷**

ز - همین محاسبه را در جدول ارزش مکانی انجام دهید.

ح - اگر جمع بالا را بدون جدول به صورت زیر بنویسیم،

عدد یک به رنگ قرمز، نشان دهنده‌ی چیست؟

اضافه کردن صدتایی

۱۳۰

۵۹۷



س	د	ی
۵	۹	۷
+	۱	۰
	۱۰	۷
	۲	۷

