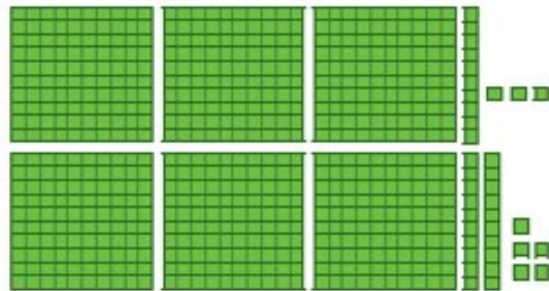


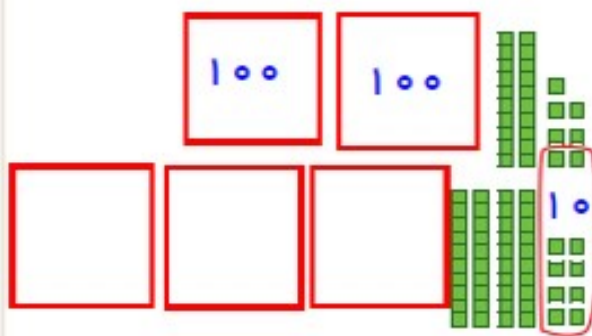


## کار در کلاس

با رسم دسته‌های صدتایی و ده‌تایی و یکی، مانند نمونه جمع‌ها را انجام دهید. در صورت لزوم ۱۰ تا یکی را به یک دسته ده‌تایی و یا ۱۰ تاده تایی را به یک دسته صدتایی تبدیل کنید.

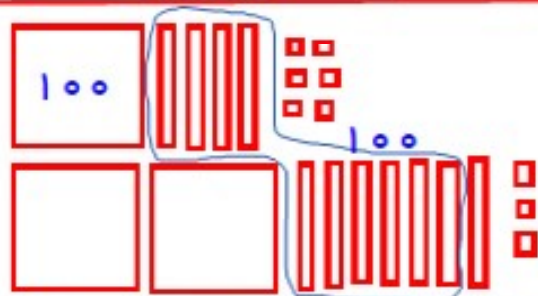


$$\begin{array}{r} 313 \\ + 325 \\ \hline 638 \end{array}$$

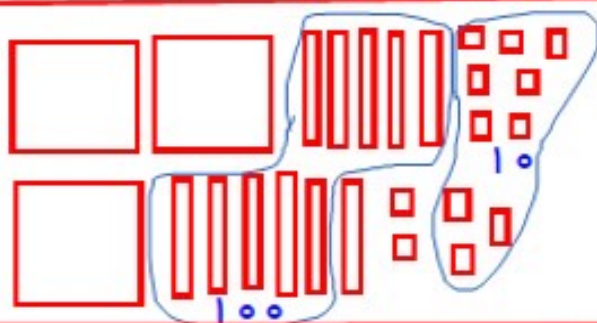


درست کردن یک دسته ده تایی با ۱۰ تا یکی

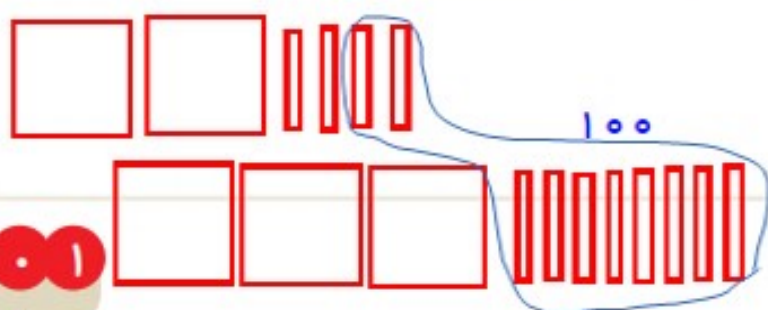
$$\begin{array}{r} 227 \\ + 348 \\ \hline 575 \end{array}$$



$$\begin{array}{r} 146 \\ + 273 \\ \hline 419 \end{array}$$



$$\begin{array}{r} 257 \\ + 165 \\ \hline 422 \end{array}$$



$$\begin{array}{r} 240 \\ + 380 \\ \hline 620 \end{array}$$