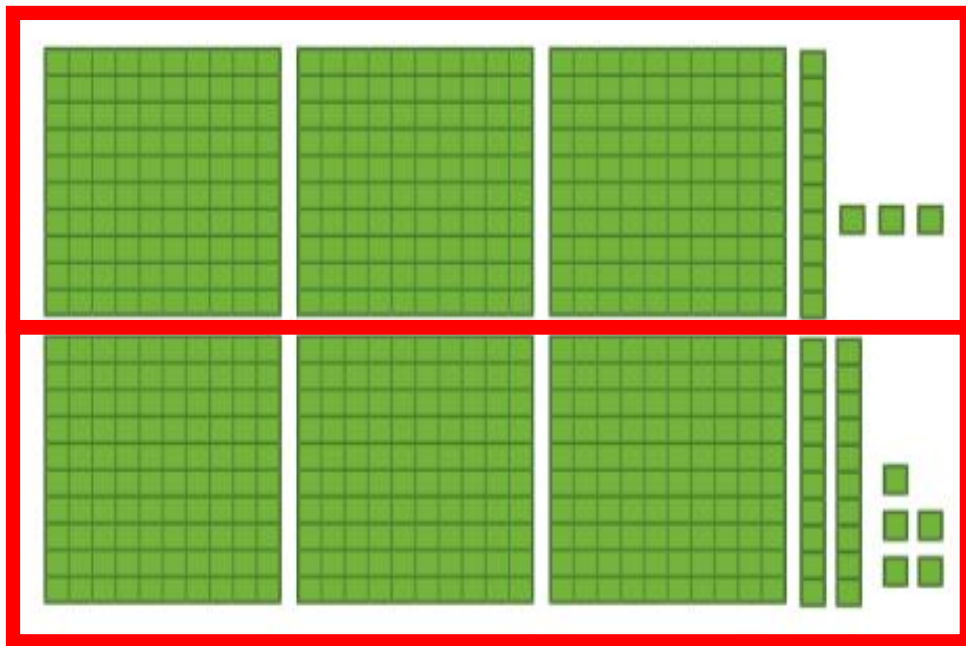


ص	د	ی
۳	۱	۳
+ ۳	۲	۵
۶	۳	۸

با رسم دسته‌های صدتایی و ده‌تایی و یکی، مانند نمونه جمع‌ها را انجام دهید. در صورت لزوم ۱۰ تا یکی را به یک دسته‌ی ده‌تایی و یا ۱۰ تا ده‌تایی را به یک دسته‌ی صدتایی تبدیل کنید.



۳۱۳

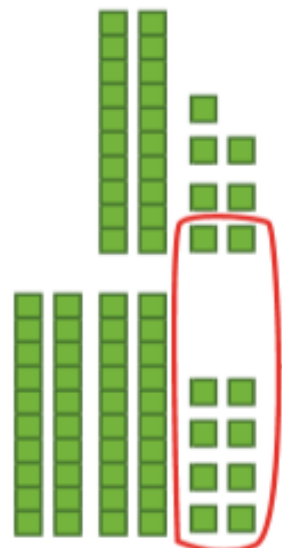
۳۲۵

$$\begin{array}{r} 313 \\ + 325 \\ \hline 638 \end{array}$$




کار در کلاس

س	د	ی
۲	۲	۷
۳	۴	۸
۵	۶	۵ ۵



درست کردن یک دسته‌ی ده تایی با ۱۰ تایی

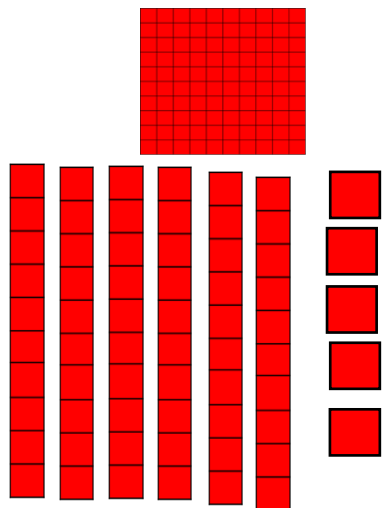
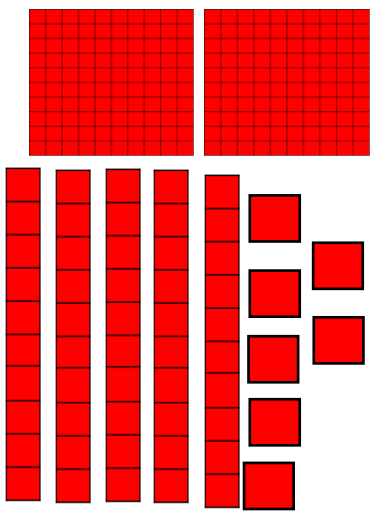
$$\begin{array}{r}
 227 \\
 + 348 \\
 \hline
 575
 \end{array}$$






س	د	ی
۱	۴	۶
۲	۷	۳
۴	۱ ۱	۹

$$\begin{array}{r}
 146 \\
 + 273 \\
 \hline
 419
 \end{array}$$

8	1	9
2	5	7
+	5	5
9	2	2



$$\begin{array}{r} 257 \\ + 195 \\ \hline 422 \end{array}$$



8	1	9
2	5	.
+	7	.
9	2	.

$$\begin{array}{r} 240 \\ + 380 \\ \hline 620 \end{array}$$



هیاوا تخصصی ترین سایت مشاوره کشور

۱- جمع‌های زیر را انجام دهید.

$$\begin{array}{r} ۲۱ \\ + ۴۳ \\ \hline ۶۴ \end{array}$$

$$\begin{array}{r} ۲۴ \\ + ۳۸ \\ \hline ۶۲ \end{array}$$

$$\begin{array}{r} ۲۷ \\ + ۹۲ \\ \hline ۱۱۹ \end{array}$$

$$\begin{array}{r} ۱۱۹ \\ + ۲۳۷ \\ \hline ۳۵۶ \end{array}$$

$$\begin{array}{r} ۱۴۵ \\ + ۲۷۳ \\ \hline ۴۱۸ \end{array}$$



۲- سینا ۱۸۰ صفحه از یک کتاب داستان را خوانده بود. در این هفته او ۵۹ صفحه‌ی دیگر را خواند. او چند صفحه از کتاب را خوانده است؟



۳ - طرف دوم تساوی را بنویسید.

$$400 + 30 + 7 = 437$$

$$200 + 70 + 6 = 276$$

$$100 + 80 + 9 = 189$$

$$200 + 30 + 100 + 400 + 7 = 737$$

۴ - احمد ۵۳۷ ریال داشت. اگر ۳۸۰ ریال دیگر از پدرش بگیرد، چقدر پول خواهد داشت؟

۵ - ارزش سکه‌های هر ردیف از شکل زیر چند ریال می‌شود؟



ریال



ریال



ریال

۳. حاصل جمع‌های زیر را بنویس. (به روش تکنیکی)

$$\begin{array}{r} 532 \\ +179 \\ \hline 711 \end{array}$$

$$\begin{array}{r} 182 \\ +151 \\ \hline 333 \end{array}$$

$$\begin{array}{r} 492 \\ +178 \\ \hline 670 \end{array}$$

$$\begin{array}{r} 525 \\ +238 \\ \hline 763 \end{array}$$

