

## به نام خداوند مهربان

۱- در یک پارک روی هم ۹ موتور برقی و ماشین برقی وجود دارد. اگر روی هم ۲۶ چرخ داشته باشند، چند ماشین و چند موتور برقی در پارک وجود دارد؟ ( راهنمایی: هر موتور ۲ چرخ و هر ماشین ۴ چرخ دارد)

۲- در یک باغ وحش ۷ کانگورو و گوزن وجود دارد. اگر آنها روی هم ۱۸ پا داشته باشند، چند گوزن و چند کانگورو در باغ وحش وجود دارد؟ ( راهنمایی: هر کانگورو ۲ پا و هر گوزن ۴ پا دارد)

۳- حاصل هر عبارت را بنویسید و علامت مناسب قرار دهید.

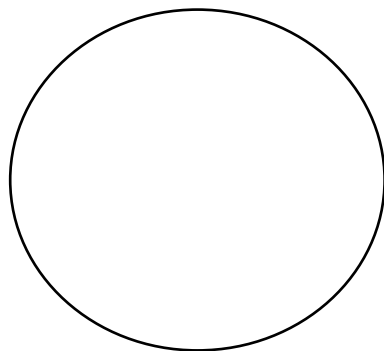
$$۴۰۰ + ۷۰ + ۹ = \dots\dots\dots \quad \bigcirc \quad ۴۰۰ + ۶۰ + ۹ = \dots\dots\dots$$

$$۵۰۰ + ۲۰ = \dots\dots\dots \quad \bigcirc \quad ۲۰۰ + ۵۰ = \dots\dots\dots$$

$$۷۰ - ۴۰ = \dots\dots\dots \quad \bigcirc \quad ۶۰ + ۳۰ = \dots\dots\dots$$

$$۸۰ - ۳۰ = \dots\dots\dots \quad \bigcirc \quad ۹۰ - ۴۰ = \dots\dots\dots$$

۴- اگر ساعت ۷:۱۵ دقیقه باشد، ۳۰ دقیقه بعد عقربه‌ی بزرگ روی چه عددی قرار می‌گیرد؟ روی ساعت نشان دهید.



۵- اگر ساعت ۹:۳۵ دقیقه باشد، یک ربع قبل ساعت چند است؟

۶- اگر ساعت ۴:۲۵ دقیقه باشد، یک ربع بعد ساعت چند است؟

۷- جاهای خالی را کامل کنید.

- ۷۵ میلی‌متر همان ----- سانتی‌متر و ----- میلی‌متر است.

- ۵ سانتی‌متر و ۰ میلی‌متر می‌شود ----- میلی‌متر.



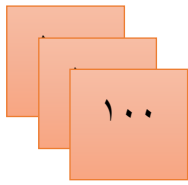
- ۶ سانتی‌متر و ۵ میلی‌متر می‌شود ----- میلی‌متر.

- ۲۳ میلی‌متر همان ----- سانتی‌متر و ----- میلی‌متر است.



- ----- میلی‌متر همان ۸ سانتی‌متر و ۴ میلی‌متر است.

- یک سانتی‌متر ----- میلی‌متر است.

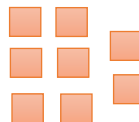

۸- با توجه به شکل‌ها، اعداد را بنویسید.



\_\_\_\_\_



\_\_\_\_\_



\_\_\_\_\_