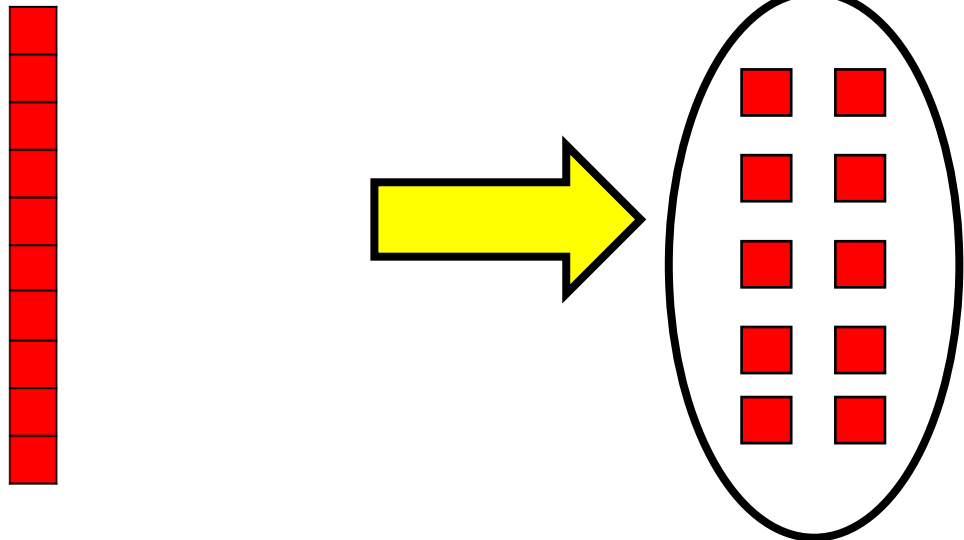







جمع در جدول ارزش مکانی ✓

تفریق تکنیکی (انتقال دادن)

۱ دسته ده تایی برابر است با ۱۰ یکی



۱ دسته صد تایی برابر است با ۱۰ دسته ۱۰ تایی



۱- یکتا ۵۶ ریال داشت.



۲۴ ریال

اگر ۳۲ ریال را صدقه دهد، چقدر پول برایش باقی مانده است؟
چند سکه از هر کدام برایش باقی مانده است؟

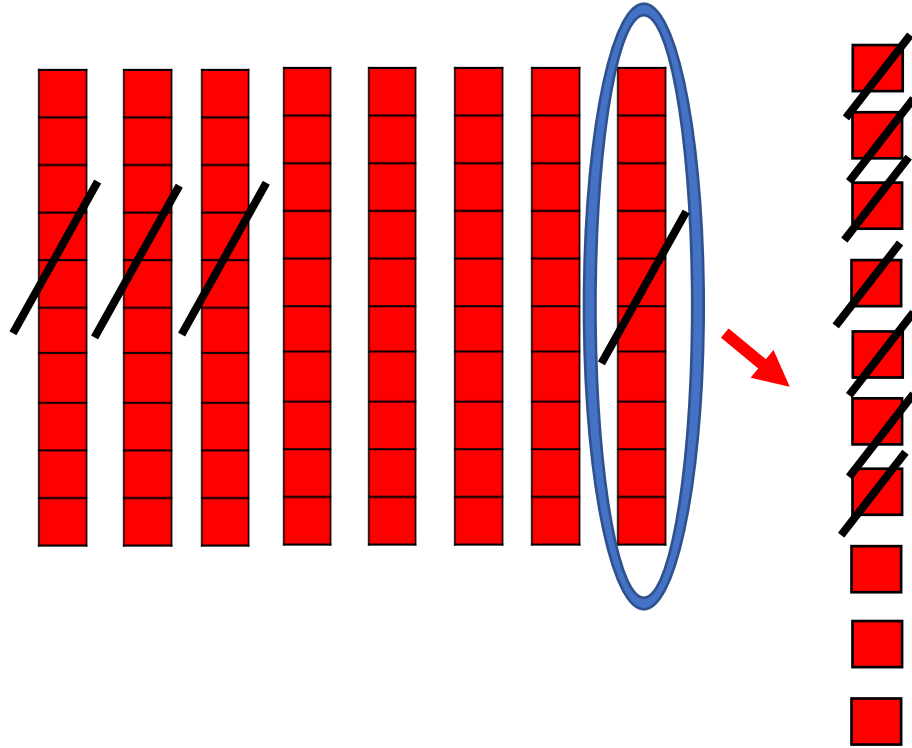

$$\begin{array}{r} 56 \\ -32 \\ \hline 24 \end{array}$$

۲ ۱۰ ریالی و ۴ ۱ ریالی

همین تفریق را در جدول ارزش مکانی انجام دهید.
این تفریق را یک بار هم بدون جدول انجام دهید.

| ۱ | ۵ |
|---|---|
| ۵ | ۶ |
| ۳ | ۲ |
| ۲ | ۴ |

۲- یگانه ۸۴ ریال داشت. اگر ۳۷ ریال را صدقه دهد، چند ریال برایش باقی می ماند؟



| ۱ | ۵ |
|--------------|--------------|
| ۷ | ۴ |
| ۳ | ۷ |
| ۶ | ۷ |