

به نام خدا

آموزگاران: رحمانی پور و سفیداری

کاربرگ مرور فصل هفتم ریاضی

۱- با توجه به جمله ی اول جمله دوم را کامل کن.

طول پاک کن من ۵ سانتی متر و ۹ میلی متر است.

➤ یعنی ----- سانتی متر و ----- قسمت از ۱۰ قسمت کوچک است.


طول مداد من ۱۲ سانتی متر و ۶ میلی متر است.

➤ یعنی ----- سانتی متر و ----- قسمت از ۱۰ قسمت کوچک است.

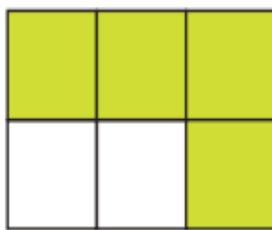
طول تراش من ۳ سانتی متر و ۸ میلی متر است.

➤ یعنی ----- سانتی متر و ----- قسمت از ۱۰ قسمت کوچک است.

۲- کدام شکل به قسمت های مساوی تقسیم شده اند؟ تعداد قسمت های مساوی آن را در زیر آن بنویس.



۳- چه بخشی از هر کل رنگ شده است؟ بنویسید.

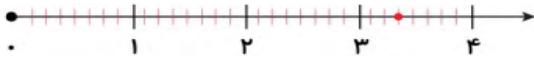


.....قسمت از..... قسمت مساوی

.....قسمت از..... قسمت مساوی

.....قسمت از..... قسمت مساوی

۴- با توجه به محور زیر پاسخ دهید.



الف) هر واحد از محور به ----- قسمت مساوی تقسیم شده است.

ب) نقطه ی مشخص شده ----- واحد و ----- قسمت از ----- قسمت مساوی است.

۵- قیمت یک مداد ۱۸۳ تومان و قیمت یک پاک کن ۱۷۹ تومان است. قیمت مداد چقدر از قیمت پاک کن بیشتر است؟ (حل مسئله ساده تر و تقریب)

۶- کامل کنید.



- ساعت زیر طوری تقسیم کن که قسمت برابر با ۱۵ دقیقه است.

- پانزده دقیقه یعنی ----- قسمت از ----- قسمت مساوی ساعت.

- سی دقیقه یعنی ----- قسمت از ----- قسمت مساوی ساعت.

۷- با توجه به شکل کامل کنید.



..... دسته ی تایی




..... دسته ی تایی

۸- در یک جعبه ی شیرینی ۳ شیرینی کاکائویی، ۴ شیرینی خامه ای و ۲ شیرینی ژله ای قرار دارد. اگر بدون نگاه کردن به داخل جعبه یک شیرینی برداریم فکر می کنی از کدام نوع باشد؟ چرا؟


۹- محور زیر چند واحد و چند قسمت را نشان می دهد؟



۱۰- با توجه به هر شکل مقدار پول مربوط به آن را نوشته و جاهای خالی را با اعداد مناسب پر کنید.

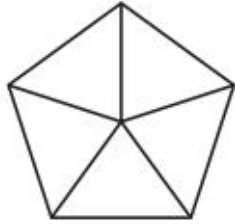


----- ریال را می توان به صورت ----- ده تایی و ----- قسمت از ۱۰ قسمت مساوی نشان داد.

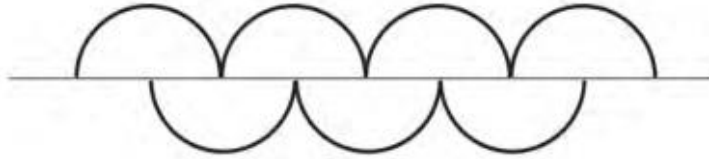


----- ریال را می توان به صورت ----- ده تایی و ----- قسمت از ۱۰ قسمت مساوی نشان داد.

۱۱- در هر شکل، کسر خواسته شده را رنگ آمیزی کن.



۲ قسمت از ۵ قسمت مساوی



۵ قسمت از ۷ قسمت مساوی

۱۲- رضا ۳۷۶ امتیاز دارد. او امروز ۳۵ امتیاز گرفت، حالا او چند امتیاز دارد؟ آیا او می تواند یک جایزه ی ۴۰۰ امتیاز ببرد؟

۱۳- در هر یک از شکل های زیر با تقسیم کردن شکل به قسمت های مساوی کسر خواسته شده را رنگ بزن.

۲ قسمت از ۵ قسمت مساوی	۴ قسمت از ۶ قسمت مساوی	۳ قسمت از ۴ قسمت مساوی	۱ قسمت از ۲ قسمت مساوی