


۱- یک مربع بکشید و آن را به چهار قسمت تقسیم کنید و یک قسمت را رنگ کنید.



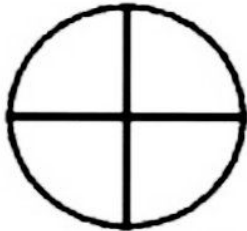
۲- عبارتهای زیر را کامل کنید.



..... قسمت از ..... قسمت رنگی است.

..... قسمت از ..... قسمت رنگی است.

۳- با توجه به عبارت ها، شکل ها را رنگ بزنید.



دو قسمت از ۴ قسمت رنگی


۲ قسمت از ۶ قسمت رنگی

یک قسمت از دو قسمت رنگی

۴- اگر ساعت ۷ تمام باشد و عقربه بزرگ یک ربع بگذرد ساعت چند است؟ .....

عقربه بزرگ چند قسمت از چند قسمت را طی کرده است؟ .....

۵- در هر شکل چند قسمت را به دلخواه رنگ کنید و سپس عبارت ها را کامل کنید.



..... قسمت از ..... قسمت مساوی



..... قسمت از ..... قسمت مساوی

۶- کامل کنید.

۲۸ یعنی ..... ده تایی و ..... قسمت از ۱۰ قسمت مساوی

۵۴ یعنی ..... ده تایی و ..... قسمت از ۱۰ قسمت مساوی

۷- انگشت نشانه را اندازه گیری کنید و عبارت زیر را کامل کنید.

..... میلی متر یعنی ..... سانتی متر و ..... قسمت از ۱۰ قسمت مساوی

۸- کامل کنید.

در یک ظرف ۱۵ میوه است ۶ تا سیب قرمز و بقیه سیب زرد هستند.

..... قسمت از ..... قسمت سیب قرمز هستند.

..... قسمت از ..... قسمت هستند.