

۶۵- علی ۷۹۸ ریال پول دارد. اگر ۳۷۴ ریال دیگر از مادرش بگیرد، چقدر پول خواهد داشت؟

۶۶- قد خواهر رضا ۱۶۴ سانتی متر است. اگر رضا از خواهرش ۱۷ سانتی متر بلندتر باشد. رضا و خواهرش روی هم چند سانتی متر قد دارند؟

۶۷- با توجه به شکل جملات را کامل کنید.



----- قسمت از ----- قسمت رنگ شده است.

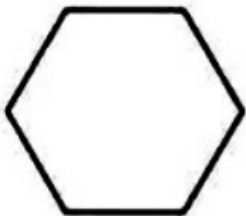


----- قسمت از ----- قسمت رنگ نشده است.




----- قسمت از ----- قسمت رنگ شده است.

۶۸- با توجه به عددی که زیر هر شکل نوشته شده، شکل ها را به قسمت های مساوی تقسیم کنید




۶



۲



۸



۴

۶۹- جاهای خالی را کامل کنید.

۸۷ یعنی ----- ده تایی و ----- قسمت از ۱۰ قسمت مساوی است.

----- یعنی ۷ ده تایی و ۴ قسمت از ----- قسمت مساوی است.

۷۰ ریال برابر با ۶ ----- و ----- قسمت از ۱۰ قسمت مساوی است.