

۱) برای عبارت های زیر دسته و شکل زیبا بکش.

۴ دسته ۶ تایی می شود

۷ دسته ی دو تایی می شود

۸ تا ۳ تایی می شود

۲) علی ۷ سال دارد و پدرش ۳۷ سال دارد . چند سال دیگر علی هم سن الان

پدرش می شود؟ ((یعنی چندسال دیگر علی ۳۷ سالش می شود))

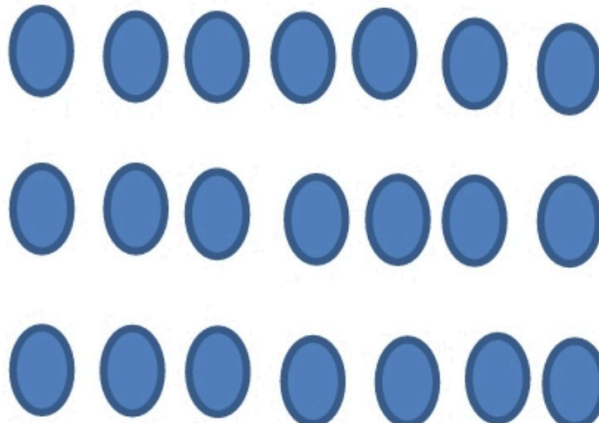
با استفاده از روش نمادین سازی حل شود.

۳) قیمت یک خودکار و دو دفتر ۸۴۰ تومان است. اگر قیمت هر دفتر ۲۰۰

تومان باشد قیمت خودکار را بدست آورید.

۴) شکل های زیر را به دو صورت دسته بندی کن.

..... دسته تایی می شود
..... دسته تایی می شود



۱) من چه عددی هستم؟ اگر من را با ۳۷ جمع کنید حاصل من ۷۴ می شود.

روش نمادین)

$$\dots + 37 = 74$$

۲) برای عبارت زیر شکل بکش. (۳ تا ۹ تایی می شود)

۳) به سوالات مربوط به ساعت با دقت جواب بده.

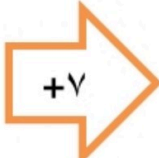
یک ربع بعد از ۸:۵۵ می شود

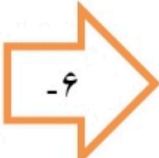
نیم ساعت قبل از ۷ می شود.....

۴۵ دقیقه بعد ۸:۱۵ می شود

دقت حل کن.

۴) ماشین های ورودی خروجی زیر را با

۱۰		
۲۵		
۱۲		
۸		

۲۵		
۱۲		
۱۹		
۳۴		