

نام: به نام خدا

کاربرگ هفتگی

نام خانوادگی:

اردیبهشت ماه ۱

پایه دوم دبستان

کلاس:



ریاضی: فصل ۸ (درس ۳ تا ۳)

۱- امروز ما به همراه معلم خود به اردو رفتیم. وقت ناهار هر کسی غذایی را که از خانه آورده بود، به دیگران هم تعارف می کرد. در آن روز، دوستی ها و مهربانی ها را همراه با غذا به هم می دادیم و چه لذت بخش بود! غذاهایی که بچه ها آورده بودند، عبارت بود از:

باقالی پلو - عدس پلو - باقالی پلو - ماکارونی - عدس پلو - زرشک پلو - ماکارونی - ماکارونی - باقالی پلو
ماکارونی - باقالی پلو - عدس پلو - ماکارونی - ماکارونی - زرشک پلو - عدس پلو - ماکارونی - عدس پلو
ماکارونی - عدس پلو - ماکارونی - عدس پلو - باقالی پلو - ماکارونی - عدس پلو

با توجه به این غذاها، جدول را کامل کن و به پرسش ها پاسخ بده.

نام غذا	چوب خط	تعداد
باقالی پلو		
عدس پلو		
زرشک پلو		
ماکارونی		

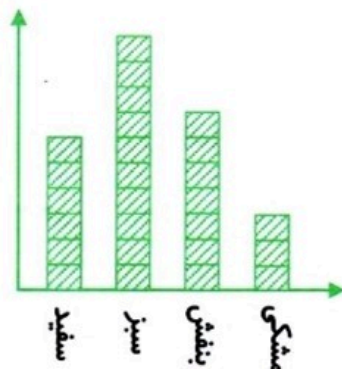
الف) بچه ها در این اردو چند نفر بودند؟

ب) کدام غذا بیش تر تکرار شده است؟

ج) کدام غذا کم تر تکرار شده است؟

پس می توانیم نتیجه بگیریم که بچه های آن کلاس، غذای را بیش تر و غذای را کم تر دوست دارند.

۲- معلم با کیسه ای پر از مهره های رنگی به کلاس آمد و از هر دانش آموز خواست تا مهره ای بردارد. همه برداشتند و مهره ها تمام شد. بعد معلم با توجه به رنگ مهره ای که به هر کس افتاده بود، نمودار زیر را رسم کرد.



☺ در کیسه، کدام رنگ بیش تر بود؟

☺ در کیسه، کدام رنگ کم تر بود؟

☺ در کیسه چند مهره بود؟

☺ در این کلاس چند دانش آموز حضور داشتند؟

۳- همی عددای زوج یکرقمی را بنویس: ←

همی عددای فرد یکرقمی را بنویس: ←

۴- الگویابی کن و سپس شمارش را ادامه بده. عددای زوج را مشکی و عددای فرد را قرمز بنویس.



۵- پاسخ بده.

عددای زوج یکرقمی بزرگتر از ۴ چه عددایی هستند؟

کوچکترین عدد زوج یکرقمی چه عددی است؟

بزرگترین عدد فرد یکرقمی چه عددی است؟

سه عدد بعد از ۴۹ زوج است یا فرد؟

عددی دورقمی هستم که یکانم کوچکترین عدد زوج یکرقمی و دهگانم بزرگترین عدد زوج

یکرقمی است. من چه عددی هستم؟

عدد سهرقمی که یکانش زوج باشد، زوج است یا فرد؟

۶- در کلاسهای هنری مسجد محله‌ی ما ۳۲۰ نفر شرکت کردند. اگر ۱۸۳ نفر از بچه‌های مدرسه‌ی ما باشند:

چند نفر از بچه‌های مدرسه‌ی ما نیستند؟

اگر ۱۶۹ نفر از شرکت‌کنندگان، دختر باشند، چند نفر پسر هستند؟

دخترها بیش‌تر ثبت‌نام کردند یا پسرها؟




۱۷۰ ریال

۷- الهه دو مداد ۱۷۰ ریالی خریده و ۸۵ ریال برایش باقی مانده است.


الف) او چند ریال خرج کرده است؟

ب) او قبل از خرید چند ریال داشته است؟

۸- عبارت هر شکل را کامل کن.




..... می شود



..... می شود



9
7
10
8



3
5
9
7