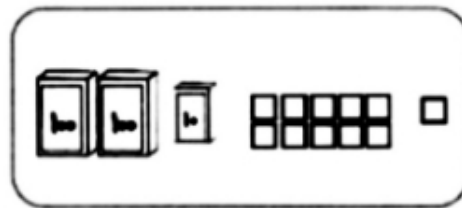




ریاضی؛ فصل ۲ (درس ۱ تا ۳)

۱- عدد هر شکل را در جای خالی بنویس.

در این دو شکل چه چیزی تغییر کرده است؟ چرا؟



۲- حاصل جمع و تفریق‌های زیر را بنویس.

$$\begin{array}{r} 642 \\ + 129 \\ \hline \end{array}$$

$$\begin{array}{r} 906 \\ - 176 \\ \hline \end{array}$$

$$\begin{array}{r} 573 \\ + 175 \\ \hline \end{array}$$

$$\begin{array}{r} 259 \\ + 174 \\ \hline \end{array}$$

$$\begin{array}{r} 500 \\ - 123 \\ \hline \end{array}$$

$$\begin{array}{r} 403 \\ - 119 \\ \hline \end{array}$$



۳- طول این ساعت چند سانتی‌متر است؟

بند کوتاه آن سانتی‌متر است.

بند بلند آن بین و سانتی‌متر است که دقیقاً سانتی‌متر و میلی‌متر می‌شود.

۴- با توجه به جمله‌ی اول، جمله‌ی دوم را کامل کن.

😊 طول پاک‌کن من ۵ سانتی‌متر و ۹ میلی‌متر است.

یعنی سانتی‌متر و قسمت از ۱۰ قسمت کوچک است.

😊 طول مداد من ۱۲ سانتی‌متر و ۶ میلی‌متر است.

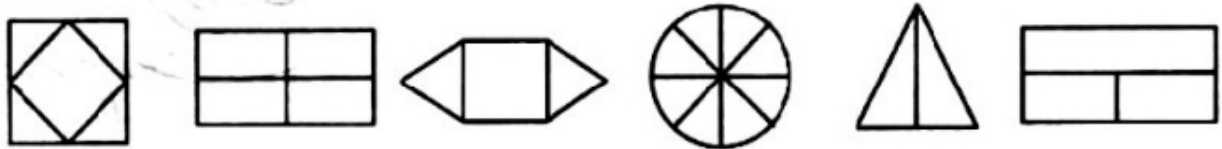
یعنی سانتی‌متر و قسمت از ۱۰ قسمت کوچک است.

😊 طول تراش من ۳ سانتی‌متر و ۵ میلی‌متر است.

یعنی سانتی‌متر و قسمت از ۱۰ قسمت کوچک است.



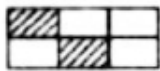
۵- کدام یک از شکل‌های زیر به قسمت‌های مساوی تقسیم شده است؟ (آن‌ها را رنگ کن.)



۶- با توجه به شکل‌ها، عبارات را کامل کن.



الف) قسمت از قسمت مساوی رنگ شده است.



ب) قسمت از قسمت مساوی رنگ شده است.



ج) قسمت از قسمت مساوی رنگ شده است.

۷- یک مستطیل بکش که ضلع‌های بلندش ۴ سانتی‌متر و ضلع‌های کوتاهش ۲ سانتی‌متر باشند.

حالا با توجه به عبارت زیر، آن را تقسیم‌بندی کن.

۴ قسمت از ۸ قسمت آن را رنگ کن.

۸- پول آرش ۳۶۵ ریال است و پول برادرش ۱۷۲ ریال کم‌تر از او است.

برادر آرش چند ریال دارد؟

آن‌ها روی هم چند ریال دارند؟

۹- در جای خالی، عدد مناسب بنویس.



⊗ ۶ میلی‌متر یعنی قسمت از ده قسمت مساوی است.


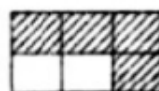
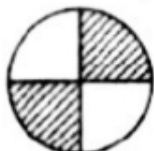
⊗ عدد ۳۷ یعنی ده‌تایی و قسمت از ده قسمت مساوی است.

⊗ ۵ ریال یعنی قسمت از ده قسمت مساوی است.

⊗ نیم ساعت یعنی قسمت از قسمت ساعت.

⊗ ربع یعنی قسمت از قسمت ساعت.

۱۰- برای قسمت‌های رنگ شده‌ی این شکل‌ها عبارت بنویس.



..... قسمت از قسمت مساوی قسمت از قسمت مساوی قسمت از قسمت مساوی

۱۱- پارسال جمع سن سارا، بیتا و لیلی ۱۸ سال بود. امسال جمع سن آنها چه قدر است؟ (کانگورو)

الف) ۲۱ سال ب) ۲۲ سال ج) ۲۳ سال د) ۲۴ سال ه) ۲۵ سال

