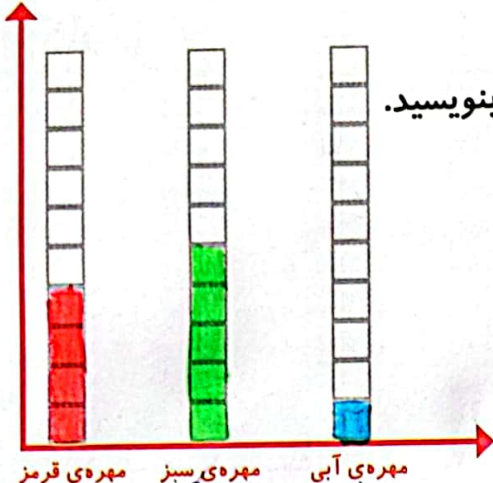


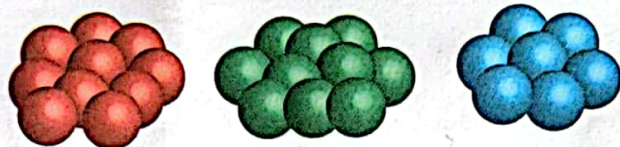
# نمودار ستونی




۱- در داخل کیسه ۵ تا مهره‌ی سبز و ۴ تا مهره‌ی قرمز و ۳ تا مهره‌ی آبی قرار دهید. هر بار بدون نگاه کردن به داخل آن، یکی را در بیاورید و یک مربع از نمودار زیر را رنگ کنید؛ مهره را دوباره در داخل کیسه قرار دهید. این آزمایش را ۱۰ بار تکرار کنید و نمودار را کامل کنید.



تعداد مربع‌های رنگ شده را بالای ستون آن رنگ بنویسید.



۲- نمودار ستونی ساعات درس خواندن (مدرسه، انجام تکالیف و مطالعه) خود را با رنگ کردن یک مربع برای هر ساعت کامل کنید.



با رسم کردن نمودارهای ستونی نمایش بهتری از اطلاعات خواهیم داشت و مقایسه کردن ساده‌تر می‌شود. شما به راحتی می‌توانید بیشترین و کمترین مقادارها را پیدا کنید.

## الگویابی کن

الگوها را ادامه دهید.

۲۵, ۲۳, ۲۱, ۱۹, ۱۷, ۱۵, ۱۳, ۱۱, ۹, ۷, ۵, ۳, ۱: عددهای فرد

۲۶, ۲۲, ۲۰, ۱۸, ۱۶, ۱۴, ۱۲, ۱۰, ۸, ۶, ۴, ۲: عددهای زوج

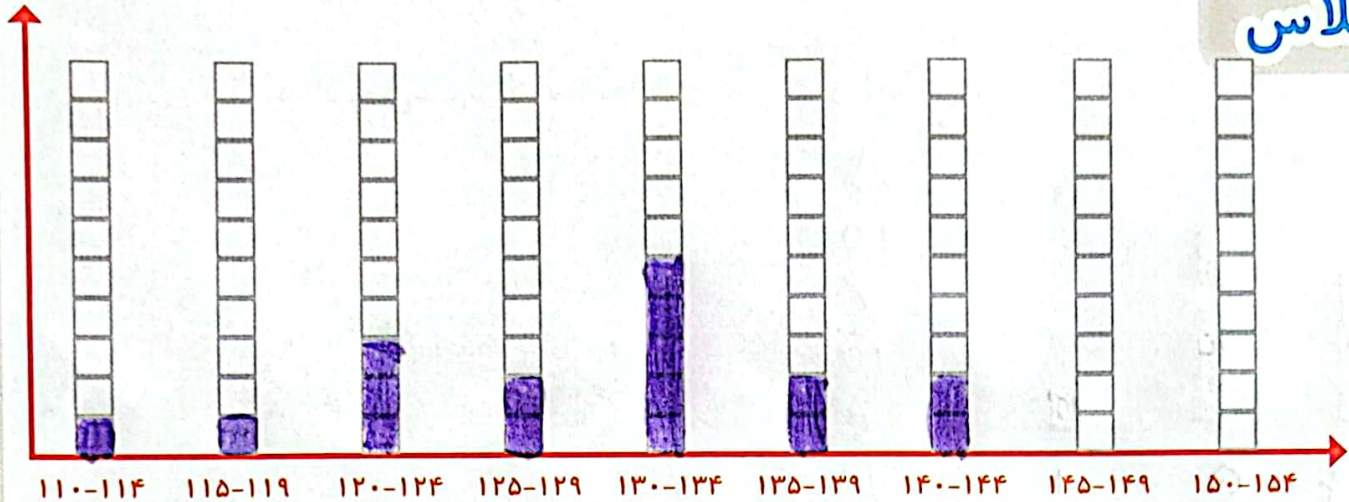


عدد زوج = عدد فرد  
عدد فرد = عدد زوج



## کار در کلاس

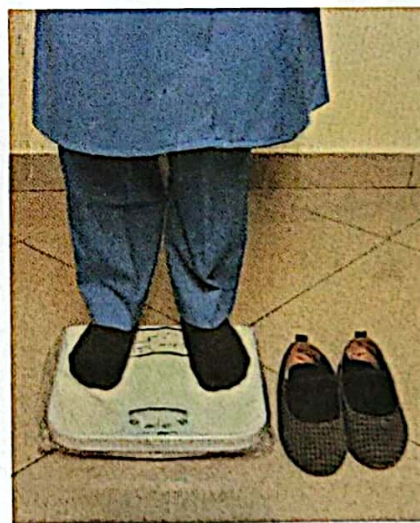
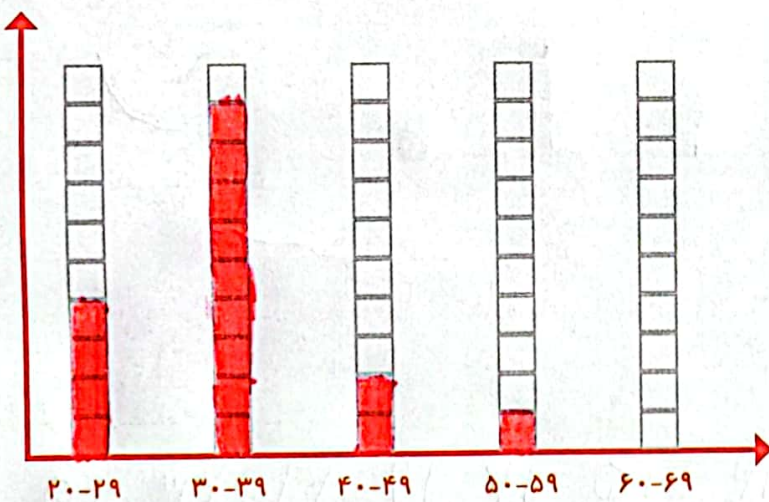
۱- به کمک آموزگار قد دانش آموزان کلاس را اندازه بگیرید. با توجه به عددهای نوشته شده برای هر نفر در ستون مربوطه یک مربع رنگ کنید. برای مثال اگر قد دانش آموزی ۱۲۳ سانتی متر بود، شما باید در ستون ۱۲۰-۱۲۴ یک مربع برای او رنگ کنید.



بیشتر دانش آموزان در چه قسمتی قرار گرفته اند؟

۱۳۵-۱۳۹

۲- همین کار را برای وزن هم انجام دهید. آموزگار وزن هر کس را اعلام کرد، شما در ستون مربوطه یک مربع را رنگ کنید.



نکته

در عدد های دورقمی و سه رقمی اگر یکای آن عدد (۱-۳-۵-۷-۹) باشد آن عدد زوج است و

اگر یکای آن عدد (۲-۴-۶-۸) باشد آن عدد فرد است .

(در قسمت زوج و فرد صفحہ ۱۴۱ پایین صفحہ نویسنده شود)