

نام و نام خانوادگی:

تاریخ:

پایه:

نام آموزگار:

پیک آدینه دوم دبستان

۲۸

هفته‌ی

بهدیه‌بلدی
ممتوایی

فصل ۷- مفهوم احتمال و کسر

ریاضی

درس ۱۲- برای جشن آماده می‌شویم

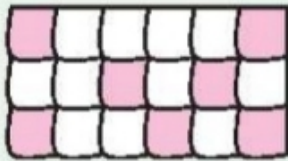
علوم

درس ۱۵- نوروز

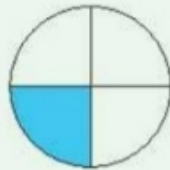
فارسی

ریاضی

۱ کسر مقدار رنگ شده از هر شکل را زیر آن بنویس.



(پ) قسمت از



(ب) قسمت از



(الف) قسمت از

۲ یک صفحه چرخنده به صورت زیر رنگ آمیزی شده است. احتمال ایستادن عقربه بر روی هر کدام از رنگ‌ها را مقایسه کرده و در جاهای خالی از کلمات (کمتر - بیشتر - مساوی) استفاده کن.



(الف) احتمال ایستادن عقربه بر روی رنگ سبز از رنگ زرد است.

(ب) احتمال ایستادن عقربه بر روی رنگ زرد با احتمال ایستادن عقربه بر روی رنگ آبی است.

(پ) احتمال ایستادن عقربه بر روی رنگ آبی از رنگ سبز است.

۳ در یک جعبه ۵۰ مهره قرمز و آبی داریم. اگر ۲۳ مهره قرمز باشد، احتمال بیرون آمدن کدام مهره از جعبه کم‌تر است؟

۴ برنا ساعت ۷ از خانه بیرون آمد و ۱۵ دقیقه بعد به مدرسه رسید. او چند قسمت از یک ساعت را در راه بوده است؟



۵ برنا ۲۵۹ تومان پول دارد. اگر او ۱۶۵ تومان بگیرد می‌تواند یک دفتر بخرد. قیمت این دفتر چقدر است؟

۶ با توجه به شکل جمله‌ها را کامل کن.



الف) دسته تایی می‌شود ب) دسته تایی می‌شود

علوم

۱ کدام یک از تصاویر زیر ماده‌ی جامد نیست؟ دور آن‌ها خط بکش.



(لباس)



(هوای داخل بادکنک)



(نقشه)



(آب)



(صندلی)

۲ جاهای خالی را با چسباندن برچسب کلمات مناسب کامل کن.

الف) به همه‌ی چیزهایی که در اطراف خود می‌بینیم می‌گوییم.

ب) به چیزهایی که شکل معینی دارند می‌گوییم.

پ) مواد شکل ظرف را به خود می‌گیرند.

ت) مواد جامد مانند و هستند.

۳ کلمه‌های زیر را در گروه مناسب خود قرار بده.

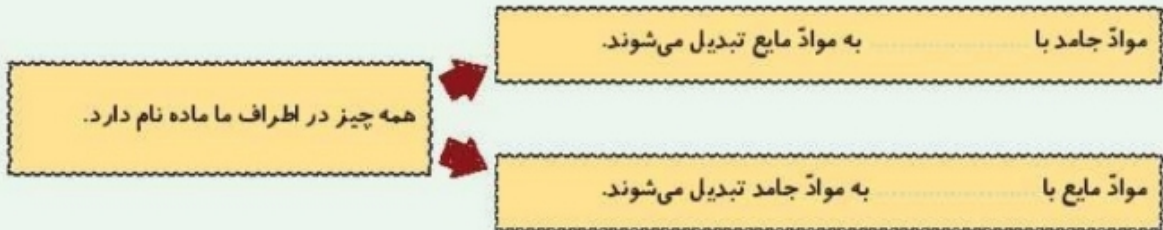
شربت - آهن - دوغ - آلبیمو - سنگ - مبل - کیف - شیر

جامد ←

مایع ←



۴ جاهای خالی را پر کن.



نادرست



درست



۵ درست یا نادرست بودن جمله‌های زیر را مشخص کن.

- (الف) آب یک ماده جامد است.
 (ب) اگر یخ را گرم کنیم به حالت مایع درمی‌آید.
 (پ) مواد جامد از خود شکلی ندارند و همه جا پخش می‌شوند.
 (ت) یخ شکل ظرف را به خود می‌گیرد.

فارسی

۱ کدام کلمه، هم‌معنی کلمه‌ی داخل کمانک است؟

«نوروز، (آغاز) فصل سرسبزی طبیعت است.»

آخر (۴)

تمام (۳)

شروع (۲)

پایان (۱)

۲ واژه‌های مناسب را انتخاب و در جاهای خالی بنویس.

- (الف) کسی است که به دیگران کمک می‌کند.
 (ب) کسی که ظلم و ستم می‌کند نام دارد.
 (پ) به کسی که کار نیک انجام می‌دهد می‌گویند.

۳ در جاهای خالی کلمه‌های مناسب بنویس.

- (الف) در کشور ما روز لؤلُف فروردین را می‌گویند.
 (ب) مردم ما، پیش از نوروز، می‌کنند.
 (پ) در نوروز مردم به جاهای زیارتی، آرامگاه شهیدان و نیز می‌روند.

مددکار نیکوکار
 ستم‌کار

۴ معنی کلمات زیر را بنویس.

نخستین:
 کهن:
 در این هنگام:
 اعضا:

۵ به جای نقطه چین‌ها، کلمه‌هایی بگذار تا کلمه‌های جدیدی درست شود، سپس معنی هر یک را بنویس.

.....	یعنی:	← ← ← کار +
.....	یعنی:
.....	یعنی:

۶ عمو نوروز چه روزی می‌آید؟

(۱) آخر بهار (۲) اول بهار (۳) آخر اسفند (۴) آخر فروردین

نیاز به تلاش	قابل قبول	خوب	خیلی خوب	شاخص‌ها
				تشخیص حالت ماده
				علت تغییر حالات ماده
				کلمات هم‌معنی
				مفهوم کلمات ترکیبی یا (کار)
				درک مطلب

نیاز به تلاش	قابل قبول	خوب	خیلی خوب	شاخص‌ها
				تشخیص مقدار کسری شکل‌ها
				مفهوم احتمال روی چرخنده
				حل مسئله‌ای احتمال
				ارتباط ساعت و کسر
				ایجاد دست‌های مساوی (مفهوم ضرب)

