

# نمودار تصویری



۱- عدد ۲۳ به ۲۰ نزدیک تر است یا ۳۰؟ ۲۰

عدد ۴۷ به ۴۰ نزدیک تر است یا ۵۰؟ ۵۰

عددهای زیر را به نزدیک ترین ده تایی به صورت تقریبی بنویسید.

۳۶ → ۴۰      ۵۲ → ۵۰      ۲۱ → ۲۰      ۱۹ → ۲۰



۲- در یک دبستان تعداد دانش آموزان کلاس های اول تا ششم به صورت زیر است:

ششم	پنجم	چهارم	سوم	دوم	اول	کلاس
۳۱	۲۸	۳۹	۴۴	۴۸	۶۱	تعداد دانش آموزان
۳۰	۳۰	۴۰	۴۰	۵۰	۶۰	تعداد تقریبی

ابتدا تعداد تقریبی دانش آموزان در کلاس را مانند سؤال اول بنویسید و جدول را کامل کنید.

اگر هر ۱۰ دانش آموز را با نشان دهیم، نمودار زیر را مانند نمونه کامل کنید.





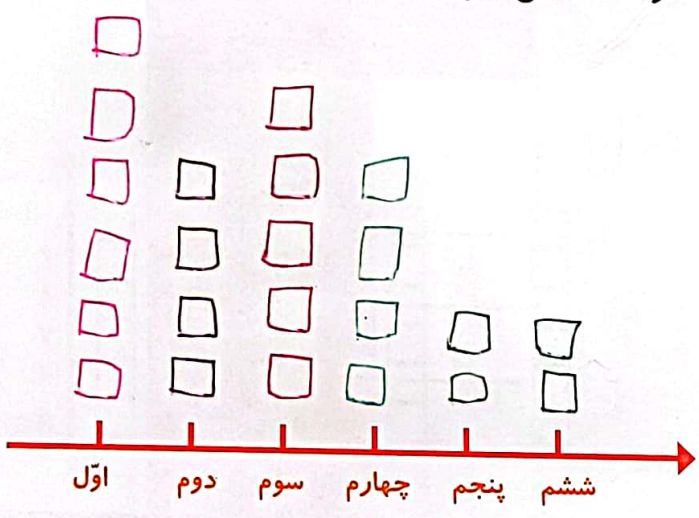


## کار در کلاس

۱- از آموزگار تعداد دانش آموزان کلاس‌های مدرسه‌ی خودتان را بپرسید و جدول را کامل کنید.  
سپس تعداد تقریبی هر کلاس را پیدا کنید.


ششم	پنجم	چهارم	سوم	دوم	اول	کلاس
۱۶	۱۸	۳۶	۵۶	۶۲	۶۳	تعداد دانش آموزان
۲۰	۲۰	۴۰	۵۰	۴۰	۶۰	تعداد تقریبی

با در نظر گرفتن یک  برای هر ۱۰ دانش آموز، نمودار را کامل کنید.



۲- تعداد خانه‌ها در چند خیابان در جدول زیر مشخص شده است. اگر هر ۱۰ خانه را با  نشان دهیم، جدول را کامل کنید.

نمودار تصویری	تعداد خانه‌ها	نام خیابان
	۴۰	انقلاب
	۶۰	آزادی
	۵۰	استقلال
	۳۵	امام رضا








کار در کلاس



۱. در جدول زیر میزان تصادفات تهران در هفته‌ی گذشته نشان داده شده است. نمودار تصویری مربوط به جدول را رسم کرده، سپس به پرسش‌های زیر پاسخ بده.

روزهای هفته	شنبه	یکشنبه	دوشنبه	سه شنبه	چهارشنبه	پنجشنبه	جمعه
تعداد تصادفات	۲۹	۱۳	۱۵	۵	۴۹	۳۴	۱۸
تعداد تقریبی	۳۰	۱۰	۲۰	۱۰	۵۰	۳۰	۲۰



الف) بیشترین آمار تصادف در کدام روز هفته بوده است؟

چهارشنبه

ب) کمترین آمار تصادف در کدام روز هفته بوده است؟

یکشنبه و سه شنبه

۲. در شکل زیر ۴ جزیره دیده می‌شود. اگر بخواهیم بین همه آن‌ها پل بسازیم چند پل باید ساخته شود؟



۳. مجموع سن درنا و مادرش ۶۷ سال است. اگر درنا ۱۹ ساله باشد، سن مادرش چقدر است؟ سن مادر ۴۸ است.

سن درنا = ۱۹      ۱۹ + ۴۸ = ۶۷

سن مادر = ؟      ۱۹ + ۵۰ = ۶۹

۱۹ + ۴۸ = ۶۷

سن مادر ۴۸ سال دوم

