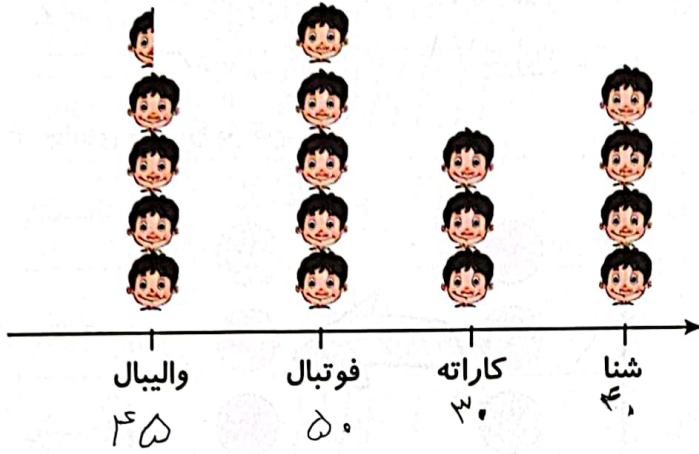


تمرین



۱. برنا در بین کلاس دومی‌های علوی، برای چهار رشته ورزشی، آمار علاقه‌مندی را به شکل نمودار تصویری کشیده است. با توجه به نمودار به پرسش‌ها پاسخ بده. (به نشانه ۱۰ نفر علاقه‌مند است)

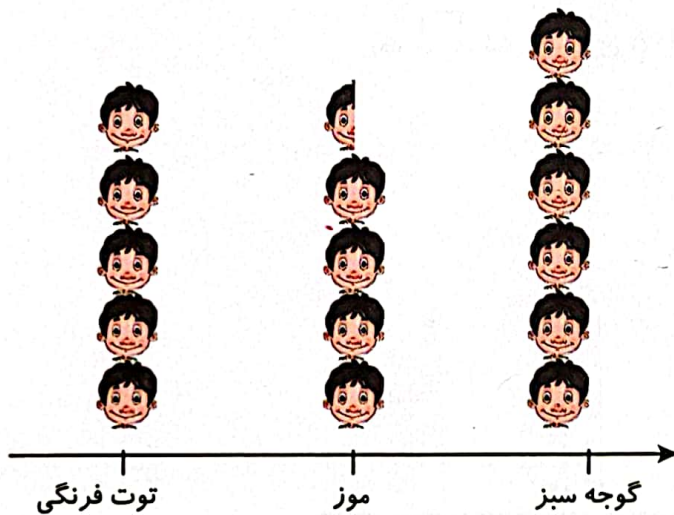
الف) کدام ورزش بیشترین علاقه‌مند را دارد؟ فوتبال

ب) چند نفر به ورزش والیبال علاقه دارند؟ ۴۵ نفر

پ) علاقه‌مندان به کدام ورزش کمترین تعداد را دارند؟ کاراته

۲. نمودار تصویری زیر تعداد علاقه‌مندان به میوه‌های موز، توت فرنگی و گوجه سبز را در یک مدرسه نشان می‌دهد. تعداد علاقه‌مندان به هر میوه را بنویس.

۱۰ نفر =



تعداد	علاقه‌مندان
۴۵	موز
۵۰	توت فرنگی
۶۰	گوجه سبز



۳. در نایک دفتر و یک پاک کن خرید و ۷۸ ریال پول داد. اگر قیمت هر دفتر ۵۳ ریال باشد، قیمت پاک کن

چقدر است؟


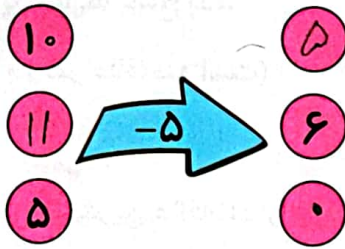
$$53 + \boxed{25} = 78$$

$$53 + \boxed{20} = 73 \quad \times \text{ حدس اول}$$

قیمت پاک کن ۲۵ ریال است.

$$53 + \boxed{25} = 78 \quad \checkmark \text{ حدس دوم}$$

۴. جاهای خالی را پر کن.

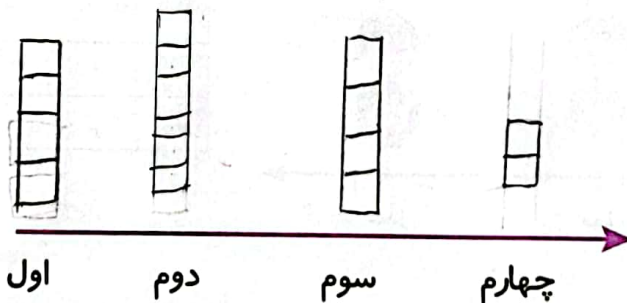


۵. تعداد دانش آموزان کلاس اول تا چهارم در مدرسه‌ای در جدول زیر آمده است نمودار تصویری را برای آن

رسم کن.

کلاس	اول	دوم	سوم	چهارم
تعداد دانش آموزان	۱۶	۳۱	۲۲	۱۴
تعداد تقریبی دانش آموزان	۲۰	۳۰	۲۰	۱۰

(هر نشان دهنده ۵ دانش آموز می باشد)





۶. جدول سمت چپ نشان می‌دهد که دانش‌آموزان کلاس دوم مدرسه علوی به چه فصل‌هایی علاقه‌مند می‌باشند. جدول سمت راست را کامل کن.

فصل‌ها	تعداد دانش‌آموزان	فصل‌ها	تعداد دانش‌آموزان
بهار	۱۲	بهار	
تابستان	۱۰	تابستان	
پاییز	۵	پاییز	
زمستان	۶	زمستان	

دو دانش‌آموز یک دانش‌آموز



مسک‌فهرست

با جابه‌جا کردن فقط یک پوچ کبریت تساوی مقابل را درست کنید.

