

نام و نام خانوادگی:

آموزگار: خانم کاشانی

موضوع:

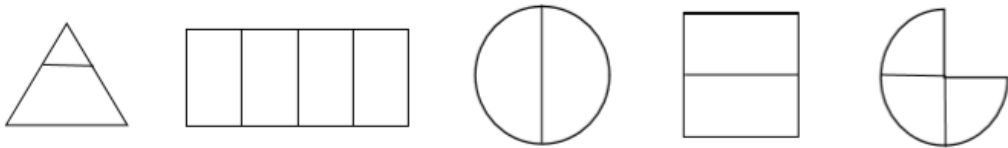
پایه:

تاریخ:

هدف:




۱- برای کدام شکل نمی توان کسر نوشت؟ چرا؟



۲- دایره ی روبرو را به ۳ قسمت مساوی، تقسیم کنید و ۲ قسمت آن را رنگ بزنید.

* قسمت از قسمت مساوی، رنگ نشده است.

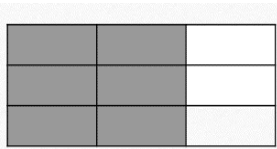


۳- مستطیل روبرو را به ۶ قسمت مساوی، تقسیم کنید و هر ۶ قسمت آن را رنگ بزنید.

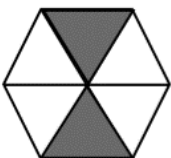
* قسمت از قسمت مساوی، رنگ شده است.

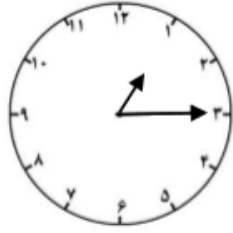


۴- قسمت از قسمت مساوی مستطیل، رنگ نشده است.



۵- قسمت از قسمت مساوی شش ضلعی، رنگ شده است.





۶- ساعت چند است؟

اگر عقربه‌ی بزرگ، یک ربع بچرخد.

* حالا ساعت چند است؟

* مقدار چرخش آن را رنگ کنید.

* بگویند مقدار چرخش عقربه‌ی بزرگ، چند قسمت از صفحه‌ی ساعت است؟

.....

