



نام و نام خانوادگی:

تاریخ:

۱. برنا در جدول زیر تعداد صفحات کتابی را که در یک هفته خوانده است را با چوب خط نمایش داده است. با توجه به جدول، تعداد صفحات کتاب را حساب کن. (ابتدا جدول را کامل کن.)

روز	چوب خطها	تعداد
شنبه		۸
یکشنبه	-	۵
دوشنبه		۱۱
سه شنبه		۱۰
چهارشنبه		۹
پنجشنبه	-	۸
جمعه		۳
مجموع		۵۳

۲. درنا ۱ بسته مداد رنگی و یک دفتر خرید. اگر قیمت ۱ بسته مداد رنگی ۲۰۰ ریال باشد و او روی هم ۵۶۰ ریال پول داده باشد، قیمت هر دفتر چقدر است؟

قیمت مداد رنگی + قیمت دفتر = کل پول

$$\square + 200 = 560$$

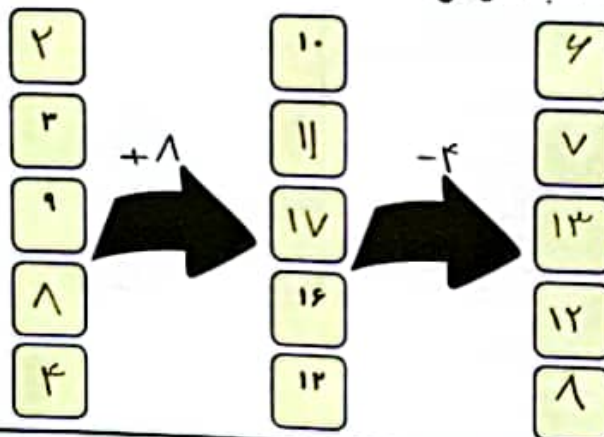
$$- 560$$

$$- 200$$

$$360$$

قیمت دفتر ۳۶۰ تومان است.


۳. جاهای خالی را با عددهای مناسب کامل کن.



تاریخ:

نام و نام خانوادگی:

۴. از میان ۳ دانش آموز یک نفر باید برای نمایندگی کلاس انتخاب شود با توجه به نمودار زیر، کدام یک از آن‌ها رأی بیشتری دارد؟ این کلاس چند نفر دانش آموز دارد؟



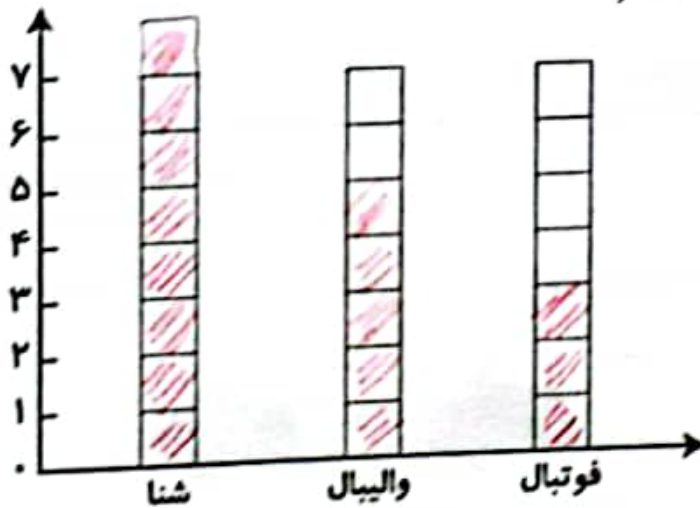
الف) دانش آموز با رأی بیشتر:
دانش آموز شماره (۲)

ب) تعداد دانش آموزان کل کلاس:
 $۵ + ۴ + ۲ = ۱۱$ نفر دانش آموز

۵. جدول زیر مربوط به تعداد شرکت کنندگان در مسابقات ورزشی می‌باشد. چند نفر در این مسابقات شرکت کرده‌اند؟ نمودار ستونی را برای جدول رسم کن.

رشته ورزشی	تعداد
شنا	### ۸
والیبال	### ۵
فوتبال	۳

تعداد شرکت کنندگان: $۸ + ۵ + ۳ = ۱۶$
۱۶ نفر






نام:

تاریخ:


این جدول را با توجه به شکل و رنگ پر کن.

در هر خانه یک شکل یا یک عدد بنویس.

شکل	رنگ	عدد
دایره	بنفش	۱
مربع	سبز	۲
مستطیل	زرد	۳
مثلث	قرمز	۴
پنج‌ضلعی	بنفش	۵



این جدول را با توجه به شکل و رنگ پر کن.



۱) در هر خانه یک شکل بنویس.

۲) در هر خانه یک عدد بنویس.

۳) در هر خانه یک رنگ بنویس.

۴) در هر خانه یک شکل بنویس.

این جدول را با توجه به شکل و رنگ پر کن.

۱۰

۲۰

۳۰


۴۰

۵۰

۶۰

۷۰

۸۰



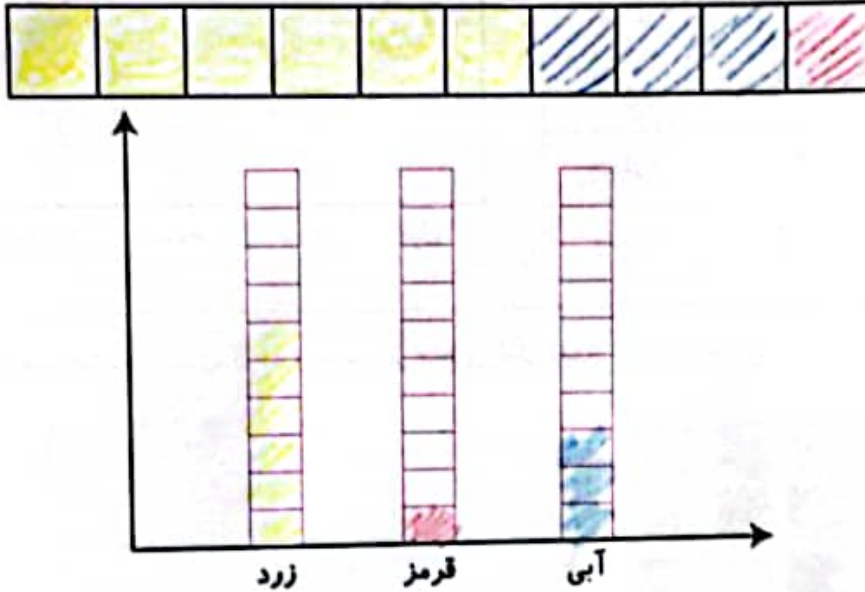


تاریخ:

نام و نام خانوادگی:

۹. صفحه‌ی چرخنده‌ی روبه‌رو را ۱۰ بار چرخانیم و نتایج زیر به دست آمد. شکل و نمودار را کامل کن.

نتایج: زرد- آبی- آبی- زرد- زرد- قرمز- زرد- زرد- زرد- آبی



چند قسمت از شکلی که رنگ کردی، زرد است؟ ... از قسمت‌ها از اهمیت مساوی

PIA

جدول خودارزیابی



معیار				ملاک
خیلی خوب	خوب	قابل قبول	نیاز به تلاش	
<input type="radio"/>	<input type="radio"/>	<input type="radio"/>	<input type="radio"/>	با استفاده از رسم چوب‌خط سرشماری می‌کنم.
<input type="radio"/>	<input type="radio"/>	<input type="radio"/>	<input type="radio"/>	مسئله را به صورت نمادین حل می‌کنم.
<input type="radio"/>	<input type="radio"/>	<input type="radio"/>	<input type="radio"/>	جمع و تفریق را در ماشین ورودی و خروجی انجام می‌دهم.
<input type="radio"/>	<input type="radio"/>	<input type="radio"/>	<input type="radio"/>	اعداد را روی نمودار ستونی نشان می‌دهم.
<input type="radio"/>	<input type="radio"/>	<input type="radio"/>	<input type="radio"/>	اعداد زوج و فرد را می‌شناسم.

