

مرور درس

۱

به نام فدای
برگ های رنگی

مرور درس ۱ تا ۳ فارسی
مرور فصل ۱ و ۲ ریاضی

نام زیبای من :

تاریخ :

۱- دور کلمه‌هایی که (ه) آخر صدای (-) می‌دهد خط بکش.

چاه- دیده- فاصله- راه- لوله- کوه- شاخه- نماینده- گروه- اشاره

۲- هم معنی کلمات زیر را بنویس.

.....	سپاس گزارم:	قصه:	خوش حال:	اکنون:
.....	شاد:	کمک:	تلاش:	منظم:

۳- مخالف کلمات زیر را بنویس

.....	درست ≠	بسیار ≠	گذشته ≠	بالا ≠
.....	آخر ≠	جواب ≠	باسواد ≠	

۴- چند کلمه هم خانواده برای «خوش» بنویس.

.....

۵- هم خانواده کلمات زیر را بنویس

روز:

کتاب:

بزرگ:

۶- به کلمات زیر صدای (ای) اضافه کن و بنویس

چاه- دیده- فاصله- راه- لاله- کوه- بچه- شاخه

.....

۷- کامل کن

..... بامزه یعنی

..... با نمک یعنی

..... با تجربه یعنی

..... یعنی چیزی که اهمیت دارد.

۸- ۴ کلمه بنویس که با «هم» شروع شده باشد. مثال: همراه



۹- با کلمه‌های زیر جمله بنویسید

..... تهیه:

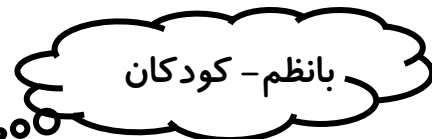
..... مطالب:

۱۰- دو کلمه بنویس که نشانه‌ی (و) در آن‌ها صدای (ا) بدهد

.....

۱۱- با هر دو کلمه جمله‌ی زیبا بساز.

.....



۱- با رقم‌های ۲، ۵، ۰ و ۶ می‌توانی عدد دو رقمی بساز.

.....

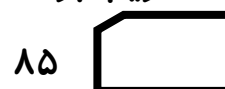
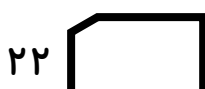
۲- سه عدد دو رقمی بنویس که دهگان آن ۷ باشد.

.....

۳- حاصل جمع‌های زیر را به دست آوردید.

$۵+۲۰+۱۵+۱۰ = \dots\dots$ $۵+۵+۱۰+۲۰ = \dots\dots$ $۲+۸+۹ = \dots\dots$ $۷+۳+۶+۲ = \dots\dots$

۳- تقریب بزن



۴- همی عددای دو رقمی که یکان آن‌ها ۵ و ۶ و عددای ۲ و ۱ برای دهگان باشد را بنویس.

.....

۵- حاصل جمع و تفریق‌های زیر را به صورت فرآیندی بدست بیاور.

$$\begin{array}{r} 66 \\ +35 \\ \hline \end{array}$$

$$\begin{array}{r} 45 \\ -13 \\ \hline \end{array}$$

$$\begin{array}{r} 79 \\ +12 \\ \hline \end{array}$$

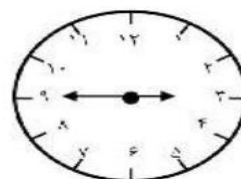
$$\begin{array}{r} 98 \\ -21 \\ \hline \end{array}$$

۶- چوپانی ۲۵ گاو و ۳۲ گوسفند دارد. اگر از هر دسته ۵ تا در صحرا گم شوند، چند گوسفند برای چوپان باقی می‌ماند؟

۷- با کارت‌های ۸ و ۳ چند عدد دو رقمی می‌توانی بسازی


.....

۸- ساعت چند است؟



۹- حاصل عبارت مقابل را به وسیله محور به دست آورید.

$$11 + 4 - 5$$



۱۰- کامل کن

۷ دسته ده‌تایی منهای ۰ دسته‌ی ده‌تایی می‌شود دسته‌ی ده‌تایی

۳ دسته‌ی ده‌تایی به اضافه‌ی ۵ دسته‌ی ده‌تایی می‌شود دسته‌ی ده‌تایی

۱۱- زمان‌هایی که در زیر نوشته شده است را روی ساعت نشان بده.

۶ و ۵۵ دقیقه

۹ و ۴۰ دقیقه

۷ و ۲۰ دقیقه