

نام و نام خانوادگی:

آموزگار: خانم کاشانی

موضوع:

پایه:

تاریخ:

هدف:



۱- جاهای خالی را کامل کنید.

\* عدد ۴۲ را می توان به صورت ..... ده تایی و ..... قسمت از ۱۰ قسمت بیان کرد.

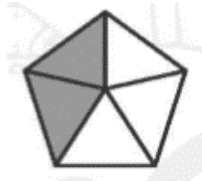
\* عدد ۴۵ را می توان به صورت ..... ده تایی و ..... قسمت از ۱۰ قسمت بیان کرد.

۲- مربع روبرو را به ۴ قسمت مساوی، تقسیم کنید و ۳ قسمت آن را رنگ بزنید.

\* ..... قسمت از ..... قسمت مساوی، رنگ نشده است.



۳- \* ..... قسمت از ..... قسمت مساوی پنج ضلعی، رنگ شده است.



\* ..... قسمت از ..... قسمت مساوی مربع، رنگ نشده است.

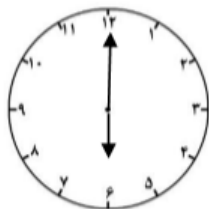


۴- ساعت چند است؟ .....

اگر عقربه ی بزرگ، ۱۵ دقیقه بچرخد.

\* حالا ساعت چند است؟ .....

\* مقدار چرخش آن را رنگ کنید.



\* بگویند مقدار چرخش عقربه ی بزرگ، چند قسمت از صفحه ی ساعت است؟

.....



۵- سارا کیک تولدش را به ۱۰ قسمت مساوی تقسیم کرد. او ۶ قسمت از کیکش را به دوستانش داد.

الف) چه کسری از کیک تولد سارا خورده شده است؟

.....


ب) چه کسری از کیک تولد سارا باقی مانده است؟

.....

۶- سارا در جامدادی خود ۷ مداد رنگی و ۳ مداد سیاه دارد. او می خواهد بدون نگاه کردن به داخل جامدادی یک مداد را بردارد. شانس برداشتن کدام مداد، کمتر است؟ چرا؟

.....

۷- دسته بندی کنید و جاهای خالی را پر کنید.



..... دسته ی ..... تایی، می شود ..... تا.

۸- قد زهرا ۱۲۵ سانتی متر است. قد برادرش ۱۵ سانتی متر از او کوتاه تر است. قد وندا و برادرش روی هم چند سانتی متر است؟

