
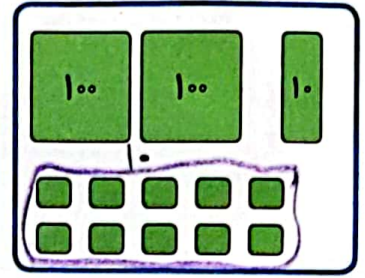

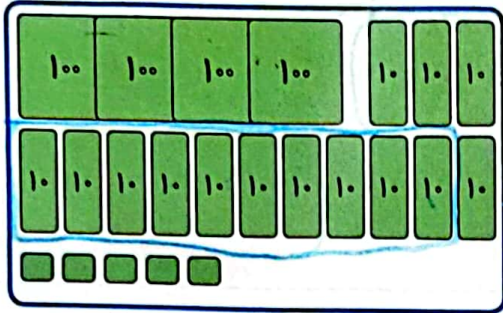




۱. هر شکل را به عدد مربوط به آن وصل کن.



۲. حاصل را بنویس.

الف)  $700 + 20 + 3 = 723$

پ)  $100 + 200 + 40 + 100 + 3 = 443$

ب)  $900 + 40 + 8 = 948$

ساعت



۳. با توجه به ساعت به سوالها پاسخ بده.

الف) ساعت چند است؟ ۳:۳۵

ب) چند دقیقه به ساعت بعدی مانده است؟ ۲۵ دقیقه

ج) یک ساعت و ربع دیگر ساعت چند می شود؟ ۴:۵۰

۴. حاصل جمع و تفریقهای زیر را به روش گسترده نویسی (فرآیندی) بنویس.

$$\begin{array}{r} 536 \\ + 126 \\ + 636 \\ + 20 \\ \hline 456 \\ + 56 \\ \hline 492 \end{array}$$

$$\begin{array}{r} 424 \\ - 213 \\ \hline 211 \\ - 10 \\ \hline 201 \\ - 3 \\ \hline 198 \end{array}$$





تاریخ: .....

نام و نام خانوادگی: .....

$$\begin{array}{r} 9 \\ 3712 \\ 376 \\ -228 \\ \hline 174 \end{array}$$

$$\begin{array}{r} 9 \\ 5110 \\ 666 \\ -151 \\ \hline 449 \end{array}$$

۵. حاصل جمع و تفریق‌های زیر را بنویس. (به روش تکنیکی)

$$\begin{array}{r} 812 \\ 938 \\ -274 \\ \hline 654 \end{array}$$

$$\begin{array}{r} 100 \\ 193 \\ +108 \\ \hline 301 \end{array}$$

۶. جمع دو عدد را در جدول ارزش مکانی انجام داده‌ایم. کدام عدد باید در مربع قرار گیرد؟

صدگان	دهگان	یکان
۴	1	۹
+۱	1	۲
۵	۳	۱

۷. عددها را با هم مقایسه کن. سپس علامت ( $<$ ,  $=$ ,  $>$ ) بگذار.

$$900 - 400 = 500 \quad \text{و} \quad 100 + 400 = 500 \quad \Rightarrow$$

$$700 - 600 = 100 \quad \text{و} \quad 700 - 500 = 200 \quad \Rightarrow$$

$$500 - 100 = 400 \quad \text{و} \quad 900 - 400 = 500 \quad \Rightarrow$$

$$100 - 100 + 30 + 1 = 31 \quad \text{و} \quad 400 - 200 = 200 \quad \Rightarrow$$

۸. کتابخانه‌ای ۲۸۶ کتاب علمی و داستانی دارد. اگر ۱۳۹ کتابها علمی باشد چند تا از کتابها داستانی است؟

$$286 - 147 = 139$$


$$\begin{array}{r} 286 \\ -147 \\ \hline 139 \end{array}$$

حدس اول:  $286 - 100 = 186 \quad \times$


حدس دوم:  $286 - 147 = 139 \quad \checkmark$  کتاب داستان

۹. حاصل جمع و تفریق‌های زیر را شکل بنویس.

$$\begin{array}{r} 217 \\ 367 \\ -218 \\ \hline 219 \end{array}$$



$$\begin{array}{r} 314 \\ +169 \\ \hline 483 \end{array}$$





نام و نام خانوادگی: .....

تاریخ: .....

۱۰. الگو را پیدا کرده و ادامه بده.



(۱)



(۲)




(۳)



(۴)



(۵)



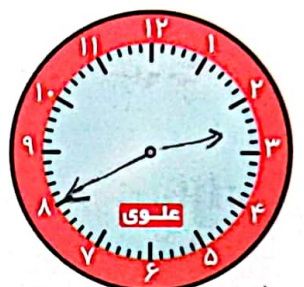
(۶)



(۷)



(۸)



(۹)

۱۱. ۲۰ سکه ده ریالی برابر با چند سکه یک ریالی است؟

(۲) تا ۳۰

(۱) تا ۲۰

(۴) تا ۲۰۰

(۳) تا ۳۰۰

۱۲. ۲۵ دقیقه بعد از ساعت ۷:۱۵ چه ساعتی می شود؟

(۲) ۷:۳۵

(۱) ۷:۴۵

(۴) ۷:۴۰

(۳) ۷:۲۰





۱۳. قد برنا ۱۳۷ سانتی متر و قد مادرش ۱۶۱ سانتی متر است. مادر برنا چند سانتی متر از او بلندتر است؟

$$\begin{array}{r} 161 \\ - 137 \\ \hline 24 \end{array}$$

قد مادر برنا ۲۴ سانتی متر بلندتر است.

۱۴. کتاب درنا ۶۷۰ صفحه دارد. او هفته‌ی اول ۱۳۴ صفحه و هفته‌ی دوم ۲۵۹ صفحه خوانده است. چند صفحه از کتاب باقی مانده است؟



$$\begin{array}{r} 670 \\ - 134 \\ \hline 536 \\ - 259 \\ \hline 277 \end{array}$$

۲۷۷ صفحه باقی مانده است.

جدول خودارزیابی



معیار	خیلی خوب	خوب	قابل قبول	نیاز به تلاش
اعداد سه رقمی را با دسته بندی می خوانم.	<input type="radio"/>	<input type="radio"/>	<input type="radio"/>	<input type="radio"/>
اعداد گسترده را به صورت سه رقمی نشان می دهم.	<input type="radio"/>	<input type="radio"/>	<input type="radio"/>	<input type="radio"/>
ساعت را به دقیقه می خوانم.	<input type="radio"/>	<input type="radio"/>	<input type="radio"/>	<input type="radio"/>
جمع و تفریق به روش گسترده نویسی انجام می دهم.	<input type="radio"/>	<input type="radio"/>	<input type="radio"/>	<input type="radio"/>
جمع و تفریق را به روش تکنیکی (با انتقال) انجام می دهم.	<input type="radio"/>	<input type="radio"/>	<input type="radio"/>	<input type="radio"/>
مسئله های اعداد سه رقمی را حل می کنم.	<input type="radio"/>	<input type="radio"/>	<input type="radio"/>	<input type="radio"/>
جمع و تفریق اعداد سه رقمی را با شکل نشان می دهم.	<input type="radio"/>	<input type="radio"/>	<input type="radio"/>	<input type="radio"/>
زمان ها را با الگویابی روی ساعت نشان می دهم.	<input type="radio"/>	<input type="radio"/>	<input type="radio"/>	<input type="radio"/>
مسئله را با راهبرد زیرمسئله حل می کنم.	<input type="radio"/>	<input type="radio"/>	<input type="radio"/>	<input type="radio"/>

