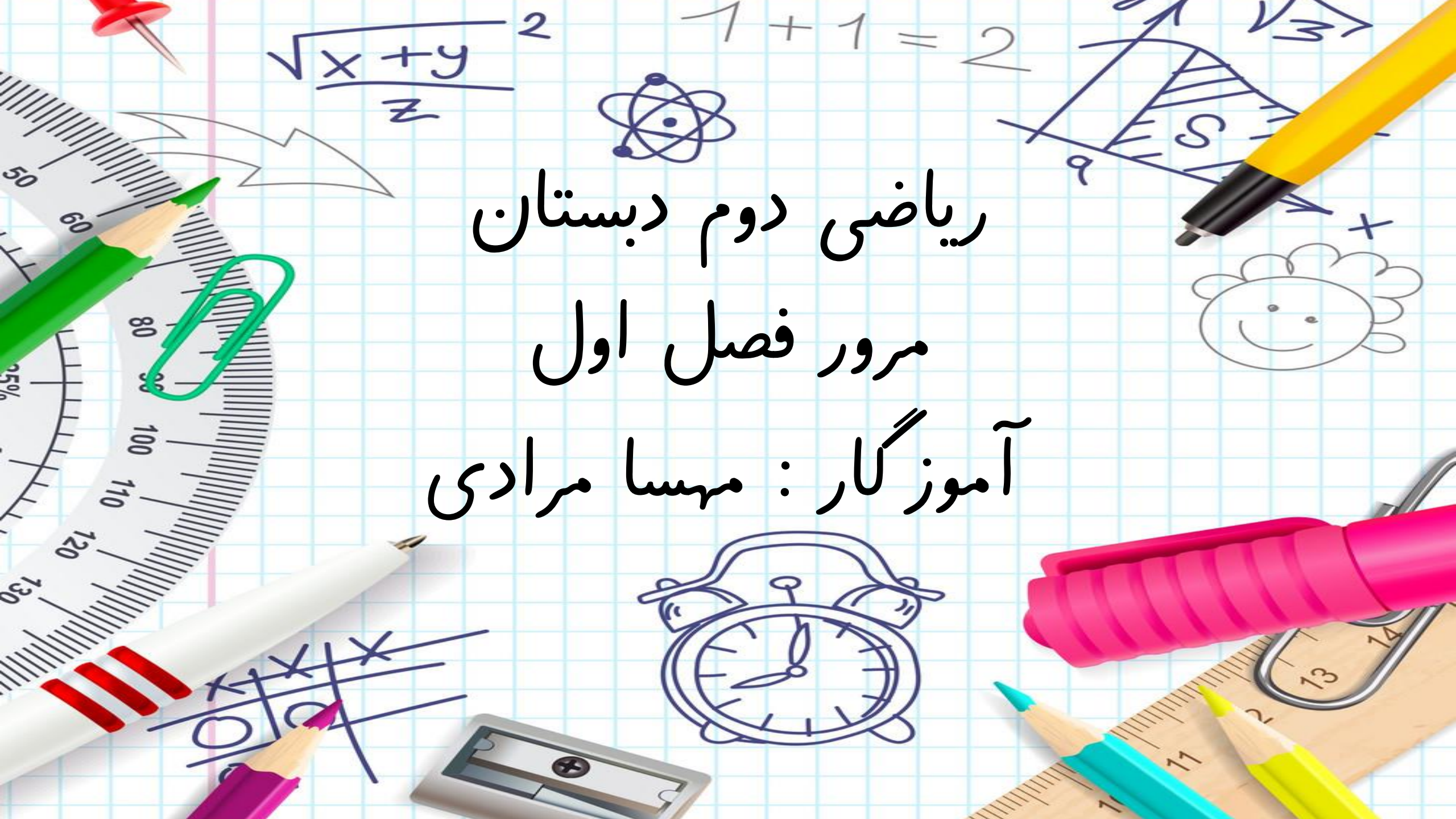


ریاضی دوم دبستان  
مرور فصل اول  
آموزگار : مهسا مرادی



## « فصل ۱ : عدد و رقم »

○ مرور کلاس اول

○ ساخت اعداد ۲ رقمی با دسته های دهتایی و یکی

○ من چه عددی هستم ( رقم یکان و دهگان )

○ شمارش چندتا چندتا و الگوها

○ عددسازی با کارت و رقم

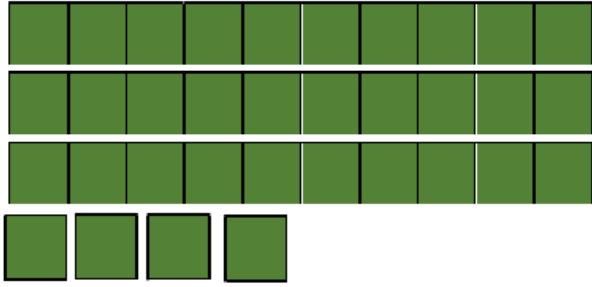
○ راهبرد رسم شکل : محور ، شکل ، چوب خط و ...

○ جمع های با مضرب ۱۰ و ۵


# نمونه سوال



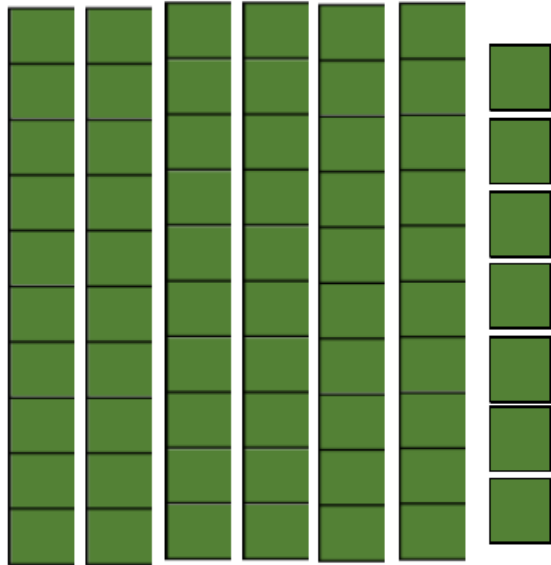
با توجه به شکل جدول ها را کامل کنید.



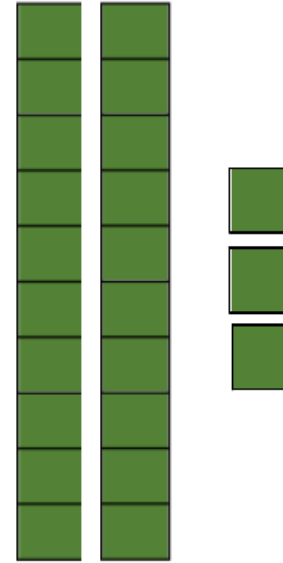
ده تایی	یکی
....	....
.....	



ده تایی	یکی
....	....
.....	

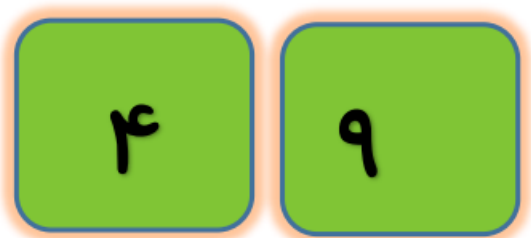


ده تایی	یکی
....	....
.....	



ده تایی	یکی
....	....
.....	

عزیزم ، به اعداد روی کارت نگاه کن ، فکر می کنی با این کارت ها چند عدد دو رقمی می توانی بسازی. آن ها را بنویس و بخوان.



.....

.....

نازنینم، هر شکل چه ساعتی را نشان می دهد؟



.....







.....



.....

عدد های دو رقمی را به عدد و حروف بنویس.

رقم یکان ۳ و رقم دهگان ۶ :  

رقم یکان ۰ و رقم دهگان ۹ :  



یک عدد دو رقمی بنویس که یکان آن ۴ و دهگان آن ۲ تا بیشتر از رقم یکان آن باشد.

یک عدد دو رقمی بنویس که یکان آن ۷ و دهگان آن ۵ تا کمتر از رقم یکان آن باشد.

با رقم های ۳ و ۷ هر چقدر عدد دو رقمی که می توانی بنویس.



گل قشنگم حاصل جمع و تفریق های زیر را با انگشتان خود به دست بیاور.

$$۴ + ۷ = \dots$$

$$۱۹ + ۵ = \dots$$

$$۹ + ۶ = \dots$$

حاصل جمع های زیر را با رسم چوب خط به دست بیاور.

$$۸ + ۶ = \dots$$


$$۴ + ۹ = \dots$$

حاصل تفریق های زیر را با رسم شکل به دست بیاور.

$$۱۹ - ۴ = \dots$$

$$۱۶ - ۷ = \dots$$

نازنینم الگوی های عددی زیر را کامل کن.



حاصل جمع و تفریق های زیر را به دست بیاور.

$$۱۰ + ۵ = \dots$$

$$۱۰ + ۵ + ۵ + ۲۰ + ۳۰ = \dots$$

$$۲۰ + ۷ + ۵ + ۱۰ - ۴ = \dots$$



مادر سارا خیاط است او برای هر پیراهن مردانه ۵ دکمه می دوزد.



با پر کردن جدول به سوالات پاسخ دهید.

الف) برای ۳ پیراهن مردانه چند دکمه باید بدوزد؟

ب) ۲۰ دکمه را برای چند لباس استفاده می کند؟

تعداد پیراهن ها	۱	۲	۳	۴	۵
تعداد دکمه ها					

اگر هر ماشین ۴ چرخ داشته باشد



الف) ۲ ماشین چند چرخ دارند؟

ب) ۱۶ چرخ برای چند ماشین است؟

ج) کل ماشین ها چند چرخ دارند؟

تعداد ماشین ها	۱	۲	۳	۴	۵	۶
تعداد چرخ ها						

با کارت های ۵ و ۳ و ۲ چند عدد دو رقمی می توان نوشت ؟

---

با رقم های ۰ و ۹ و ۷ چند عدد دو رقمی می توان نوشت ؟

---

فروردین و اردیبهشت روی هم چند نقطه دارند ؟ ( از چوب خط استفاده شود )

در شمارش شش تا شش تا ، سومین عدد بعد از ۱۸ چند می شود؟



الگوهای عددی زیر را ادامه دهید؟

۳ ، ۶ ، ۹ ، ..... ، ..... ، ..... ، ..... ، ..... ، ..... ، ..... ، ..... ، .....

۷ ، ۱۴ ، ۲۱ ، ..... ، ..... ، ..... ، ..... ، ..... ، ..... ، ..... ، .....

۱۱ ، ۲۲ ، ۳۳ ، ..... ، ..... ، ..... ، ..... ، ..... ، .....

۱۰ ، ۲۰ ، ۳۰ ، ..... ، ..... ، ..... ، ..... ، ..... ، ..... ، .....


زهرا ۲۷ مداد دارد. ۱۳ تا از آن ها سبز و بقیه آبی است. چند تا از مدادها آبی است؟ (بارسم شکل)

---

محمد ۱۶ سال دارد. ۷ سال قبل محمد چند ساله بود؟

---

امروز ۹ ماه است. ۷ روز دیگر چندم ماه است؟ (با محور)



موفق و پیروز باشید