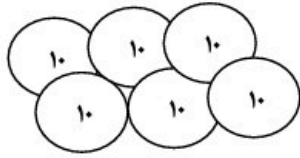
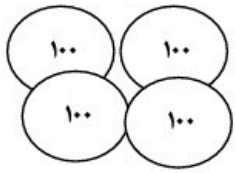


۱- به شکل نگاه کنید و جای خالی را پر کنید .



00000
000

یکان دهگان صدگان

با عدد

با حروف

۲- جای خالی را عدد مناسب قرار دهید .

$$53 - 54 - \bigcirc - 56 - \bigcirc$$

$$118 - \bigcirc - 120 - \bigcirc$$

۳- در جای خالی عدد مناسب قرار دهید .

$$15 - 7 = \bigcirc$$

$$14 - 6 = \bigcirc$$

$$9 + 8 = \bigcirc$$

$$7 + 9 = \bigcirc$$

۴- کم ترین عدد را پیدا کنید و با حروف بنویسید .

۴۰۶ - ۱۵۹ - ۵۴۳ - ۲۵۶ با حروف

۵- عددی بنویسید که صدگانش ۸ و یکانش ۵ باشد این عدد زوج است یا فرد ؟

۶- اعداد زیر را با حروف و رقم بنویسید .

۷۱۹ نهصد و نود و سه


۷- محمد ساعت ۷ و نیم به مدرسه رفت و یک ساعت بعد به آنجا رسید چه ساعتی به آنجا رسیده است ؟

۸- الگوها را ادامه دهید .

۱۰۰ - ۲۰۰ - - -

۴۰ - ۴۲ - - -

۹- چند ریال پول است ؟



ریال

۱۰- ۵۷ میلی متر سانتی متر و میلی متر .

۵ سانتی متر میلی متر .

۱۱- دور اعداد زوج خط بکشید ..

۷۲۳ - ۳۶۸ - ۴۱۲ - ۲۵۹

۱۲- جمع و تفریق زیر را انجام دهید از راه تکنیکی .

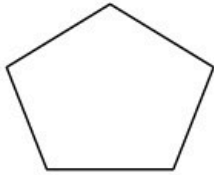
$$- ۷۲۰$$

$$۳۱۸$$

$$+ ۳۷۴$$

$$۲۶۸$$

۱۳- نام شکل های زیر را بنویسید و جای خالی را پر کنید .



نام شکل :

تعداد ضلع :

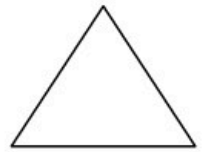
تعداد گوشه :



نام شکل :

تعداد ضلع :

تعداد گوشه :




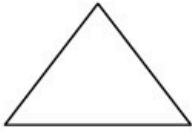
نام شکل :

تعداد ضلع :

تعداد گوشه :

۱۴- مادر زهرا ۴۵ ساله است و زهرا ۲۰ سال از او کوچک تر است . زهرا چند سال دارد ؟


۱۵- خط تقارن شکل ها را بکشید طوری که شکل ها به دو قسمت مساوی تقسیم شود .



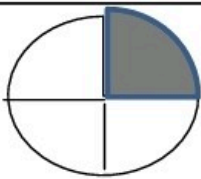
۷۶۹ ۵۴۸

۱۶- اعداد زیر با حذف دریکان و دهگان را به تقریب برسانید .

۱۶- ساعت چند است .



۱۷- عبارت ها را کامل کنید .



..... قسمت از قسمت رنگی است .



۱۸- جای خالی را پر کنید .

..... دسته تایی می شود

۱۹- در کیسه ای ۷ لوبیا قرمز و ۴ لوبیا سفید است . اگر بدون نگاه کردن لوبیایی را از کیسه بیرون بیاوریم .

شانس کدام لوبیا بیشتر است که بیرون بیاید ؟ چرا ؟

باز خورد توصیفی آموزگار نظر اولیا