



تاریخ:

نام و نام خانوادگی:

نادرست



درست



۱. درست یا نادرست بودن جمله‌ها را مشخص کن.

الف) ۳۰ دقیقه بعد از ۲:۴۵، ساعت ۳:۱۵ می‌شود.

ب) ۵ دسته‌ی ده‌تایی منهای ۲ دسته‌ی ده‌تایی، عدد ۴۰ می‌شود.

پ) تعداد خط‌های تقارن دایره بیشتر از ۶ ضلعی است.

۲. به عدد و حروف بنویس.

الف) پانصد و هشتاد: ۵۸۰

ب) دویست و سه: ۲۰۳

پ) هفتصد و چهل و یک: ۷۴۱

ت) ۹۳۹: نصد و سی و نه

ث) ۸۰۵: هشتصد و پنج

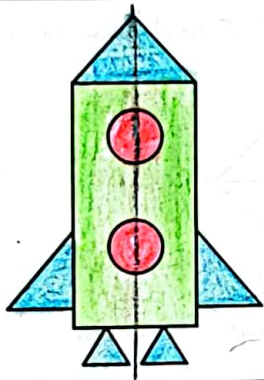
ج) ۱۲۰: صد و بیست

۳. الف) یک خط تقارن برای موشک زیر بکش.

ب) شکل‌های هندسی که ۳ ضلع دارند را آبی کن. نام آن چیست؟ مثلث

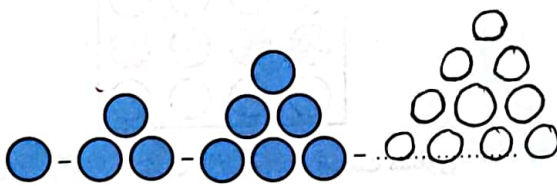
ج) شکلی که چهار گوشه دارد سبز کن. نام آن چیست؟ مستطیل

د) دایره‌ها را قرمز کن.




۴. الگوهای زیر را ادامه بده.

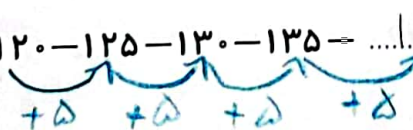
الف)



ب) ۱ - ۴ - ۷ - ۱۰ - ۱۳



پ) ۱۲۰ - ۱۲۵ - ۱۳۰ - ۱۳۵ - ۱۴۰






نام و نام خانوادگی: آر. آر. م. موسوی

تاریخ:

۵. اندازه‌ی هر خط را بنویس.




الف) اندازه‌ی خط سبز 4cm میلی‌متر یا 4mm سانتی‌متر و میلی‌متر است.

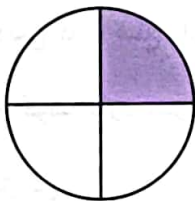


ب) اندازه‌ی خط قرمز 1.8cm میلی‌متر یا 18mm سانتی‌متر و میلی‌متر است.

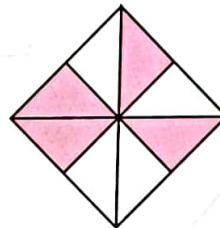
۶. روی محور نقطه‌ی ۴ واحد و ۲ قسمت از ۵ قسمت مساوی را نشان بده.




۷. در هر شکلی چه کسری رنگ نشده است؟



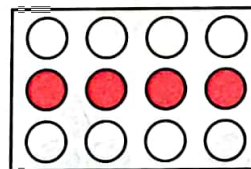
ب) $\frac{3}{4}$ قسمت از $\frac{4}{4}$ قسمت مساوی



الف) $\frac{4}{8}$ قسمت از $\frac{8}{8}$ قسمت مساوی



ت) $\frac{4}{8}$ قسمت از $\frac{8}{8}$ قسمت مساوی



پ) $\frac{4}{8}$ قسمت از $\frac{8}{8}$ قسمت مساوی

۸. حاصل جمع و تفریق‌های زیر را بنویس. (تکنیکی)

$$\begin{array}{r} 11 \\ 387 \\ +169 \\ \hline \end{array}$$

$$\begin{array}{r} 556 \\ -169 \\ \hline \end{array}$$

$$\begin{array}{r} 610 \\ 772 \\ \hline \end{array}$$

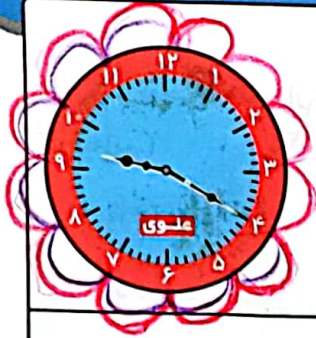
$$\begin{array}{r} 391 \\ -311 \\ \hline \end{array}$$





تاریخ:

نام و نام خانوادگی:



۹. با توجه به ساعت مقابل پاسخ سوالات را بنویس.

الف) ساعت چند است؟ ۹:۲۰

ب) چند دقیقه به ساعت بعدی مانده است؟ ۴ دقیقه

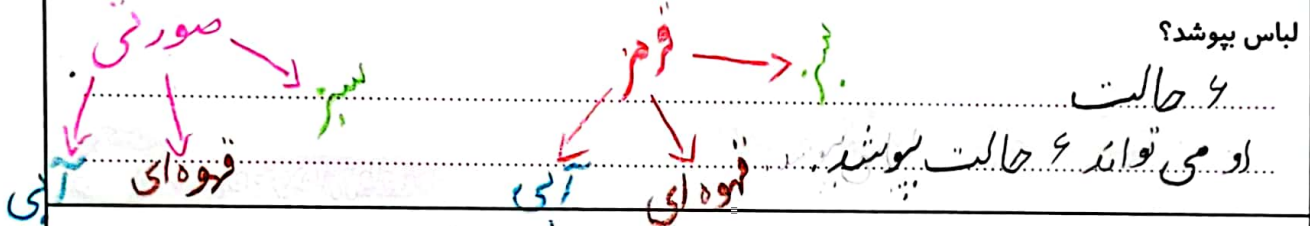
ج) یک ساعت و ربع دیگر ساعت چند می شود؟ ۱۰:۳۵

۱۰. حاصل جمع و تفریق‌های زیر را به صورت تقریبی به دست بیاور.

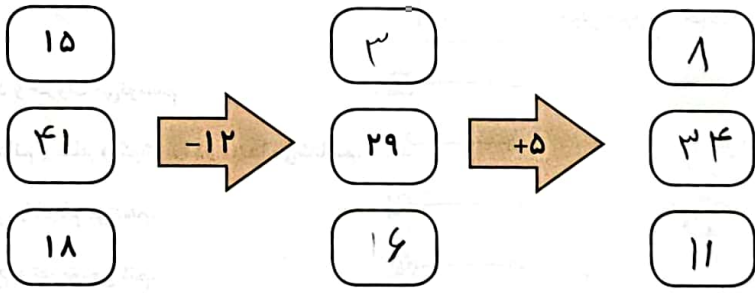
$$\begin{array}{r} 28 \rightarrow \dots\dots\dots 30 \\ - 16 \rightarrow \dots\dots\dots 20 \\ \hline \end{array}$$

$$\begin{array}{r} 93 \rightarrow \dots\dots\dots 90 \\ - 76 \rightarrow \dots\dots\dots 80 \\ \hline \end{array}$$

۱۱. درنا ۳ دامن به رنگ‌های سبز و قهوه‌ای و آبی و ۲ بلوز به رنگ‌های صورتی و قرمز دارد. او به چند حالت می‌تواند لباس بپوشد؟



۱۲. جاهای خالی را کامل کن.



۱۳. با توجه به صفحه‌ی چرخنده، جاهای خالی را کامل کن.

الف) قسمت از قسمت مساوی اعداد زوج است.

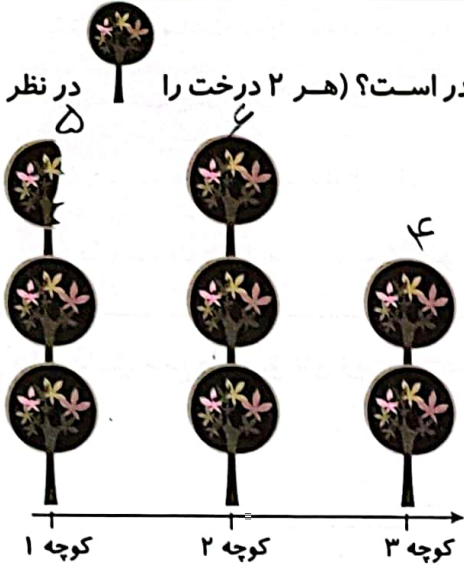
ب) احتمال اینکه عقربه پس از چرخش روی اعداد زوج قرار گیرد بیشتر است یا اعداد فرد؟
زوج چون تعداد اعداد زوج بیشتر است.





تاریخ:

نام و نام خانوادگی:



۱۴. با توجه به نمودار تصویری زیر، اختلاف تعداد درختان کوچه ۱ و ۲ چقدر است؟ (هر ۲ درخت را ۵ گرفته ایم.)

(۱) ۱۰ درخت

(۲) ۵ درخت

(۳) ۳ درخت

(۴) ۱ درخت

جدول خودارزیابی



معیار	خیلی خوب	خوب	قابل قبول	نیاز به تلاش	ملاک
اعداد سه رقمی را به عدد و حروف می نویسم	<input type="radio"/>	<input type="radio"/>	<input type="radio"/>	<input type="radio"/>	اعداد سه رقمی را به عدد و حروف می نویسم
نام اشکال هندسی را می دانم و ضلع و گوشه را در آن ها می شناسم.	<input type="radio"/>	<input type="radio"/>	<input type="radio"/>	<input type="radio"/>	نام اشکال هندسی را می دانم و ضلع و گوشه را در آن ها می شناسم.
الگویابی عددی و هندسی را انجام می دهم.	<input type="radio"/>	<input type="radio"/>	<input type="radio"/>	<input type="radio"/>	الگویابی عددی و هندسی را انجام می دهم.
اعداد را از راه انتقال جمع و تفریق می کنم.	<input type="radio"/>	<input type="radio"/>	<input type="radio"/>	<input type="radio"/>	اعداد را از راه انتقال جمع و تفریق می کنم.
ساعت را با دقیقه می خوانم.	<input type="radio"/>	<input type="radio"/>	<input type="radio"/>	<input type="radio"/>	ساعت را با دقیقه می خوانم.
جمع و تفریق اعداد را به صورت تقریبی انجام می دهم.	<input type="radio"/>	<input type="radio"/>	<input type="radio"/>	<input type="radio"/>	جمع و تفریق اعداد را به صورت تقریبی انجام می دهم.
مسئله را به صورت منظم حل می کنم.	<input type="radio"/>	<input type="radio"/>	<input type="radio"/>	<input type="radio"/>	مسئله را به صورت منظم حل می کنم.
طول اشکال را با خطکش اندازه گیری می کنم.	<input type="radio"/>	<input type="radio"/>	<input type="radio"/>	<input type="radio"/>	طول اشکال را با خطکش اندازه گیری می کنم.
کسر را در اشکال مختلف تشخیص می دهم.	<input type="radio"/>	<input type="radio"/>	<input type="radio"/>	<input type="radio"/>	کسر را در اشکال مختلف تشخیص می دهم.
با توجه به نمودار تصویری به سوالات پاسخ می دهم.	<input type="radio"/>	<input type="radio"/>	<input type="radio"/>	<input type="radio"/>	با توجه به نمودار تصویری به سوالات پاسخ می دهم.

۲۳۴

