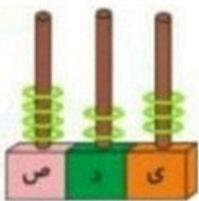


۱- گل های زرنگ من! با استفاده از محور حاصل جمع و تفریق ها را بنویسید.

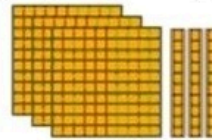
$$11 - 8 + 4 =$$

$$9 + 2 - 6 =$$



ص	د	ی

۲- عزیزانم! با کمک شکل ، جدول ها را کامل کنید.



ص	د	ی

به حروف: .....

به عدد: .....

به عدد: ..... به حروف: .....

۳- گلم! حاصل جمع و تفریق ها را به دست آورید. (به روش دلخواه)

$$\begin{array}{r} 325 \\ + 460 \\ \hline \end{array}$$

$$\begin{array}{r} 536 \\ + 287 \\ \hline \end{array}$$

$$\begin{array}{r} 902 \\ - 535 \\ \hline \end{array}$$

$$\begin{array}{r} 700 \\ - 325 \\ \hline \end{array}$$



۴- شکوفه های باهوشم! الگوهای عددی را ادامه دهید.

۴۵ - ۴۸ - ۵۳ - ..... - .....

۳۷ - ۳۹ - ۴۲ - ..... - .....



..... - .....

۵- گل های پر تلاش! نازنین یک تراش و دو مداد خرید و ۵۷۷ ریال به فروشنده داد. اگر قیمت هر مداد

۱۵۰ ریال باشد، قیمت تراش چند است؟



۶- دانش آموزان کوشا! علامت  $< = >$  قرار دهید.

۷۰۰  ۳۱۴

۲۴۶  ۲۶۴

۴۲۳  ۴۲۰


۱۰۰  ۸۸

۳۰۰ - ۱۰۰  ۲۰۰ + ۱۰۰


۹۰۰  ۵۰۰ + ۴۰۰




- شکوفه های با هوش! جاهای خالی را کامل کنید.



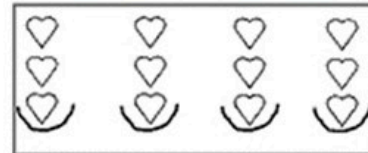
..... قسمت از .... قسمت مساوی رنگ شده است.



..... قسمت از .... قسمت مساوی رنگ شده است.




..... دسته ی ..... تایی می شود .....



..... دسته ی ..... تایی می شود .....

۸- عزیزانم! اندازه ی طول خط ..... سانتی متر و ..... میلی متر است.



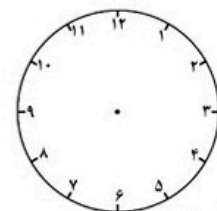
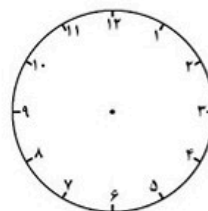
اندازه ی طول خط ..... میلی متر است .

اندازه ی طول خط ..... سانتی متر و ..... قسمت از ۱۰ قسمت مساوی است.

۱- ریاضیدان هایم! زمان را روی ساعت نشان دهید.

نیم ساعت بعد از ۸

یک ربع مانده به ۱۲






گل های خوبم!

امیدوارم همیشه پر تلاش  
و شاد باشید.




درست و نادرست بودن هریک از جملات زیر را مشخص کنید.

- درست       نادرست  
 خورشید گوشه ی آسمان بود.   
 درست       نادرست      ((دوست دارم در آسمان به این طرف و آن طرف بروم.))   
 درست       نادرست      ابر کوچولو آن قدر بالا رفت که صورت طلایی و قشنگ خورشید را بوسید. 

دسته بندی کنید. (( پلو ، روپوش ، سبز ، پیراهن ، کت ، صورتی ، کباب ، میوه ، بنفش ))

.....	.....	.....	رنگ
.....	.....	.....	خوردنی
.....	.....	.....	پوشیدنی

جاهای خالی را با کلمه ی مناسب با توجه به آن چه در درس پرواز قطره ها خوانده ای پر کن.


خورشید نور و گرمای خود را روی قطره های آب ..... آن ها آرام آرام بخار ..... ، بعد به شکل یک تگه ابر کوچک و قشنگ ..... ابر کوچولو آن قدر بالا ..... که به خورشید رسید. 


مخالف هر یک از کلمه های داده شده را بنویس.

کلمه : خنده      کوچک      بالا      دیر      تاریک

مخالف : .....      .....      .....      .....      .....

هر بار کلمه ی داخل کمانک را به جمله بعدی اضافه کن.

علی کتاب خرید. (خوبی) 

..... ( از کتاب فروشی ) 

..... ( داستان ) 

..... 




جمله بسازید.

تگه : ..... 


صحرا : ..... 

طلایی : ..... 

جمله ها را کامل کن.



خورشید قطره آبی را ..... 

ناگهان آب دریا موجی ..... 

ناگهان باد تندی ..... 

باد ما را به این طرف و آن طرف ..... 



	<p>جاهای خالی را با کلمه ای که (( نا )) داشته باشد ، پرکن.          آن که نمی بیند ..... است.          به کسی که مرتب نباشد ..... می گویند.          به کاری که تمام نشده باشد ..... می گویند.          به چیزی که مناسب نباشد ..... می گویند.</p>	۸				
	<p>جاهای خالی را با کلمه های مناسب پرکن.          خورشید لبخندی زد.          قطره کوچولو خیلی ..... بود.          خورشید گفت : (( چه شد که ..... آمدی ؟ ))          خورشید ، گرما و نور خود را ..... قطره کوچولو پاشید.</p>	۹				
	<p>اگر درختان زبان داشتند، به بچه هایی که از آن ها مراقبت نمی کردند، چه می گفتند؟</p> <div style="border: 1px solid black; padding: 10px; margin: 10px 0;"> <p>.....</p> <p>.....</p> <p>.....</p> </div>	۱۰				
	<p>نام جانوران را دسته بندی کن. (( فیل ، مگس ، گنجشک ، پشه ، کبوتر ، سگ ، کلاغ ، پروانه ، گاو ))</p> <table border="1" style="width: 100%; border-collapse: collapse;"> <tr> <td style="width: 50%; text-align: center;">.....</td> <td style="width: 50%; text-align: center;">بال دار</td> </tr> <tr> <td style="text-align: center;">.....</td> <td style="text-align: center;">بال و پر دار</td> </tr> </table> <p>❖ کدام جانوران در هیچ یک از دسته ها قرار نمی گیرند؟ (.....)</p>	.....	بال دار	.....	بال و پر دار	۱۱
.....	بال دار					
.....	بال و پر دار					
	<p>فکر کن قطره ی آب هستی و می خواهی با گل سرخی دوست شوی چه کار می کنی ؟</p> <div style="border: 1px dashed black; padding: 10px; margin: 10px 0;"> <p>.....</p> <p>.....</p> <p>.....</p> </div>	۱۲				
	<p>خورشید چه فایده هایی دارد؟ .....</p>	۱۳				
	<p>حروف داده شده را مرتب کرده و کلمه ی معنی دار بسازید.          ه ، ر ، ط ، ق (.....)    ط ، و ، س (.....)    ت ، ر ، ص ، و (.....)</p>	۱۴				
	<p>هم معنی کلمات داده شده را بنویسید.    ❖ پراکنده : .....    ❖ نیاز : .....</p>	۱۵				