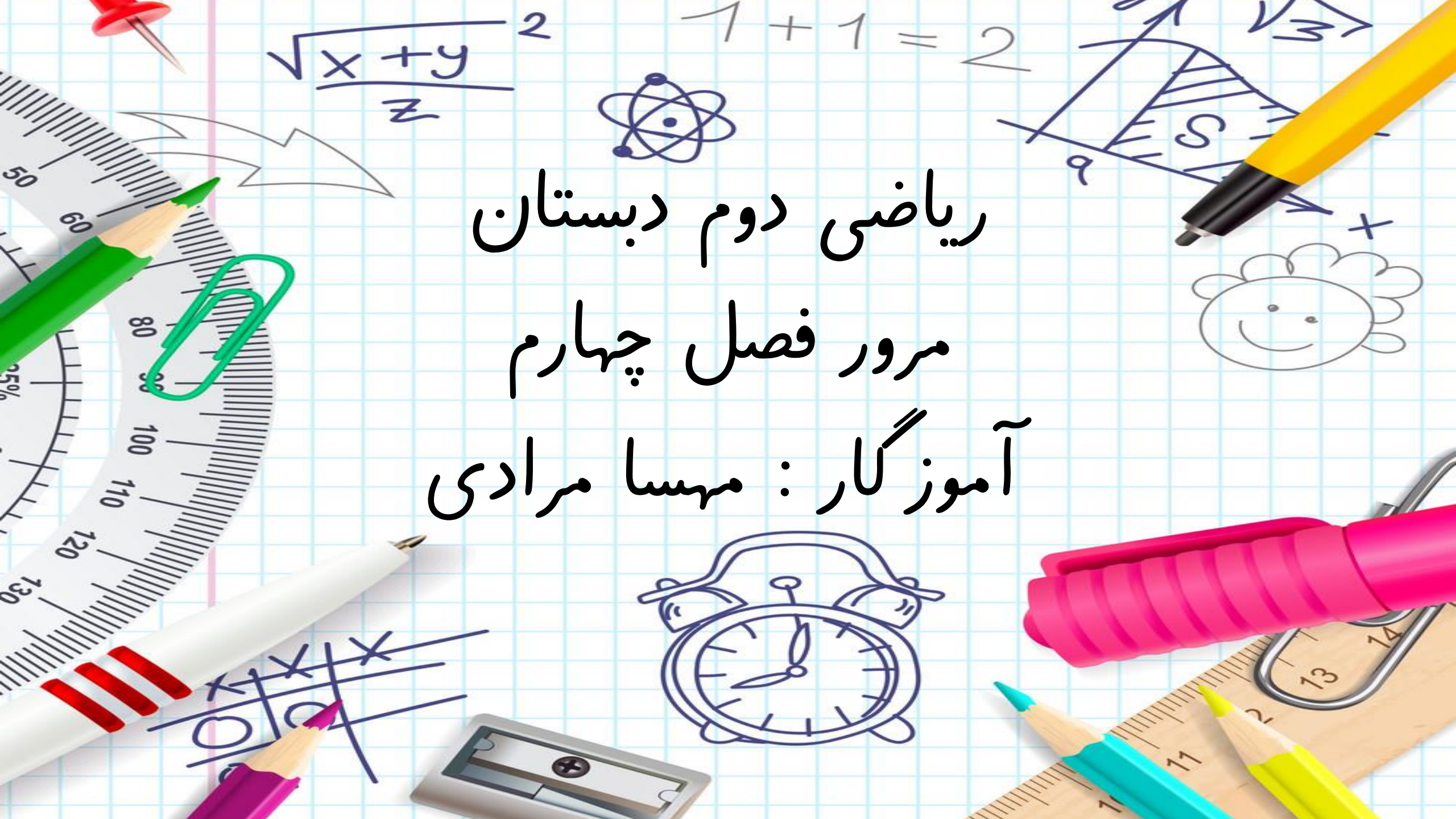


ریاضی دوم دبستان
مرور فصل چهارم
آموزگار: مهسا مرادی



« فصل ۴ : عددهای سه رقمی »

○ عددهای سه رقمی (چرتکه ، دسته و سکه)

○ سکه ها و تبدیل آنها

○ راهبرد حذف حالت های نامطلوب (عددسازی با کارت)

○ تقریب اعداد سه رقمی به روش قطع کردن و گرد کردن

○ جمع و تفریق اعداد سه رقمی با یک رقمی

○ جمع و تفریق اعداد سه رقمی به روش تقریب زدن

○ گسترده نویسی

نمونه سوال



در الگوی زیر شکل پنجم از چند مربع تشکیل شده است؟.....



با سه کارت که روی آن‌ها رقم‌های ۷ و ۰ و ۹ نوشته شده است، تمام عددهای سه رقمی را که می‌توان ساخت، درست کنید

چند عدد سه رقمی درست شد؟.....



.....

مقدار سکه های سارا را حساب کنید؟



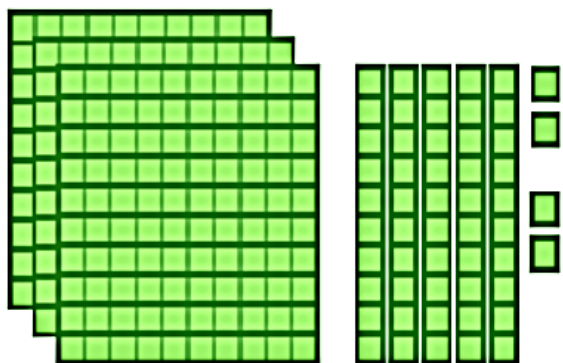
نیم ساعت بعد از ساعت ۴:۳۰ چه زمانی است؟

به حروف بنویس.

.....۲۰۹

.....۴۵۷

عددی را جدول و چرتکه نشان می دهد در جدول بنویس.



صدگان	دهگان	یکان



صدگان	دهگان	یکان

عددی هستم سه رقمی رقم صدگان من ۸ و دهگان من ۲ و یکان من ۶ است. من چه عددی

هستم؟

در جاهای خالی عدد های مناسب قرار دهید.

$$۲۰ + ۵۰ = \dots$$

$$۳۰ + \dots = ۱۰۰$$

$$۱۰ + \dots = ۱۰۰$$



چند ریال است ؟ ریال

اگر ۲۰ ریال کم کنیم ، چند ریال می ماند؟ ریال



سکه ی زیر را با چند تا سکه ی ۱۰۰ ریالی و چند تا سکه ۱۰ ریالی می توان عوض کرد؟

..... سکه ی ۱۰۰ ریالی و سکه ی ۱۰ ریالی

کوچک ترین عدد سه رقمی، و بزرگ ترین عدد سه رقمی می باشد.

..... پانصد و نود و چهار

..... صد و سه

به رقم بنویس.

..... نه صد و ده

..... دویست و بیست و یک

عدد داخل مربع به کدام عدد نزدیک تر است ؟ آن را رنگ کن.

 ۲۵۰	 ۲۵۴	 ۲۶۰	 ۷۸۰	 ۷۸۶	 ۷۹۰
---------------------------------------------------------------------------------------	---------------------------------------------------------------------------------------	----------------------------------------------------------------------------------------	-----------------------------------------------------------------------------------------	-----------------------------------------------------------------------------------------	-----------------------------------------------------------------------------------------

با کارت های ۳ و ۶ و ۹ تمام عددهای سه رقمی را بسازید.

الف) عددی که رقم یکان آن از رقم صدگانش بیشتر است

ب) عددی که جمع رقم های یکان و صدگان آن برابر با رقم دهگانش باشد

عزیزم مجموع پول های زیر چند ریال است؟



ریال.....

گلم عدد های زیر را با حذف یکان و دهگان به صورت تقریبی بنویس.

۱۱۵ → ۲۴۵ → ۴۳۲ →

۸۳۴ → ۷۲۱ → ۲۲۲ →

۵۳۲ ریال یعنی سکه ی ۱۰۰ ریالی و سکه ی ۱۰ ریالی و سکه ی ۱ ریالی.

۲ صد ریالی و ۴ ده ریالی و ۶ یک ریالی یعنی، ریال

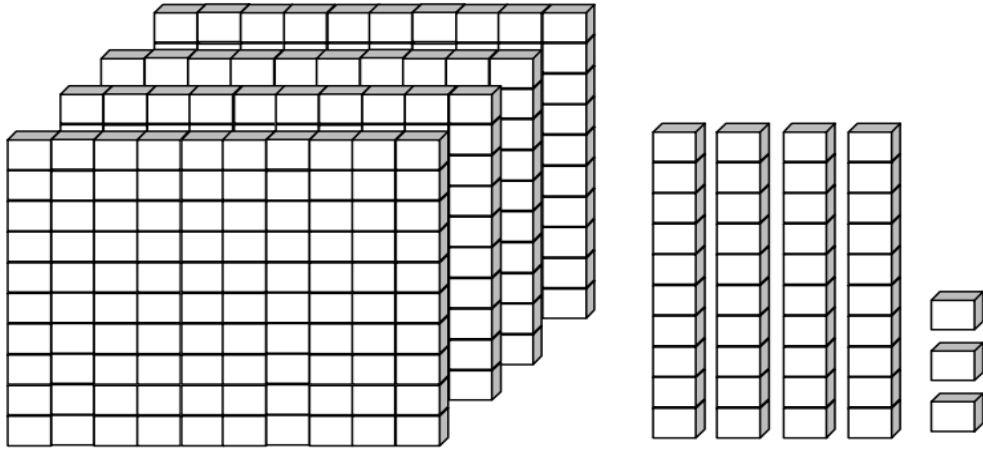
اگر آرین ۸۰ سکه ی ۱ ریالی را به بانک بدهد، چند سکه ی ۱۰ ریالی تحویل می گیرد؟ ده ریالی

عدد چرتکه را بنویس . اگر از چرتکه ۴ یکی کم کنیم چه عددی به دست می آید؟ عدد:

اگر ۴ یکی کم کنیم عدد:



جدول را کامل کن و در جای خالی عدد مناسب بنویس.

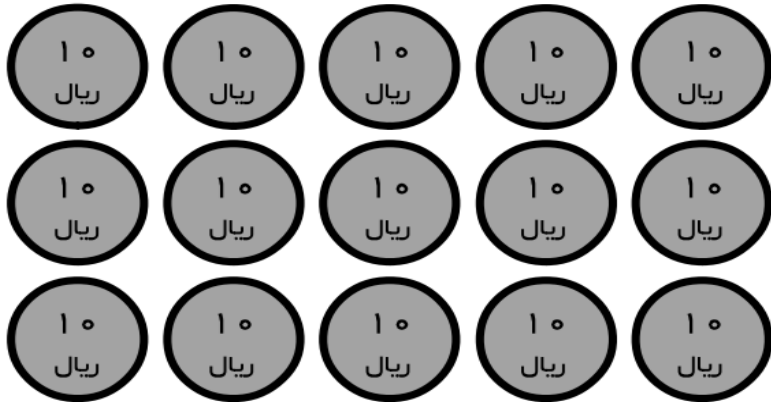


ص	د	ی

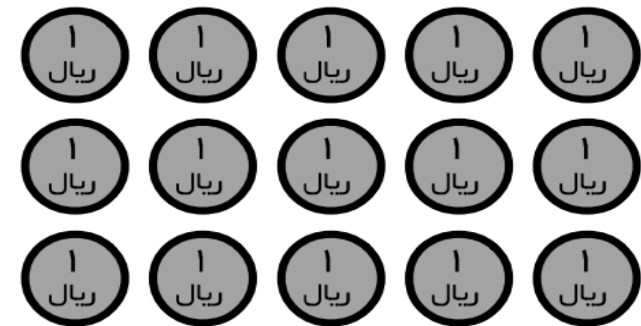
به عدد

به حروف

در جای خالی عدد مناسب بنویس .



ریال -----



ریال -----

فرزندم به صورت ذهنی جمع یا تفریق کن.

$$\begin{array}{r} 103 \\ - 5 \\ \hline \end{array}$$

$$\begin{array}{r} 99 \\ + 8 \\ \hline \end{array}$$

$$\begin{array}{r} 107 \\ - 8 \\ \hline \end{array}$$

$$\begin{array}{r} 108 \\ + 5 \\ \hline \end{array}$$

$$\begin{array}{r} 106 \\ - 9 \\ \hline \end{array}$$

$$\begin{array}{r} 101 \\ + 7 \\ \hline \end{array}$$

مهربانم یک عدد سه رقمی بنویس که صدگان آن ۸ و دهگان ۳ تا کم تر از صدگان و یکان آن دوتا

بیشتر از دهگان باشد.

حاصل جمع و تفریق های زیر را به صورت تقریبی بنویس. (با حذف رقم یکان)

$$\begin{array}{r} 602 \\ - 303 \\ \hline \end{array}$$

$$\begin{array}{r} 724 \\ + 213 \\ \hline \end{array}$$

$$\begin{array}{r} 422 \\ - 114 \\ \hline \end{array}$$

آریا ۲۴ ریال و خواهرش ۴۹ ریال پول داشتند. آن ها روی هم چند ریال پول دارند؟

آریا و خواهرش تصمیم گرفتند ۴۵ ریال را برای مادرشان هدیه بخرند. حالا چند ریال برایشان باقی می ماند؟

(به روش فرایندی)

موفق و پیروز باشید