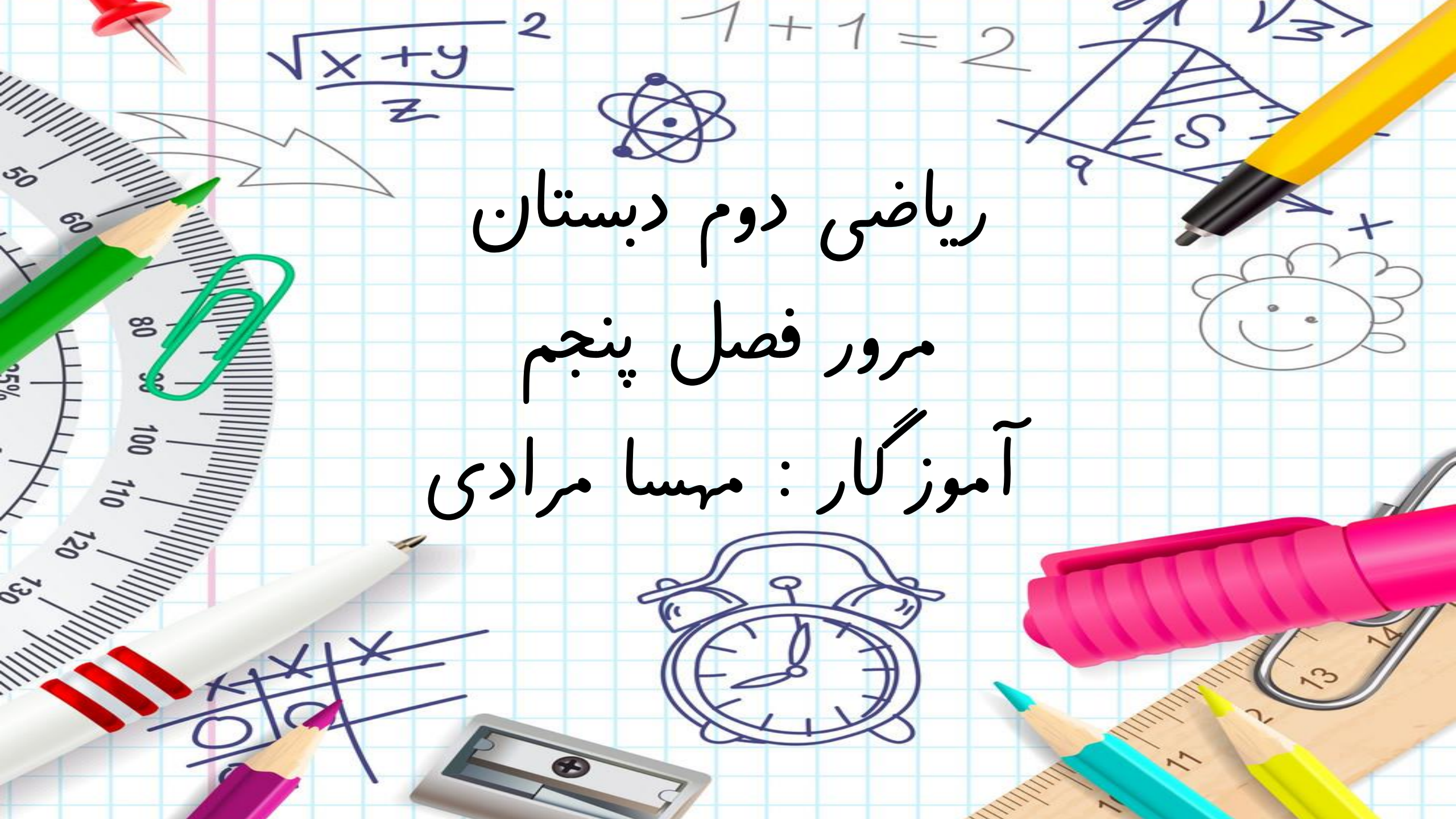


ریاضی دوم دبستان  
مرور فصل پنجم  
آموزگار : مهسا مرادی





## « فصل ۵ : اندازه گیری »

- سانتی متر و میلی متر و تبدیل آنها
- اندازه گیری غیر استاندارد و استاندارد
- استفاده از کلمه‌ی بین در اندازه گیری
- مهارت استفاده از خط کش
- راهبرد حدس و آزمایش


# نمونه سوال




اندازه‌ی هر یک از شکل‌های زیر را پیدا کن. 



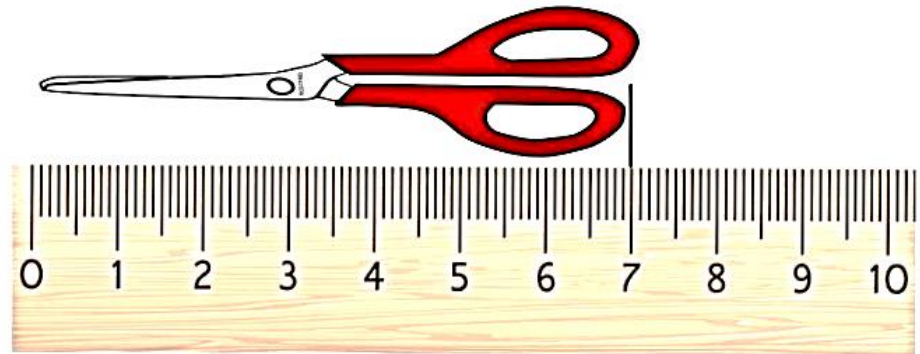
اندازه مداد ..... سانتی متر است.




اندازه پاکن ..... میلی متر است.



اندازه ذره بین ..... سانتی متر و ..... میلی متر است.



اندازه ..... سانتی متر است.



اندازه ی طول خودکار.....



و.....  است.



اندازه ی خط ..... قسمت بزرگ

و ..... قسمت کوچک است.

جاهای خالی را با عدد مناسب پر کن.



۱۰ میلی متر = ..... سانتی متر

۴۰ میلی متر = ..... سانتی متر

۹۰ میلی متر = ..... سانتی متر

۳۰۰ میلی متر = ..... سانتی متر

۳۲۰ میلی متر = ..... سانتی متر

۱ سانتی متر = ..... میلی متر

۲ سانتی متر = ..... میلی متر

۸ سانتی متر = ..... میلی متر

۱۰ سانتی متر = ..... میلی متر

۲۰ سانتی متر = ..... میلی متر

جای خالی را با عدد مناسب پر کن.

ده تایی

یکی

۲۶ میلی متر یعنی ..... سانتی متر و ..... میلی متر

۵۷ میلی متر یعنی ..... سانتی متر و ..... میلی متر

۹۵ میلی متر یعنی ..... سانتی متر و ..... میلی تر

۱۰۵ میلی متر یعنی ..... سانتی متر و ..... میلی متر

۲۲۶ میلی متر یعنی ..... سانتی متر و ..... میلی متر

۳۴۲ میلی متر یعنی ..... سانتی متر و ..... میلی متر

۴۵۷ میلی متر یعنی ..... سانتی متر و ..... میلی متر



با توجه به اندازه داده شده یک مداد بر روی خط کش رسم کن.



۸ سانتی متر و ۷ میلی متر

۶۵ میلی متر


در جاهای خالی عدد مناسب بنویس .

۴۵ میلی متر بیش تر است یا ۵ سانتی متر ؟

۲۲۸ میلی متر - - - - - سانتی متر و - - - - - میلی متر است .

۹۲ سانتی متر و ۴ میلی متر - - - - - میلی متر است .

برای اندازه گیری درازا یا پهنای وسیله‌های زیر از چه وسیله‌ای استفاده می‌کنیم.



در مزرعه ای ۶ گاو و اردک وجود داشت. آن‌ها روی هم ۱۶ پا داشتند. چند گاو و اردک داریم؟

(گاو ۴ پا و اردک دو پا دارد.)






در یک نقاشی، محمد سام روی هم ۵ گوسفند و طاووس نقاشی کرده است. آن ها روی هم ۱۴ پا دارند. (هر طاووس ۲ پا



و هر گوسفند ۴ پا دارد.) در این نقاشی چند تا طاووس و چند تا گوسفند است؟



به جای  و  عدد مناسب قرار دهید.

$$۶۰ - \text{○} = ۳۷$$

$$\text{□} + ۱۵ = ۶۸$$

$$\text{○} - ۲۶ = ۱۸$$

$$۱۵ + \text{□} = ۴۷$$

در اتاقی ۷ صندلی و میز قرار دارد . آنها روی هم ۲۷ پایه دارند . ( هر صندلی ۴ پایه و هر میز ۳ پایه ) در این اتاق چند صندلی و چند میز قرار دارد ؟



در مزرعه ای ۵ خرگوش و مرغ است . آنها روی هم ۱۸ پا دارند . ( هر خرگوش ۴ پا و هر مرغ ۲ پا دارد .) در این مزرعه چند تا خرگوش و چند تا مرغ است ؟ ( رنگ آمیزی یادت نره عزیزم )



ساعت چند است؟



۲۵ دقیقه قبل



یک ربع بعد

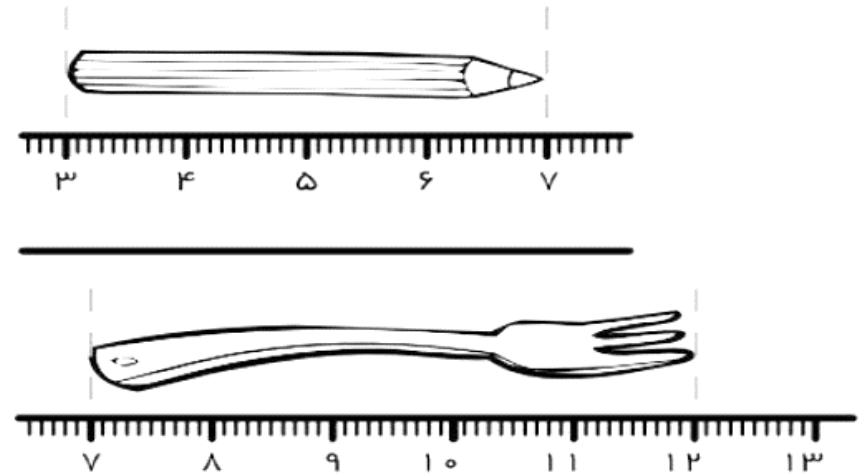
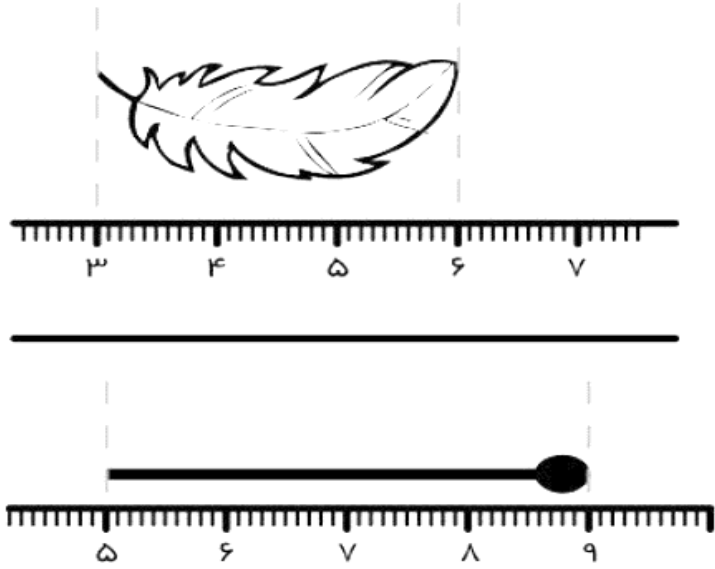


.....

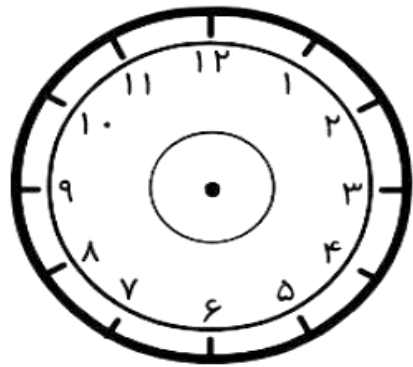
.....

.....

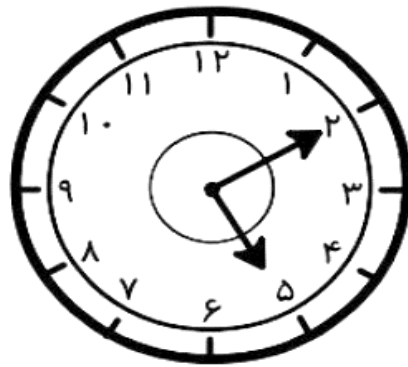
اندازه‌ی هر شکل را با توجه به خط کش بنویس.



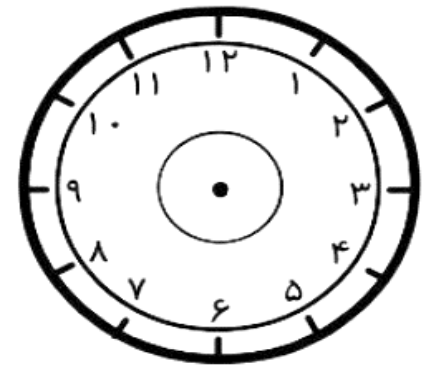
زمانی را که نشان داده شده بنویس. سپس ساعت‌های دو طرف را کامل کن.




یک ربع قبل



نیم ساعت بعد





جای خالی را کامل کنید .

۲۸ میلی متر یعنی ..... سانتی متر و ..... میلی متر است

۴۵ میلی متر یعنی ..... سانتی متر و ..... میلی متر است .

..... میلی متر یعنی ۷ سانتی متر و ۳ میلی متر است .

..... میلی متر یعنی ۹ سانتی متر و ۴ میلی متر است .

۴ سانتی متر یعنی ..... میلی متر است .

۶ سانتی متر یعنی ..... میلی متر است .

..... سانتی متر یعنی ..... میلی متر است .



موفق و پیروز باشید