

ردیف

سوالات

حاصل عبارت را به کمک محور به دست آورید.

۱

$$300 + 500 - 200 =$$



ابتدا حاصل جمع و تفریق ها را به دست آورید سپس جواب را مقایسه کنید .

۲

$$=300+100+50+10+5 \quad \circ \quad 250+100+50+10=$$

$$=400-100 \quad \circ \quad 300+5=$$

$$=70-20 \quad \circ \quad 30+20=$$

الگوهای عددی را ادامه دهید.

۳

۱۲۰؛ ۱۴۰ ؛.....؛.....؛..... ۲۳؛۲۴؛۲۶ ؛.....؛.....؛.....

با رقم های ۲؛۴؛۵ چند عدد سه رقمی می توان نوشت ؟ آنها را بنویسد . در کدام عدد دهگان بیشتر از صدگان است ؟

۴

باز شده اعداد را بنویسد.

۵

$$506=$$

$$364=$$

ساعت چه زمانی را نشان می دهد آن را به دو صورت گذشته و مانده بنویسد.

۶



مانده

.....

گذشته

.....

فکر کنید و پاسخ دهید .

۷

۸سانتی متر میلی متر است .

۲۳ میلی متر یعنیسانتی متر و میلی متر

۷سانتی متر و ۵میلی متر می شود..... میلی متر

اعداد زیر به چه عددی نزدیک ترند؟

۸

عدد ۲۵۷ به ۲۵۰ نزدیکتر است یا به؟.....

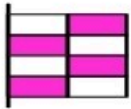
عدد ۱۱۲ به نزدیکتر است یا به ۱۲۰؟.....

۹. حاصل جمع و تفریق ها را از سمت راست حل کنید.

$$\begin{array}{r} 352 \\ + 76 \\ \hline \end{array} \quad \begin{array}{r} 183 \\ + 275 \\ \hline \end{array} \quad \begin{array}{r} 804 \\ - 325 \\ \hline \end{array} \quad \begin{array}{r} 763 \\ - 172 \\ \hline \end{array}$$



۱۰. دور اعداد زوج خط بکشید .
۶۲۱-۲۷۸-۳۱۰-۴۵۹

۱۱. عبارت را کامل کنید .



.....قسمت ازقسمت رنگی است .

۱۲. جای خالی را پر کنید.



.....دسته یتایی می شود

.....دسته یتایی می شود.....


۱۳. در جعبه ای ۵ دکمه ی قرمز و ۷ دکمه ی سفید است ؛ اگر بدون نگاه کردن یک دکمه بیرون آوردیم احتمال اینکه کدام دکمه بیرون بیاید بیشتر است ؟ چرا

۱۴. قد سا را ۱۲۵ سانتی متر است خواهرش از او ۳۵ سانتی متر بلندتر است قد خواهر سارا چند سانتی متر است ؟

۱۵. امین ۴۶۵ ریال پول داشت . او با پولش یک مداد ۲۵۰ ریالی و یک تراش ۱۰۰ ریالی خرید . امین چند ریال از پولش را خرج کرده است ؟
چند ریال برای او باقی مانده است؟

۱۶. ۴ نوع دانه را در روز شنبه خیساندیم و بعد از سه روز جوانه های آن را اندازه گرفتیم . اندازه ها به ترتیب زیر بودند؛ با در نظر گرفتن یک □ برای هر سانتی متر نمودار را کامل کن .

نخود: ۴ سانتی متر لوبیا: ۳ سانتی متر ماش: ۲ سانتی متر عدس: ۱ سانتی متر



خود سنجی:

حروف درهم ریخته را مرتب کرده و نام شهرها را پیدا کرده و بنویسید.

- ۷ ن، ا، ه، ص، ف (.....) ز، ا، ش، ر، ی (.....)
- م، ر، ک، ن، ا (.....) ن، ن، ج، د، س (.....)

جاهای خالی را با کلمه ی مناسب پر کن .

- ۸ به محلّ پالایش می گویند. به محلّ آموزش می گویند.
- به محلّ گردش می گویند. به محلّ بازداشت می گویند.

اسم تصاویر جاهای دیدنی را نوشته و سپس دوسطر در مورد هر کدام بنویسید.



((.....))

((.....))

.....

.....

.....

.....

مانند نمونه کامل کن. مردان یعنی چند مرد ← مردها

- ۱۰ چشمان یعنی ← زنان یعنی ←
- بلبلان یعنی ← کودکان یعنی ←

یکی از کارتونها را که به تازگی دیده ای به یاد بیاور و به این سوال ها پاسخ بده.

- ۱۱ ❖ از کدام آدم یا حیوان خوشتر آمد؟ چرا؟.....
-
-
- ❖ اگر تو به جای قهرمان داستان بودی، چه می کردی؟.....
-

پنج کلمه بنویس که حروف چسبیده به هم داشته باشند.

- ۱۲ ((.....)) ((.....)) ((.....)) ((.....)) ((.....))

درست و نادرست بودن هر یک از جملات زیر را مشخص کنید.

- درست نادرست
 درست نادرست
 درست نادرست

تخت جمشید در اصفهان است .

برج میلاد در شهر مشهد قرار دارد.

مردم ایران کشور خود را از حمله ی دشمنان حفظ می کنند.

کامل کن.

پناهگاه جایی است که گردهشگاه جایی است که

آزمایشگاه جایی است که زیارتگاه جایی است که

مانند نمونه انجام بده .

ان	گاه	ها	نشانه
			کلمه
درختان	_____	درخت ها	درخت
			ورزش
			کتاب
			کارمند



مرتب کن و بنویس.

با ایمان ، مردان ، هستند ، و ، زنان ، ایرانی ، پرتلاش ، هستند

((.....))

کشوری ، می کنم ، زیبایی ، داشتن ، من ، این ، به ، همه ، با ، افتخار

((.....))

هر دسته را به ترتیب از کوچک به بزرگ مرتب کن.

دريا ، اقيانوس ، رود . (.....)

کشور ، روستا ، شهر . (.....)

قطار ، اتوبوس ، دوچرخه . (.....)

جدول مقابل را کامل کن.

سوغات	جای دیدنی	آرامگاه	زیارتگاه	مشخصات
				نام شهر
				مشهد
				اصفهان