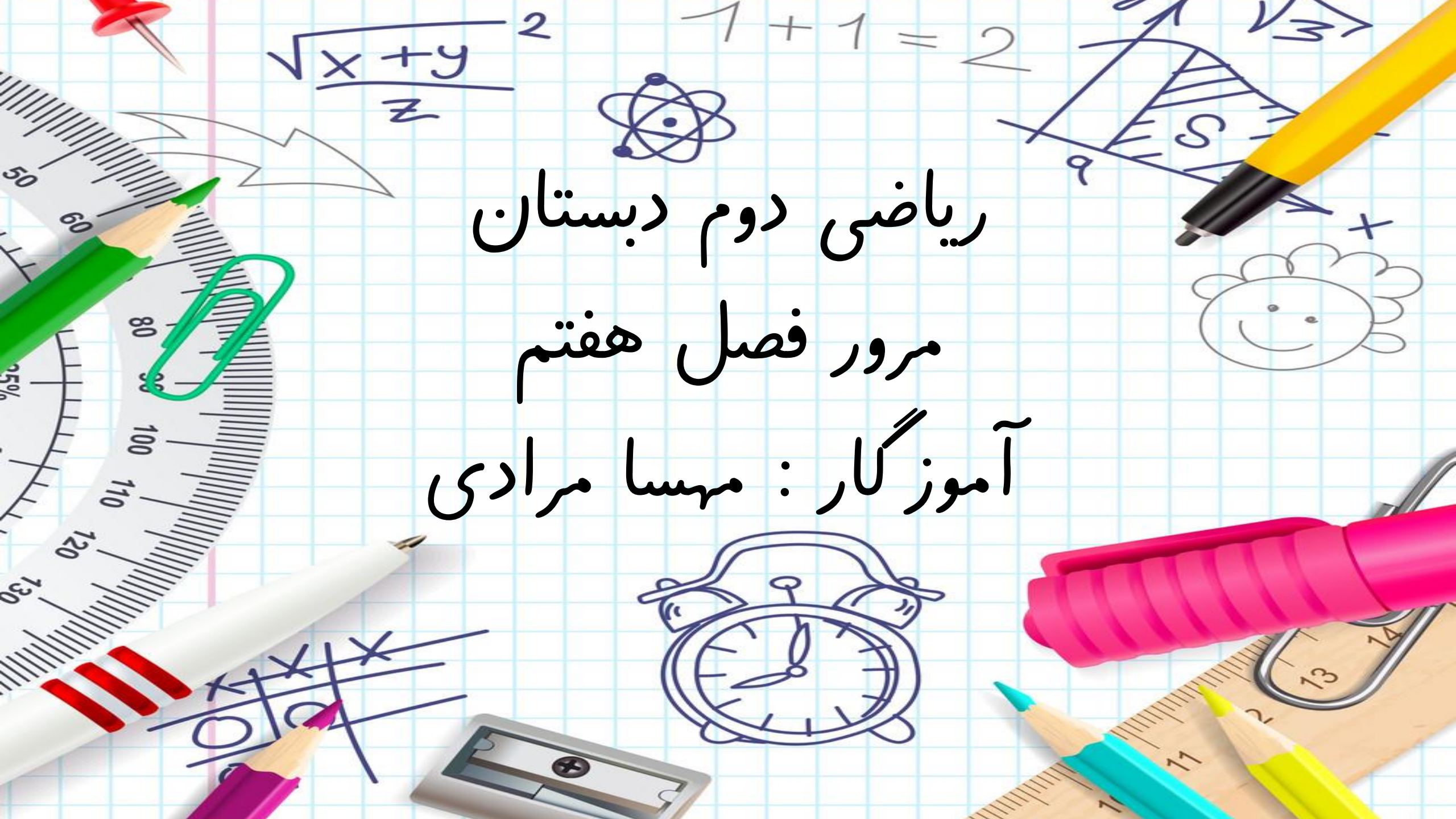


ریاضی دوم دبستان
مرور فصل هفتم
آموزگار : مهسا مرادی







« فصل ۷ : کسر و احتمال »

- مفهوم کسر (۱ قسمت از ۴ قسمت مساوی)
- مفهوم احتمال (شانس بیشتر و کمتر)
- راهبرد حل مسئله ساده تر
- مفهوم ضرب (۲ دسته ۵ تایی می شود ۱۰)

نمونه سوال



شکل هایی که به قسمت های مساوی تقسیم شده اند را پیدا کنید و بنویسید چه بخشی از شکل رنگ شده است.



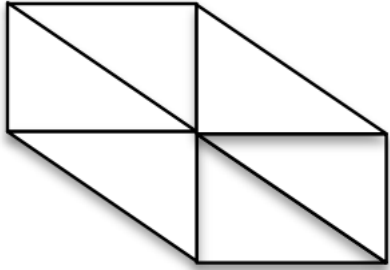
..... قسمت از قسمت مساوی رنگ شده است.

..... قسمت از قسمت مساوی رنگ شده است.

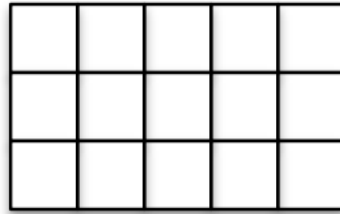
..... قسمت از قسمت مساوی رنگ شده است.

..... قسمت از قسمت مساوی رنگ شده است.

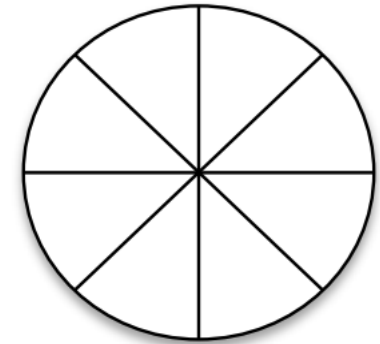
به اندازه ای که نوشته شده از هر شکل رنگ کن.



۴ قسمت از ۶ قسمت مساوی




۸ قسمت از ۱۵ قسمت مساوی



۸ قسمت از ۸ قسمت مساوی

ساعت چند است؟



عقربه ی بزرگ ۱۰ دقیقه حرکت می کند. مقدار حرکت آن را رنگ کنید
و بگویید مقدار چرخش آن چند قسمت از صفحه ی ساعت است؟




در داخل یک کیسه ۲۵ شکلات آبی رنگ و ۱۴ شکلات سبز رنگ وجود دارد. اگر بدون نگاه کردن به داخل کیسه یک شکلات برداریم ، شانس اینکه شکلات آبی رنگ باشد بیشتر است یا سبز رنگ؟ چرا؟

.....

.....

دو دایره هم اندازه می کشیم. یک دایره را به ۱۰ قسمت مساوی تقسیم می کنیم و ۱ قسمت را رنگ

می کنیم. دایره ی دیگر را به ۱۰۰ قسمت مساوی تقسیم می کنیم و ۱ قسمت آن را رنگ می کنیم.



کدام دایره مقدار بیشتری رنگ شده است؟



با توجه به شکل ها کامل کن.



..... دسته ی تایی برابر است با

..... دسته ی تایی برابر است با

عدد ۲۳ را با رنگ کردن شکل زیر نشان دهید.



باتوجه به قسمت های رنگ شده جاهای خالی زیر را کامل کنید.

۲۳ یعنی ده تایی و قسمت از قسمت مساوی.

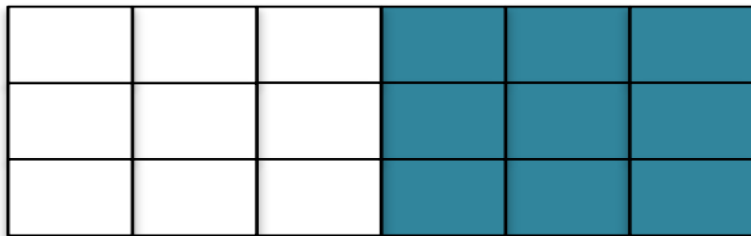
*به همین ترتیب جاهای خالی زیر را کامل کنید.

۶۷ یعنی ده تایی و قسمت از قسمت مساوی.

..... یعنی ۹ ده تایی و ۴ قسمت از ۱۰ قسمت مساوی.



در کدام هدف ، تیر با احتمال بیشتری به رنگ سفید برخورد می کند؟ چرا؟



هدف (۲)



هدف (۱)

دایناسور کوچولو وقتی به دنیا آمد مادرش ۳۲۴ سال داشت. دایناسور کوچولو الان ۱۱۵ سال دارد.

مادرش چند ساله شده است؟ (به روش تقریب زدن حل کنید.)



مریم ۲۸۴ شاخه گل دارد. ۱۰۷ تا از آن ها سبز، ۵۳ تا آبی و بقیه قرمز هستند. چند شاخه گل قرمز است؟

(ابتدا به روش تقریب زدن اعداد حل کنید و بعد، تعداد گل ها را دقیق حساب کنید.)



موفق و پیروز باشید