

صحیح یا غلط بودن جمله ها را مشخص کنید.

- الف) عدد ۷ عدد فردی است. ص غ
- ب) یک متر ۱۰۰ سانتی متر است. ص غ
- ج) تقریب عدد ۳۹ عدد ۳۰ است. ص غ
- د) گسترده ی عدد ۷۰۲ به این صورت است : $۷۰۰+۲۰+۲$ ص غ

۱

جمله ها را با کلمه ی مناسب کامل کنید.

- الف) تعداد گوشه های یک ۵۰ ضلعی گوشه است.
- ب) در ساعت ۱۵ دقیقه را به صورت هم می خوانیم.
- ج) مربع ضلع گوشه دارد.

۲

در هر قسمت گزینه ی صحیح را انتخاب کن.

- تقریب عدد باز شده با حذف یکان کدام گزینه است.

- الف) ۳۰۸ ب) ۳۰۰ ج) ۳۴۰ د) ۳۴۸

- ۲ سانتی متر و ۸ میلی متر می شود :


- الف) ۸۲ میلی متر ب) ۲۸ میلی متر ج) ۸۲ سانتی متر د) ۲۸ سانتی متر

- عقربه ی کوچک ساعت بین ۶ و ۷ است و عقربه ی بزرگ روی ساعت ۱۰ است . ساعت چه وقتی را نشان می دهد؟

- الف) ۶:۳۰ ب) ۵:۳۰ ج) ۱۰ دقیقه مانده به ۶ د) ۱۰ دقیقه مانده به ۷

۳

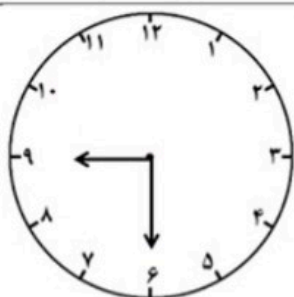
با رقم یا حروف بنویس.



با رقم
با حروف

۴

ساعت را به دو صورت بنویس.



ساعت

۵

به سوالات زیر پاسخ درست و کامل دهید.

عددهای زیر را با هم مقایسه کنید و علامت لازم را بگذارید.

$329 \square 318$

$209 \square 290$

$300+2 \square 302$

$718 \square 728$

۶

تفاوت و شباهت این دو شکل را بنویس.



شباهت:

تفاوت:


۷

الگوی عددی را ادامه بده.


۱-۴-۹-۱۶- - - - -

۸

با توجه به شکل کامل کن.



..... دسته ی تایی



..... دسته ی تایی

۹

جمع و تفریق را از راه طولانی (گسترده نویسی انجام بده). برای یکی از آنها شکل بکش.

$$\begin{array}{r} 3 \ 6 \ 4 \\ + 1 \ 2 \ 3 \\ \hline \end{array}$$

$$\begin{array}{r} 8 \ 4 \ 9 \\ - 2 \ 3 \ 6 \\ \hline \end{array}$$

۱۰

حاصل جمع و تفریق را از راه تکنیکی به دست آورید.

$$\begin{array}{r} 4 \ 9 \ 6 \\ + 1 \ 8 \ 5 \\ \hline \end{array}$$

$$\begin{array}{r} 8 \ 0 \ 0 \\ - 1 \ 2 \ 6 \\ \hline \end{array}$$

۱۱

قد مهران ۱۶۲ سانتی متر است خواهرش ۱۲ سانتی متر از او کوتاه تر است . قد خواهرش چند سانتی متر است؟

۱۲

درست و نادرست بودن هریک از جملات زیر را مشخص کنید.


 نادرست

 درست

شاهنامه کتاب با ارزشی است. 

 نادرست

 درست

نوشتن شاهنامه سی سال طول کشید. 

 نادرست


 درست


فاصله ی شهر توس تا مشهد بسیار زیاد است. 


۱

به هریک از کلمات زیر یک بار ((تر)) و بار دوّم ((ترین)) اضافه کن و جمله بساز.

..... : ← کوتاه + کوتاه 

..... : ← کوتاه + کوتاه 

..... : ← زیبا + زیبا 

..... : ← زیبا + زیبا 

۲

کامل کن.

الف) برق می رود ، یعنی خانه می شود.

ب) کسی از هوش می رود ، یعنی او می شود.

ج) کسی به پدرش می رود ، یعنی او پدرش است.

د) پیراهن کسی آب می رود ، یعنی پیراهن او می شود.

۳

مرتب کن و بنویس.

اثری ، پدید ، عظیم ، فردوسی ، آورد .

((.....))

است ، داستان های ، همه ی ، شاهنامه ، به ، شعر .






((.....))

قول ، پدرم ، کند ، تعریف ، یک ، داد ، داستان ، برایم .

((.....))

۴




هر کلمه تو را یاد چه چیزهایی می اندازد؟ سه تا از آن ها را بنویس.



۵

((یک کلاغ چهل کلاغ)) یعنی چه ؟

۶

۷	<p>کامل کن.</p> <p>✘ ما همراه به روستای زادگاه پدرم ✘ شما هر روز به مادران کمک ✘ هر سال ده کتاب داستان می خوانی . ✘ آن ها هر هفته از بازار میوه</p>
۸	<p>چرا مردم میهن مل به فردوسی احترام می گذارند ؟</p>
۹	<p>جمله بسازید.</p> <p>☀ صحبت : ((.....)) ☀ عظیم : ((.....)) ☀ تعریف : ((.....))</p>
۱۰	<p>مخالف کلمه های مقابل را بنویس. ✎ زیاد : (.....) ✎ برگشتن : (.....)</p>
۱۱	<p>هم معنی کلمات مقابل را بنویس. ✎ عظیم : (.....) ✎ زنده : (.....)</p>
۱۲	<p>حروف را مرتب کرده و کلمه بسازید. ه ت ، ح ، ز ، م (.....) ه ج ، ع ، م ، ت ، ی (.....)</p>
۱۳	<p>جاهای خالی را با توجه به درس فردوسی با کلمه های مناسب پر کنید.</p> <p>در شهر توس فردوسی قرارداد. شاهنامه کتاب است که در آن داستان های زیادی در باره ی ایران و پهلوانان آن راهنما از شاهنامه خواند و با ما کرد.</p>
۱۴	<p>هر عکس چه مکانی را نشان می دهد؟ درباه اش یک سطر بنویس.</p> <div style="display: flex; justify-content: space-around; align-items: center;">    </div> <p>۱- ((.....)) ۲- ((.....)) ۳- ((.....))</p> <p>.....(۱) (۲) (۳)</p>
۱۵	<p>نوشته ی زیر را ادامه دهید.</p> <div style="border: 1px solid black; padding: 10px; margin: 10px;"> <p>یک روز مهدی و مادرش می خواستند به شهر توس</p> <p>.....</p> <p>.....</p> </div>