

بِسْمِ اللّٰهِ الرَّحْمٰنِ الرَّحِیْمِ

مرور مبحث جمع

آموزگار : میترا نخجوانی

عدد مربوط به انگشتان هر دست را بنویس. انگشتان دست چپ را تا جایی که می شود به دست راست منتقل کن و حاصل را بنویس.

بشمار و بنویس



$$3 + 1 = 4$$



$$4 + 3 = 7$$



$$3 + 3 = 6$$




$$4 + 4 = 8$$

❖ با بستن هر انگشت دست چپ، یک انگشت دست راست را باز می کنیم سپس هر دو دست را به ترتیب می شماریم



ابتدا به تعداد شکل‌های هر دسته در سمت راست خوب خط بکش. سپس عبارت جمع را کامل کن.


دو عدد را پیدا کن که جمع آن‌ها برابر با عددی باشد که بالای ستون نوشته شده است.



$$\begin{array}{|c|} \hline \text{4 forks} \\ \hline \end{array} + \begin{array}{|c|} \hline \text{3 forks} \\ \hline \end{array} = \begin{array}{|c|} \hline \text{7 forks} \\ \hline \end{array} \quad 4 + 3 = 7$$

$$\begin{array}{|c|} \hline \text{5 spoons} \\ \hline \end{array} + \begin{array}{|c|} \hline \text{3 spoons} \\ \hline \end{array} = \begin{array}{|c|} \hline \text{8 spoons} \\ \hline \end{array} \quad 5 + 3 = 8$$

$$\begin{array}{|c|} \hline \text{5 knives} \\ \hline \end{array} + \begin{array}{|c|} \hline \text{2 knives} \\ \hline \end{array} = \begin{array}{|c|} \hline \text{7 knives} \\ \hline \end{array} \quad 5 + 2 = 7$$



	۲	۳	۴	۵	۶
۰	۲	۰ ۳			
۱	۱	۱ ۲			
۲	۰	۲ ۱			
		۳ ۰			



من میخورم شما
بشمارید:)



به تعداد عدد سمت چپ مربع آبی و به تعداد عدد سمت راست مربع سبز رنگ کن. چند تا مربع رنگ شده؟ حاصل جمع را بنویس.

بشمار و بنویس



شماره ۲

$$۲ + ۴ = 6$$

شماره ۳

$$۳ + ۲ = 5$$

شماره ۴

$$۴ + ۳ = 7$$

شماره ۶

$$۶ + ۳ = 9$$

شماره ۵

$$۵ + ۵ = 10$$

شماره ۴

$$۴ + ۶ = 10$$

شماره ۷

$$۷ + ۳ = 10$$

فیلم



۱۰ - ۱۰ - ۱۰


دو عدد پیدا کن که جمع آنها برابر با عددی باشد که بالای آن ستون نوشته شده است.

۷		۸		۹		۱۰	
۰	۷	۰	۸	۰	۹		
۱	۶	۱	۷	۱	۸		
۲	۵	۲	۶	۲	۷		
۳	۴	۳	۵	۳	۶		
۴	۳	۴	۴	۴	۵		
۵	۲	۵	۳	۵	۴		
۶	۱	۶	۲	۶	۳		
۷	۰	۷	۱				
		۸	۰				



بشمار و بنویس

به کمک انگشتان جواب جمع را پیدا کن. حالا بگو دو دسته روی هم چند شکل دارند؟ برای آن یک جمع بنویس.




$$7 + 6 = 13$$



$$6 + 8 = 14$$



$$6 + 5 = 11$$



$$8 + 7 = 15$$

❖ بشماریم



CODE: 1345370
www.parsstock.ir

parsstock

دانش آموزان برای نمایش ۰، ۷ تا ۹ را به ذهن می‌سپارند (می‌توانید به آن‌ها بگویید عدد ۵ روی شانه‌ی شما است) و ۲ را با انگشتان دست نشان می‌دهند. برای جمع ۶ و ۷ در واقع عددهای ۱ و ۲ جمع و سپس با ۳ تا ۵ (۱۰) روی شانه جمع می‌شود.

از فرزند خود فقط جمع‌های با حاصل کمتر از ۱۵ را سؤال کنید. این صفحه نیاز به تعریف فراوان دارد تا دانش‌آموز به این روش جمع کردن مسلط شود.



موفق باشید

پایان

آموزگار : میترا نخجوانی