

بِسْمِ اللّٰهِ الرَّحْمٰنِ الرَّحِیْمِ

مرور تفریق

آموزگار : میترا نخجوانی



بشمار و بنویس

به تعداد انگشتانی که دست سمت راست نشان می دهد از انگشتان دست سمت چپ بکشد. حالا چه عددی را نشان می دهد؟ تفریق مربوط به شکل ها را بنویس.



$$4 - 1 = 3$$



$$5 - 3 = 2$$



$$5 - 2 = 3$$



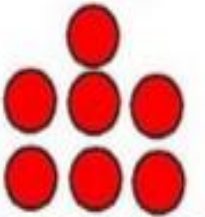











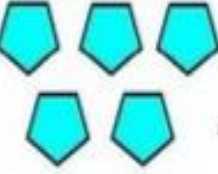
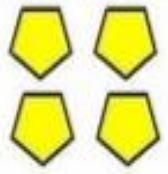






$$4 - 4 = 0$$

❖ تفریق




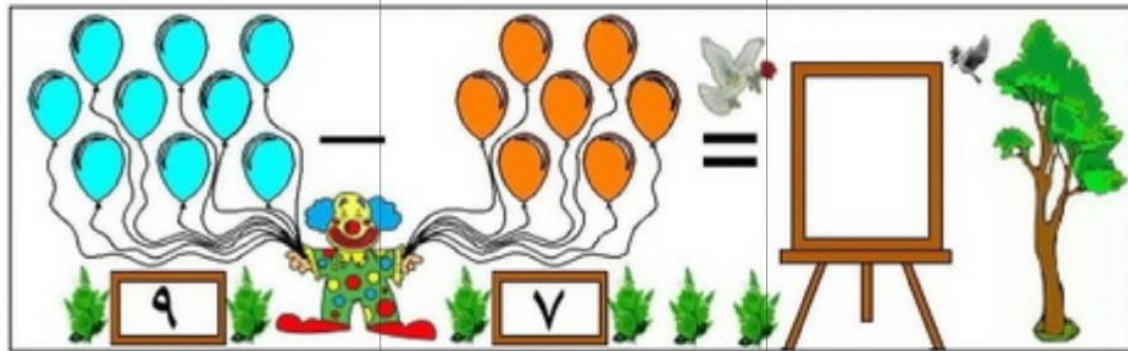
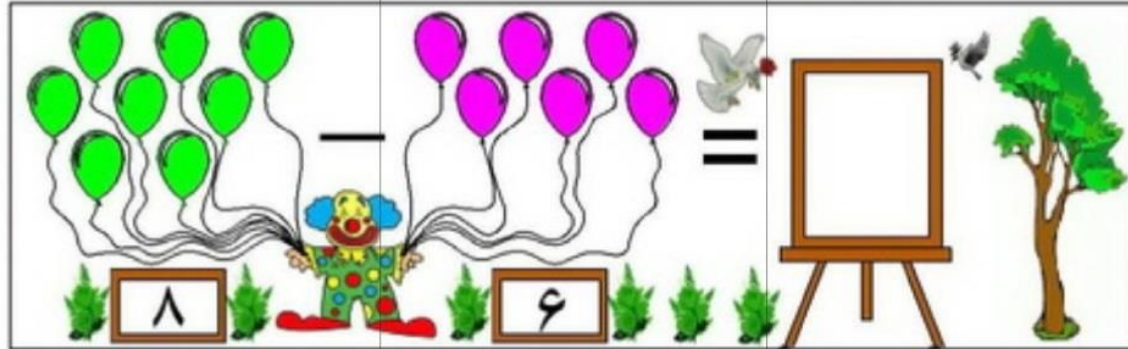

دانش آموز از این صفحه با نماد تفریق و نوشتن یک عبارت تفریق آشنا می شود.

فرزند شما مفهوم تفریق را به صورت های مختلف تمرین کرده است. در این صفحه فقط نماد آن را تمرین می کند.


	-			-		=	<input data-bbox="1057 228 1159 392" type="text"/>
	-			-		=	<input data-bbox="1057 442 1159 606" type="text"/>
	-			-		=	<input data-bbox="1057 656 1159 821" type="text"/>
	-			-		=	<input data-bbox="1057 871 1159 1035" type="text"/>
	-			-		=	<input data-bbox="1057 1085 1159 1249" type="text"/>

❖ فیلم (زنگ تفریح)





حاصل تفریق یادکنک های هر ردیف را در کادر مقابل بنویسید.



تفریق روی محور



$15 - 3 = \square$

$13 - 3 = \square$

$17 - 9 = \square$

$19 - 9 = \square$

$11 - 7 = \square$

$11 - 1 = \square$

$13 - 9 = \square$

$13 - 8 = \square$

$17 - 6 = \square$

$17 - 7 = \square$

$16 - 5 = \square$

$16 - 9 = \square$

❖ تفریق کن



تکلیف منزل



پایه : دوم

((پاڑی ریاضی))

علوی
 مدارس هزاره سوم


تفریق

اهداف:

آشنایی با مفهوم تفریق

آشنایی با تفریق اعداد با راهبرد رسم شکل



پسر پرتلاشم به سوالات زیر پاسخ بده .

چند مداد داخل جامدادی خود داری؟ تعداد آن ها را بنویس.

مدادهای قرمز، مشکی و آبی را از کل مداد هایت کم کن حالا چند مداد

برایت باقی می ماند؟

عزیزم داستان را بخوان و جاهای خالی را کامل کن.

پرنده ها با هم دنبال غذا بودند آن ها ۱۵ دانه را با خود به لانه آوردند ۳ تا از دانه

ها را جوجه ها خوردند حالا پرنده ها فقط دانه داشتند.

موش کوچولو به خانه ی آن ها آمد و ۵ را خورد حالا پرنده ها دانه

داشتند.

مورچه ها به دیدن پرنده ها رفتند و ۳ دانه برای آن ها هدیه بردند حالا پرنده ها

..... دانه داشتند که می توانستند بخوردند.

مورچه ها و پرنده ها ۶ دانه را برای شام خوردند، حالا آن ها دانه داشتند.



Jik Jik



آموزگار : میترا نخبوانی

پایان