



به نام خداوند مهربان

ریاضیدان کوچک

حل مسئله

آموزگار: خانم نخجوانی





مراحل حل مسئله

- ۱- مسئله را با دقت بخوانید.
- ۲- دور عدد های مسئله خط بکشید.
- ۳- برای مسئله شکل یا محور یا چوب خط بکشید.
- ۴- برای مسئله عبارت ریاضی بنویسید.
- ۵- برای مسئله عبارت فارسی بنویسید.



علی یک بسته مدادرنگی ۱۲ تایی داشت .

دوستش به او یک بسته ی مدادرنگی ۶ تایی هدیه داد .

$$۱۲ + ۶ = ۱۸$$

۱۸ مدادرنگی دارد.

(۱) علی چند مدادرنگی دارد؟



(۲) او مدادهای زرد و آبی را از هر دو دسته برداشت ، چند مداد برداشته است؟

۶ مداد برداشته است.

(۳) چند مداد برایش باقی مانده است؟

$$۱۸ - ۶ = ۱۲$$

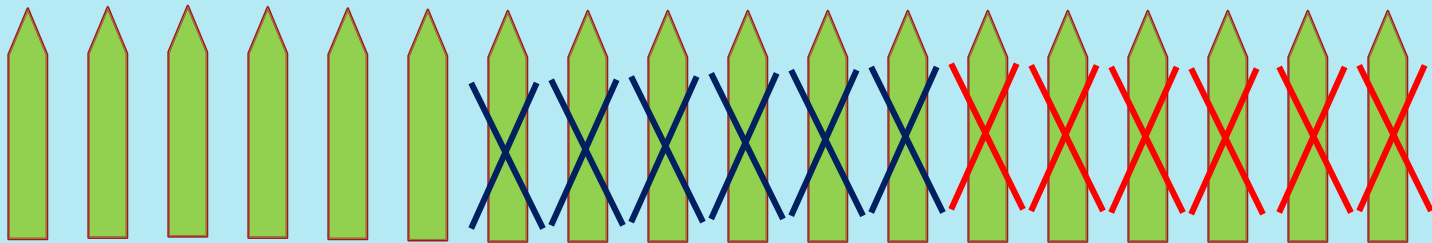
۱۲ مداد برایش باقی مانده است.





زهرا ۱۸ مداد رنگی داشت . ۶ تا را در خانه گذاشت و به مدرسه رفت .
در مدرسه ۶ تا از مدادها را به دوستش داد .
حالا چند تا مداد برایش باقی مانده است ؟

۶ مداد برایش باقی مانده است .



مسئله ها را با چوب خط و یا با کشیدن شکل حل کن
و یک عبارت جمع یا تفریق بنویس .


۱۲ شکلات در ظرف بود . بچه ها ۷ تا را خوردند .
حالا چند شکلات در ظرف است ؟

۵ شکلات در ظرف مانده است .



$$۱۲ - ۷ = ۵$$





منصوره ۱۸ ستاره ی رنگی ۸ تا را در دفترش داشت حالا چند ستاره دارد ؟
چسباند .



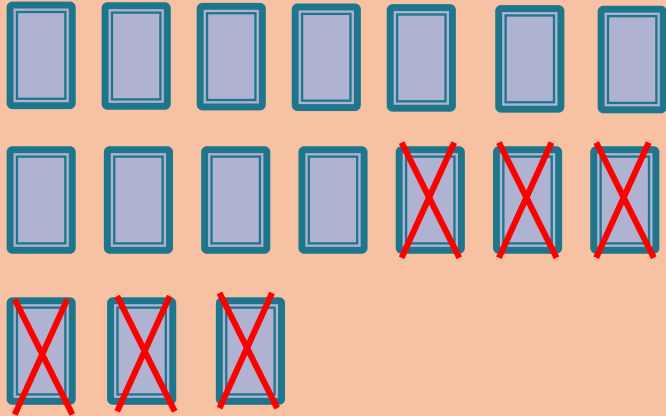
$$۱۸ - ۸ = ۱۰$$

۱۰ ستاره دارد .






فرهاد ۱۷ کارت بازی در دست داشت
۶ تا را روی میز گذاشت
حالا چند کارت در دست دارد؟



حالا ۱۱ کارت دارد.

$$۱۷ - ۶ = ۱۱$$







- فاطمه ۱۱ مهره ی رنگی داشت .
- ۴ تا مهره ی قرمز هم خرید .
- حالا فاطمه چند مهره دارد ؟

حالا فاطمه ۱۵ مهره دارد .

$$۱۱ + ۴ = ۱۵$$





در خانه ۱۲ قاشق غذاخوری بود .
مادر یک بسته ی ۶ تایی دیگر خرید .
حالا چند قاشق غذاخوری در خانه است ؟


حالا ۱۸ قاشق در خانه است .



$$۱۲ + ۶ = ۱۸$$



مسئله ها را با استفاده از چوب خط ، مهره و اشیاء
دیگر حل و جمله ها را کامل کن .




در گلدان ۶ گل سفید و ۸ گل صورتی بود .
۱۰ تا از گل ها پژمرده شد .
چند گل شاداب در گلدان است ؟

$$\begin{array}{|c|} \hline 6 \\ \hline \end{array} + \begin{array}{|c|} \hline 8 \\ \hline \end{array} = \begin{array}{|c|} \hline 14 \\ \hline \end{array}$$

.....۱۴ گل در گلدان است

$$\begin{array}{|c|} \hline 14 \\ \hline \end{array} - \begin{array}{|c|} \hline 10 \\ \hline \end{array} = \begin{array}{|c|} \hline 4 \\ \hline \end{array}$$

.....۴ گل شاداب است





پایان

آموزگار: خانم نخجوانی