



مثال: تعداد پروانه‌ها و گل‌ها را بشمار و بین اعداد آن‌ها علامت مناسب قرار بده.



پاسخ: تعداد پروانه‌ها از گل‌ها بیشتر است.

	گل	پروانه
چوب خط		
به عدد	۸	۱۰

ساعت دقیق




ساعت دارای ۲ عقربه‌ی ساعت شمار و دقیقه شمار است. در ساعت دقیق، عقربه‌ی دقیقه شمار روی عدد ۱۲ است و عقربه‌ی ساعت شمار روی هر عددی باشد، ساعت دقیق را نشان می‌دهد. ساعت ۳:۰۰ است.

کار در کلاس



۱. تعداد جوجه‌ها و درخت‌ها را بشمار و به عدد و حروف بنویس.



تعداد جوجه‌ها


به عدد:



به حروف:



تعداد درخت‌ها



به عدد:

به حروف:

۲. برای این که شمارش دقیقی داشته باشی کدام کارها را انجام دادی؟ شکل  مقابل آن را رنگ کن.

 از یک طرف شروع به شمارش کردم. 


 به ترتیب شمردم. 

 روی هر شکلی که شمردم علامت زدم. 





۳. تعداد کتاب‌های داخل کیف خود را سرشماری کن و با چوب‌خط نشان بده. در پایان با شمارش آن‌ها، تعداد کتاب‌هایت را بنویس.



۴. تعداد کتاب‌های خودت و دوستت را بنویس و در علامت مناسب ($<$ $=$ $>$) بگذار.

تعداد کتاب‌های دوستم تعداد کتاب‌های من

۵. جدول زیر را با نوشتن عددها از ۰ تا ۹ کامل کن.

به عدد	۰	۱	۲	۳	۴	۵	۶	۷	۸	۹
به حروف		یک								
به لاتین (انگلیسی)					5					

۶. هر ساعت چه زمانی را نشان می‌دهد؟



..... ساعت



..... ساعت



..... ساعت



..... ساعت

