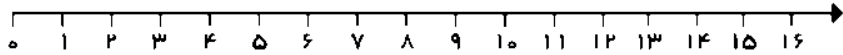




۱- حاصل جمع و تفریق زیر را با استفاده از محور به دست آورید.



$12 - 4 + 9 = \dots\dots\dots$

۲- عددهای زیر را به عدد و به حروف بنویسید.

* رقم یکان ۲ و رقم دهگان ۹: $\dots\dots\dots / \dots\dots\dots$

* رقم یکان ۴ و رقم دهگان ۴: $\dots\dots\dots / \dots\dots\dots$

۳- جاهای خالی را کامل کنید.

* ۳ بسته ی ده تایی به اضافه ی ۴ بسته ی ده تایی می شود $\dots\dots\dots$ بسته ی ده تایی. یعنی $30 + 40 = \dots\dots\dots$

* ۸ بسته ی ده تایی منهای ۲ بسته ی ده تایی می شود $\dots\dots\dots$ بسته ی ده تایی. یعنی $80 - 20 = \dots\dots\dots$

* ۵ بسته ی ده تایی به اضافه ی ۵ بسته ی ده تایی می شود $\dots\dots\dots$ بسته ی ده تایی. یعنی $50 + 50 = \dots\dots\dots$

۴- همهی عددهای دو رقمی را بنویسید که رقم های یکان آنها ۲ و ۴ و رقم های دهگان آنها ۶ و ۸ باشد.

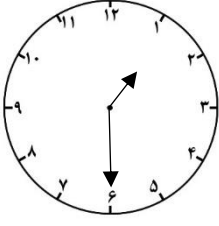
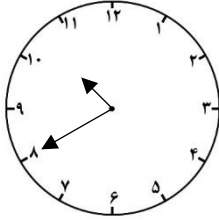
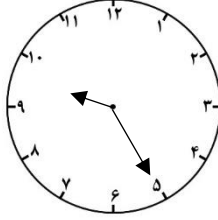
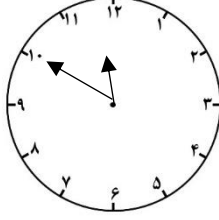
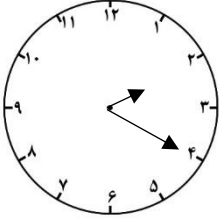
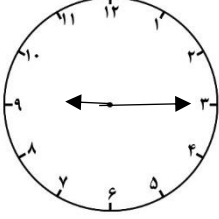
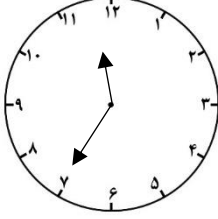
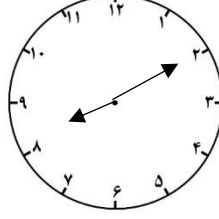
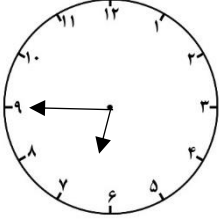
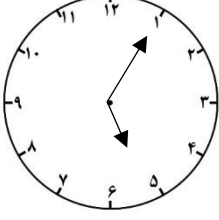
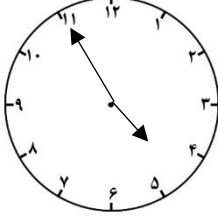
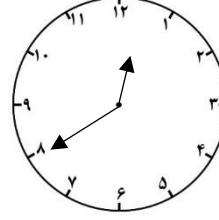
.....

۵- تقریب بنویس.

$25 =$	$89 =$	$92 =$	$36 =$	$41 =$	$74 =$
$53 =$	$67 =$	$12 =$	$65 =$	$83 =$	$97 =$
$15 =$	$38 =$	$49 =$	$71 =$	$58 =$	$86 =$



۶- ساعت چند است؟

 <p>.....</p>	 <p>.....</p>	 <p>.....</p>	 <p>.....</p>
 <p>.....</p>	 <p>.....</p>	 <p>.....</p>	 <p>.....</p>
 <p>.....</p>	 <p>.....</p>	 <p>.....</p>	 <p>.....</p>

