



نام و نام خانوادگی:

تاریخ:


۱. با توجه به شکل‌ها، جاهای خالی را کامل کن.



به رقم:

به حروف:

تعداد مدادها دسته‌ی ده‌تایی و یکی است.



به رقم:

به حروف:

تعداد گوجه‌فرنگی‌ها دسته‌ی ده‌تایی و یکی است.

۲. جاهای خالی را کامل کن.

۳۹ - - - - (الف)
 - - هشتاد و شش - هشتاد و هفت - (ب)

۳. برای عدد ۱۸ شکل بکش و آن را در جدول ارزش مکانی نشان بده.

ده‌تایی	یکی

۴. عددهای دورقمی بنویس.

الف) با کارت‌های ۴، ۸، ۰ هرچقدر می‌توانی عدد دورقمی بنویس.

ب) عددی بنویس که رقم یکان آن ۷ و دهگان‌ش یکی بیشتر از یکان باشد.



نام و نام خانوادگی:

تاریخ:

۵. حاصل جمع‌های زیر را بنویس.

$3 + 4 + 10 + 20 + 5 + 5 =$

$10 + 5 + 20 + 5 + 3 =$

$10 + 5 + 20 + 5 + 30 + 5 =$

$2 + 5 + 20 + 5 + 20 + 5 + 10 =$

۶. در علامت مناسب ($<=>$) بگذار.

8 3

7 $6 + 1$

13 8

16 12

4 $4 - 0$

0 5

۷. با توجه به ساعت‌ها جاهای خالی را کامل کن.



ساعت از گذشته و به مانده است.



ساعت است.

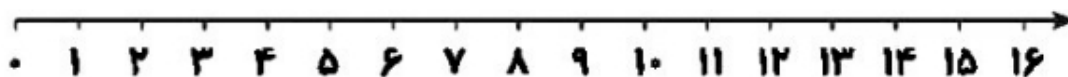
۸. با توجه به هر الگو در جاهای خالی، اعداد مناسب بنویس.

$10, 20, 30, \dots, \dots, \dots, \dots$
+۱۰

$6, 9, 12, \dots, \dots, \dots, \dots$
+۳

$5, 10, 15, \dots, \dots, \dots, \dots$
+۵

۹. اگر امروز ۵ مهر ماه باشد ۷ روز دیگر چندم مهر است؟





نام و نام خانوادگی:

تاریخ:

۱۰. چند عدد کمتر از ۲۰ دارای رقم ۹ هستند؟ آن‌ها را بنویس.

.....

.....

۱۱. حاصل جمع و تفریق‌های زیر را با روش‌های خواسته شده به دست بیاور؟

$14 - 6 =$ رسم شکل

$8 + 8 =$ چوب خط

$5 + 9 - 4 =$ محور



۱۲. برای عبارت زیر مسئله بنویس.

$16 - 9 = \square$



۱۳. مسئله را حل کن.

آقا محمد نجار است. او قرار است ۶ صندلی بسازد. او کف و پشت صندلی‌ها را ساخته و فقط پایه‌های صندلی‌ها مانده است.



الف) او دیروز ۸ پایه ساخته است. با این پایه‌ها چند صندلی کامل می‌شود؟

.....

ب) امروز صبح ۳ صندلی دیگر کامل شد. او امروز چند پایه ساخته است؟

.....

پ) چند صندلی بدون پایه مانده است؟

.....



نام و نام خانوادگی:

تاریخ:

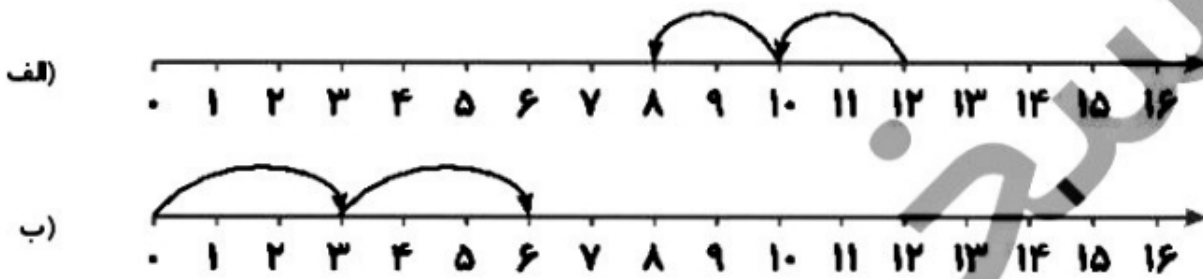
۱۴. ۴۲ ماشین در پارکینگ بودند. ۳۵ آن‌ها سفید و بقیه رنگی هستند. چند ماشین رنگی در پارکینگ است؟
(با رسم شکل)

.....

.....

.....

۱۵. الگو را روی محورهای زیر ادامه بده.



جدول خودارزیابی



نیاز به تلاش	قابل قبول	خوب	خیلی خوب	مهیبار	ملاک
<input type="checkbox"/>	<input type="checkbox"/>	<input type="checkbox"/>	<input type="checkbox"/>	<input type="checkbox"/>	شکل‌ها را با علامت زدن می‌شمارم.
<input type="checkbox"/>	<input type="checkbox"/>	<input type="checkbox"/>	<input type="checkbox"/>	<input type="checkbox"/>	اعداد را به ترتیب می‌نویسم.
<input type="checkbox"/>	<input type="checkbox"/>	<input type="checkbox"/>	<input type="checkbox"/>	<input type="checkbox"/>	می‌توانم اعداد را در جدول ارزش مکانی قرار دهم.
<input type="checkbox"/>	<input type="checkbox"/>	<input type="checkbox"/>	<input type="checkbox"/>	<input type="checkbox"/>	ساخت عدد با رقم‌ها و مقایسه اعداد را می‌دانم.
<input type="checkbox"/>	<input type="checkbox"/>	<input type="checkbox"/>	<input type="checkbox"/>	<input type="checkbox"/>	مسئله را با رسم شکل حل می‌کنم.
<input type="checkbox"/>	<input type="checkbox"/>	<input type="checkbox"/>	<input type="checkbox"/>	<input type="checkbox"/>	جمع و تفریق را با محور، شکل، چوب‌خط را انجام می‌دهم.
<input type="checkbox"/>	<input type="checkbox"/>	<input type="checkbox"/>	<input type="checkbox"/>	<input type="checkbox"/>	جمع و تفریق ترکیبی را انجام می‌دهم.
<input type="checkbox"/>	<input type="checkbox"/>	<input type="checkbox"/>	<input type="checkbox"/>	<input type="checkbox"/>	خواندن ساعت کامل و گذشته و مانده را می‌دانم.
<input type="checkbox"/>	<input type="checkbox"/>	<input type="checkbox"/>	<input type="checkbox"/>	<input type="checkbox"/>	الگویابی را یاد گرفتم.



نام و نام خانوادگی:

تاریخ:

۱. جدول‌های زیر را کامل کن.

$+$	۹	۸	۷
۱۱			
۱۲			

$-$	۶	۷	۸	۹
۱۴				
۱۵				

۲. همه عددهای دورقمی را که می‌توان با رقم‌های ۵ یا ۹ در دهگان و ۶ یا ۱ در یکان نوشت بنویس.

.....

.....

۴. مقدار تقریبی عددهای زیر را مانند نمونه روی محور نشان بده.

۳۳ - ۲۵ - ۸ - ۴۵





نام و نام خانوادگی:

تاریخ:


۶. ساعت چند است؟



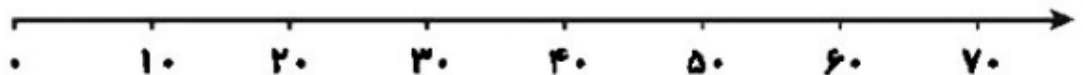
الف) ساعت و دقیقه ب) ساعت و دقیقه پ) ساعت و دقیقه

۸. جمع و تفریق‌های زیر را روی محور نشان داده و حاصل را بنویس.

$40 + 30 = \square$



$60 - 40 = \square$





نام و نام خانوادگی:

تاریخ:

۹. زمان های زیر را روی ساعت ها نشان بده.



ساعت ۳:۳۵ دقیقه



ساعت ۷ و ۱۵ دقیقه



ساعت ۶:۵۵ دقیقه



ساعت ۲ و ۲۰ دقیقه

۱۰. در شکل زیر، لباس های برنار را می بینید. او به چند روش می تواند این لباس ها را بپوشد؟



۶ (۱)

۵ (۲)

۷ (۳)

۱۰ (۴)

۱۱. اگر ۴۵ یکی را به ۴ ده تایی اضافه کنیم، حاصل جمع چند ده تایی و چند یکی خواهد شد؟

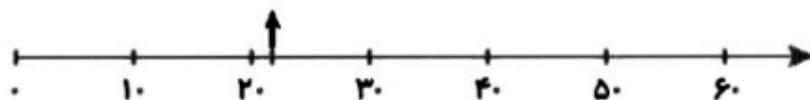
(۲) ۵ ده تایی و ۸ یکی

(۱) ۸ ده تایی و ۵ یکی

(۴) ۵ ده تایی و ۴ یکی

(۳) ۴ ده تایی و ۸ یکی

۱۲. کدام عدد به طور تقریبی روی محور نمایش داده شده است؟



۲۵ (۴)

۲۹ (۳)

۲۲ (۲)

۲۰ (۱)

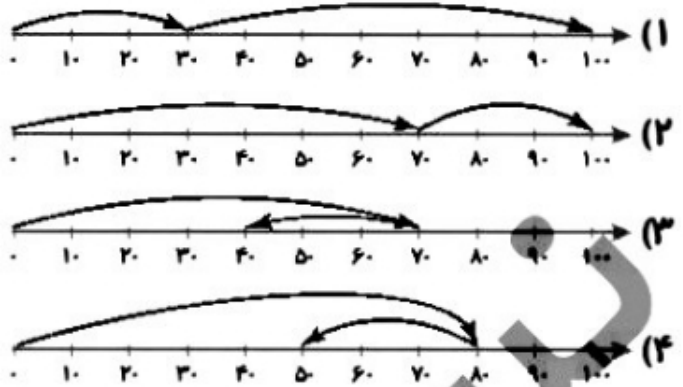


نام و نام خانوادگی:

تاریخ:

۱۳. کدام محور تفریق مقابل را به درستی نمایش می دهد؟

۷۰
-۳۰



۱۴. در کمد اسباب بازی یک مغازه ۴۲ توپ و ۵۷ عروسک قرار دارد. در این کمد چند توپ و عروسک وجود دارد؟

جدول خودارزیابی



نیاز به تلاش

قابل قبول

خوب

خیلی خوب

معیار

ملاک

Five empty circles for self-evaluation.

Five empty circles for self-evaluation.

Five empty circles for self-evaluation.

Five empty circles for self-evaluation.



- ◀ جمع و تفریق را روی جدول اعداد انجام می دهم.
- ◀ مسئله را با تفکر نظام دار حل می کنم.
- ◀ جمع و تفریق فرآیندی را یاد گرفته ام.
- ◀ تقریب زدن روی محور را انجام می دهم.
- ◀ ساعت را با دقت می خوانم.