

نام و نام خانوادگی:

آموزگار: خانم کاشانی

موضوع:

پایه:

تاریخ:

هدف:



۱- جمع و تفریق های زیر را به روش فرآیندی حل کنید.

$\begin{array}{r} 29 \\ + 10 \\ \hline \end{array}$	$\begin{array}{r} 88 \\ - 51 \\ \hline \end{array}$
$\begin{array}{r} 79 \\ - 37 \\ \hline \end{array}$	$\begin{array}{r} 96 \\ - 62 \\ \hline \end{array}$
$\begin{array}{r} 18 \\ + 11 \\ \hline \end{array}$	$\begin{array}{r} 32 \\ + 44 \\ \hline \end{array}$

۲- جاهای خالی را پر کنید.

* ۳ بسته ی ده تایی به اضافه ی ۴ بسته ی ده تایی می شود بسته ی ده تایی. یعنی $30 + 40 = \dots\dots\dots$

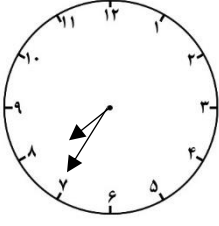
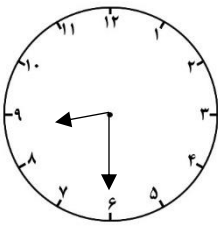
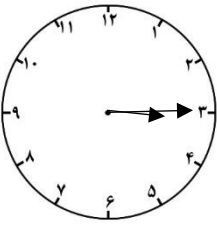
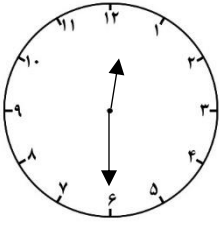
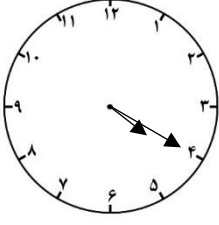
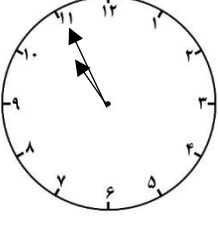
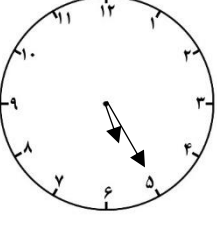
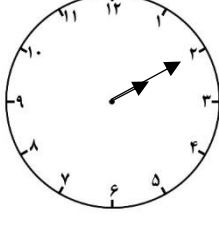
* ۸ بسته ی ده تایی منهای ۲ بسته ی ده تایی می شود بسته ی ده تایی. یعنی $80 - 20 = \dots\dots\dots$

۳- همهی عددهای دو رقمی را بنویسید که رقمهای دهگان آنها ۶ و ۷ و رقمهای یکان آنها ۵ و ۳

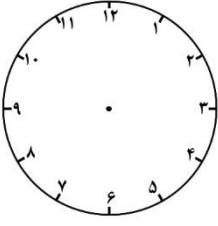
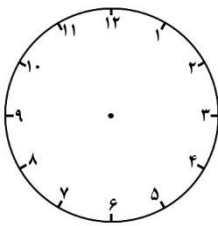
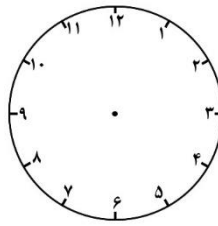
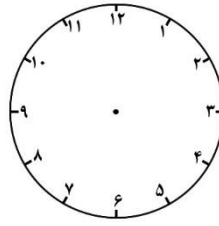
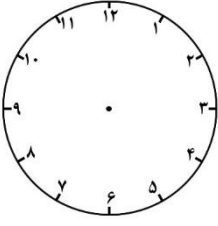
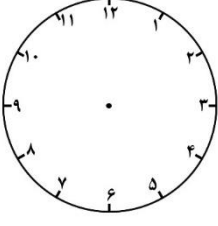
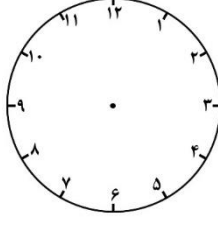
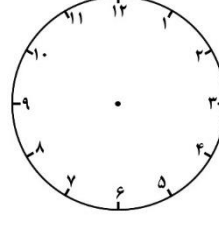
باشد.



۴- ساعت چند است؟

۱- زمان خواسته شده را نشان دهید.

 ۴:۲۰	 ۹:۱۰	 ۱۰:۳۰	 ۵:۴۵
 ۱۱:۳۵	 ۱۲:۵۰	 ۱:۱۵	 ۳:۴۰

