

کاربرگ مروری

۱. جمع و تفریق های زیر را فرآیندی حل کنید

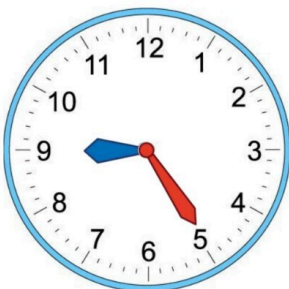
$$\begin{array}{r} 23 \\ + 58 \\ \hline \end{array} \quad \begin{array}{r} 42 \\ + 39 \\ \hline \end{array} \quad \begin{array}{r} 84 \\ - 38 \\ \hline \end{array} \quad \begin{array}{r} 37 \\ + 29 \\ \hline \end{array} \quad \begin{array}{r} 75 \\ - 49 \\ \hline \end{array}$$

۲. دانش آموزان یک مدرسه ۸۵ نفر بودند که ۲۹ نفر به اردو رفتند، چند نفر در مدرسه باقی مانده اند؟

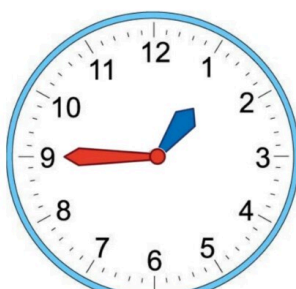
۳. اعداد دو رقمی با یکان ۲ و ۵ و دهگان ۷ و ۶ و ۴ را بنویسید.
(نمودار درختی بکشید)

۴. زهرا ۲۵ کتاب داشت، او ۳۸ کتاب دیگر خرید، حالا او چند کتاب دارد؟

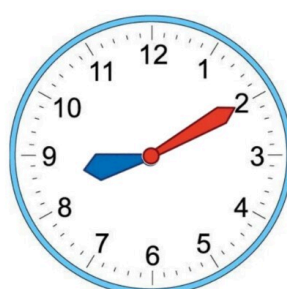
۵. ساعت چند است؟



... : ...



... : ...



... : ...



... : ...