

نام و نام خانوادگی:

آموزگار: خانم کاشانی

موضوع:

پایه:

تاریخ:

هدف:



۱- جمع و تفریق های زیر را به روش فرآیندی حل کنید.

$$\begin{array}{r} 29 \\ + \\ 10 \\ \hline \end{array}$$

$$\begin{array}{r} 88 \\ - \\ 51 \\ \hline \end{array}$$

$$\begin{array}{r} 75 \\ - \\ 37 \\ \hline \end{array}$$

$$\begin{array}{r} 91 \\ - \\ 62 \\ \hline \end{array}$$

$$\begin{array}{r} 18 \\ + \\ 11 \\ \hline \end{array}$$

$$\begin{array}{r} 32 \\ + \\ 44 \\ \hline \end{array}$$

$$\begin{array}{r} 19 \\ + \\ 40 \\ \hline \end{array}$$

$$\begin{array}{r} 40 \\ - \\ 22 \\ \hline \end{array}$$



$$\begin{array}{r} 89 \\ - 56 \\ \hline \end{array}$$

$$\begin{array}{r} 47 \\ - 15 \\ \hline \end{array}$$

۲- جاهای خالی را پر کنید.

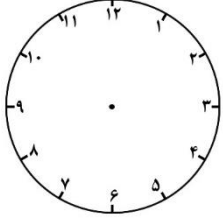
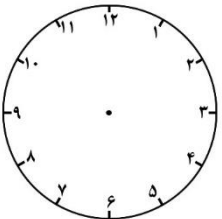
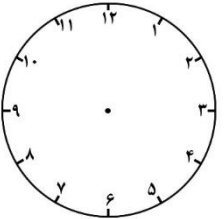
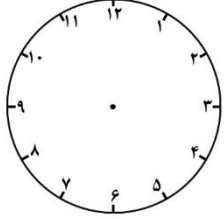
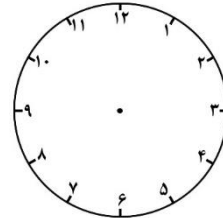
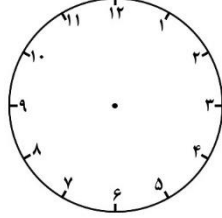
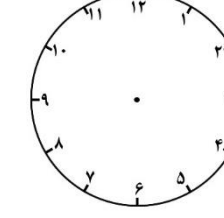
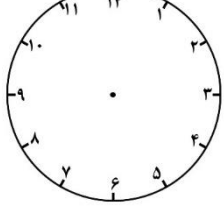
\* ۴ بسته‌ی ده‌تایی به اضافه‌ی ۵ بسته‌ی ده‌تایی می‌شود ..... بسته‌ی ده‌تایی. یعنی  $40 + 50 = \dots\dots\dots$

\* ۵ بسته‌ی ده‌تایی منهای ۲ بسته‌ی ده‌تایی می‌شود ..... بسته‌ی ده‌تایی. یعنی  $50 - 20 = \dots\dots\dots$

۳- همه‌ی عددهای دو رقمی را بنویسید که رقم‌های دهگان آنها ۲ و ۸ و رقم‌های یکان آنها ۶ و ۴ باشد.

.....

۴- زمان خواسته شده را نشان دهید.

 ۹:۱۵	 ۶:۵۰	 ۱۰:۳۰	 ۲:۴۰
 ۸:۵۵	 ۷:۴۵	 ۴:۲۵	 ۱:۳۵



۵- تقریب بزن؟

۱۷ =	۶۸ =	۳۹ =	۸۱ =	۴۲ =	۲۳ =
۶۴ =	۳۵ =	۲۶ =	۴۷ =	۷۸ =	۵۹ =
۳۱ =	۵۲ =	۶۳ =	۲۴ =	۷۶ =	۱۸ =

۶- سارا در کتابخانه‌ی خود ۳۵ کتاب داستان و ۲۳ کتاب علمی دارد. سارا روی هم چند کتاب دارد؟ ( به روش فرآیندی حل کنید. )

۷- مریم از گل فروشی ۴۹ شاخه گل رز و گل لاله خریده است. ۲۶ تا از آنها گل رز است. مریم چند شاخه گل لاله خریده است؟ ( به روش فرآیندی حل کنید. )

۸- علی در مرحله‌ی اول یک مسابقه ۵۲ امتیاز گرفت و در مرحله‌ی دوم هم ۱۹ امتیاز دیگر گرفت. حالا علی چند امتیاز دارد؟ ( به روش فرآیندی حل کنید. )

