

پایه دوم


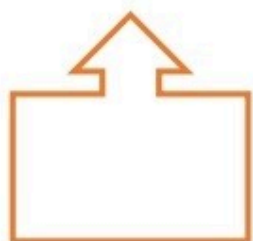
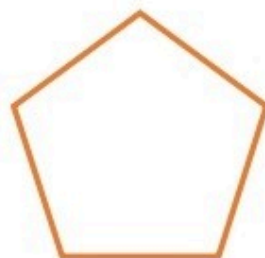
دبستان

کاربرگ تقارن

آموزگار :

نام و نام خانوادگی :

خط تقارن هر شکل را بکش



آموزگار:

نام و نام خانوادگی: _____

الگویابی اعداد را ادامه بده .

$$12 - 14 - 16 - \quad - \quad - \quad - \quad - \quad - \quad -$$

+2 +2 +2

$$22 - 29 - 36 - \quad - \quad - \quad - \quad 64 - \quad - \quad - \quad - \quad 92$$

+7 +7 +7

$$30 - 35 - \quad - \quad - \quad - \quad - \quad - \quad - \quad - \quad -$$

+5 +5 +5

$$11 - 20 - \quad - \quad - \quad - \quad - \quad - \quad - \quad - \quad -$$

+9 +9 +9

$$3 - 4 - 6 - \quad - \quad - \quad - \quad - \quad - \quad - \quad - \quad -$$

+1 +2 +3 +4 +5 +6

+1 +1

$$8 - 13 - 19 - \quad - \quad - \quad - \quad - \quad - \quad - \quad - \quad -$$

+5 +6 +7 +8 +9 +10

+1 +1

$$10 - 12 - 16 - \quad - \quad - \quad - \quad - \quad - \quad - \quad - \quad -$$

+2 +4 +6 +8 +10 +12

+2 +2