

نام و نام خانوادگی:

آموزگار: خانم کاشانی

موضوع:

پایه:

تاریخ:

هدف:




۱- دو شکل زیر را با هم مقایسه کنید.

\* شباهت:

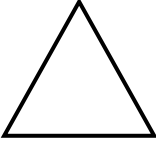



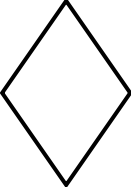


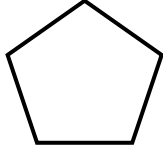


.....  
.....



\* تفاوت: .....

۲- جدول را کامل کنید.

 تعداد ضلع: ..... تعداد گوشه: .....	 تعداد ضلع: ..... تعداد گوشه: .....	 تعداد ضلع: ..... تعداد گوشه: .....	 تعداد ضلع: ..... تعداد گوشه: .....
 تعداد ضلع: ..... تعداد گوشه: .....	 تعداد ضلع: ..... تعداد گوشه: .....	 تعداد ضلع: ..... تعداد گوشه: .....	 تعداد ضلع: ..... تعداد گوشه: .....

