

نام و نام خانوادگی:

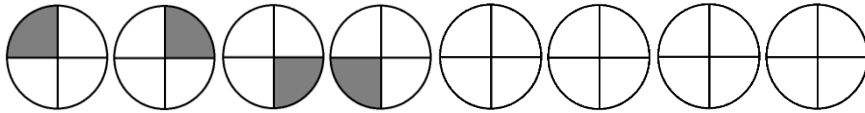
پایه: دوم

تکلیف ریاضی

مورخ: ۹۶/ /

کلاس:

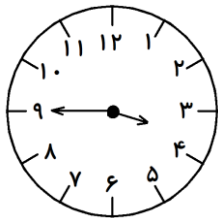
۱- پسرم؛ الگوها را ادامه بده.



۲, ۵, ۹, ۱۴,,,

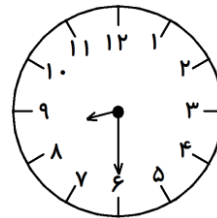
۱, ۴, ۷, ۱۰,,,

۲- ساعت های زیر را به دو صورت بنویس.



..... :

.....



..... :

.....

۳- جمع و تفریق زیر را به صورت تقریبی حل کن.

$$۸۳ \longrightarrow \dots\dots\dots$$

$$\begin{array}{r} ۸۳ \\ - ۵۴ \\ \hline \end{array} \longrightarrow \begin{array}{r} \dots\dots\dots \\ \hline \dots\dots\dots \end{array}$$

$$۳۴ \longrightarrow \dots\dots\dots$$

$$\begin{array}{r} ۳۴ \\ + ۲۵ \\ \hline \end{array} \longrightarrow \begin{array}{r} \dots\dots\dots \\ \hline \dots\dots\dots \end{array}$$

۴- با ارقام ۰ و ۶ هر چند تا می توانی عدد دو رقمی بنویس.

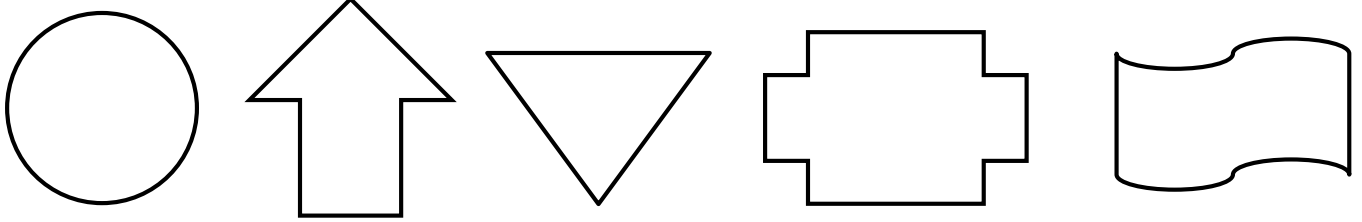
۵- حاصل جمع های زیر را به دست بیاور.

$$۲۰ + ۱۰ + ۲۰ + ۵ + ۲ + ۱۰ =$$

$$۱۰ + ۱۰ + ۵ + ۵ + ۲ + ۱۰ + ۲۰ =$$

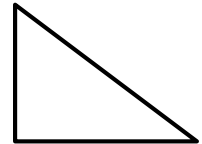

۶- ساعت یک و ربع است. یک ساعت دیگر ساعت چند می شود؟

۷- گل پسر؛ تقارن شکل های زیر را بکش، و شکلی که تقارن ندارد را رنگ قرمز بزن.

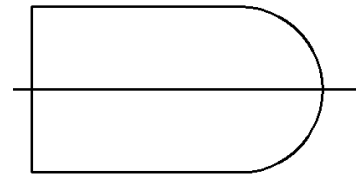
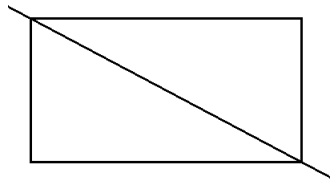
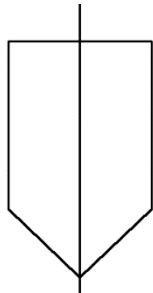
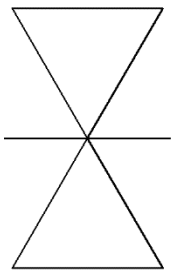


۸- فرزندانم؛ در هر سؤال، جواب درست را علامت بزن.

الف) کدام شکل ۴ خط تقارن دارد؟




ب) خط تقارن کدام شکل نادرست است؟



۹- کتاب شایان ۷۵ صفحه دارد. اگر او ۲۶ صفحه ی آن را خوانده باشد، چند صفحه باقی مانده است؟

۱۰- شباهت و تفاوت دو شکل زیر را بنویس.



شباهت:

تفاوت: