


۴. دخترم ساعت ها چه زمانی را نشان می دهد؟



ساعت و دقیقه
..... :



ساعت و دقیقه
..... :

۵. الگوی عددی زیر را ادامه بده.


۱ - ۳ - ۵ - ۷ - و و




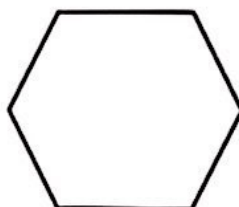


۲ - ۵ - ۹ - و و




۶. در شمارش ۶ تا ۶ تا، چه عددی بعد از ۳۶ قرار می گیرید؟



۷. شکل های زیر را با کشیدن یک خط به دو قسمت مساوی تقسیم کن.



۸. شباهت و تفاوت شکل های زیر را بنویس.



.....

شباهت:

.....

تفاوت: