

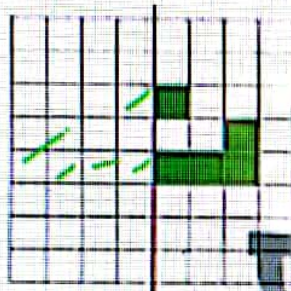
فعالیت کلاسی



با توجه به خط تقارن، نیمه‌ی دیگر شکل‌ها را کامل کن.

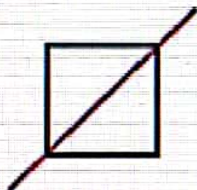


با توجه به خط تقارن، خانه‌های شطرنجی را رنگ کن. بعد از رنگ کردن، کدام ششانه، دیده می‌شود؟



ششانه ... دیده می‌شود.


در کدام یک از شکل‌های زیر خط تقارن است؟ (دور آن خط بکش)



پ:



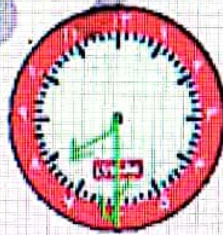
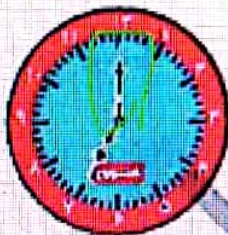
ب:



الف:

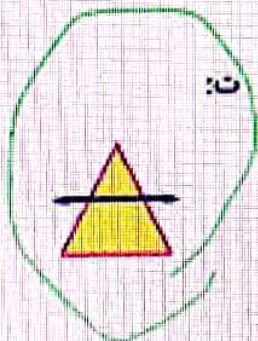
۲۱۶ / ۷۶

ساعت ۷ است. اگر عقربه‌ی دقیقه شمار، ۲۰ دقیقه (دوم ساعت) حرکت کند. ساعت چقدر می‌شود؟ آن را روی ساعت نشان بده.

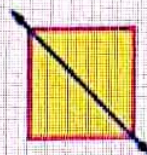


ساعت ... می‌شود.

در کدام یک از شکل‌های زیر، خط کشیده شده، خط تقارن نیست؟ (دور آن خط بکش)



ت:



ب:



ب:



الف:

ریاضی دوم دبستان



تمرین

۱ هر عبارت را به جواب صحیح آن وصل کن.

- شکلی با ۳ ضلع مساوی و ۳ خط تقارن مربع
- شکلی دارای بی‌نهایت خط تقارن مستطیل
- شکلی با ۴ خط تقارن دایره
- شکلی با ۲ خط تقارن مثلث

- ۲ درستی و نادرستی هر عبارت را مشخص کن.
- الف: هر ساعت ۶۰ دقیقه و نیم ساعت همان ۳۰ دقیقه است.
- ب: تعداد خطهای تقارن شکل‌های هندسی مختلف با هم برابر است.
- پ: خط تقارن می‌تواند در شکل‌ها به صورت افقی و عمودی رسم شود.
- ت: ساعت ۲:۳۰ همان ساعت دو و نیم است.
- ۳ زمان مربوط به هر ساعت را به دو صورت بنویس

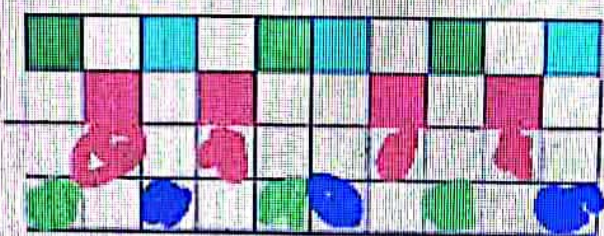
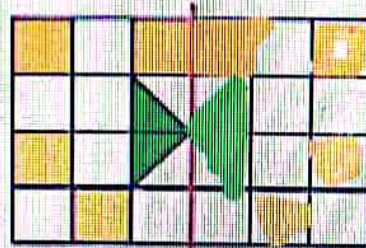


الف: ساعت نوازده و نیم


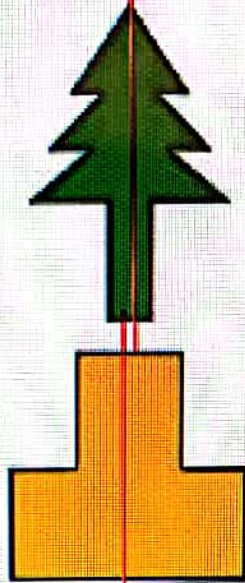
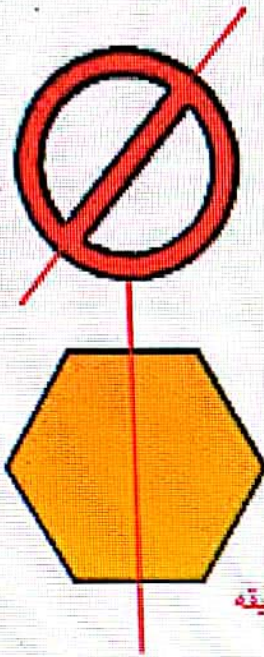
ب: ساعت ده و نیم

پ: ساعت ۲:۳۰

۴ با توجه به خط تقارن، نیمه‌ی دیگر شکل‌های زیر را رنگ آمیزی کن.



برای هر شکل طوری خط تارن بکش که به دو نیمه‌ی کاملاً شبیه هم تقسیم شود.



با توجه به سؤالات داده شده، گزینه‌ی صحیح را انتخاب کن.
 الف: معلم در هر نیم ساعت ۱۰ ورقه را تصحیح می‌کند. یک ساعت و نیم طول می‌کشد تا این معلم تمام ورقه‌های کلاس خود را تصحیح کند. کلاس او چند دانش‌آموز دارد؟


۱۰ (۲)

۳۰ (۳)

۳۰ (۲)

۲۰ (۱)

ب: تعداد مربع‌های سبز چندتا بیش‌تر از تعداد مربع‌های سفید است؟




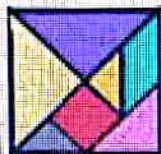
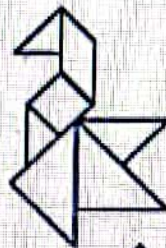
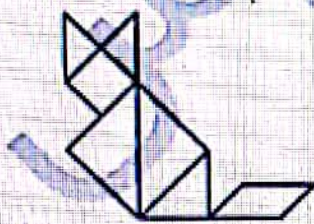
۲ (۱)

۸ (۲)

۱۷ (۳)

۹ (۴)

شکل تنگ‌رام را از اتهای کتاب کار علوی با قهچن ببر. با آن یکی از شکل‌های زیر را بساز و در کادر صفحه مقابل بچسبان.



ریاضی دوم دبستان

