

به نام خداوند بخشنده و مهربان

کتاب کار صفحات ۷۶ و ۷۷



فصل سوم


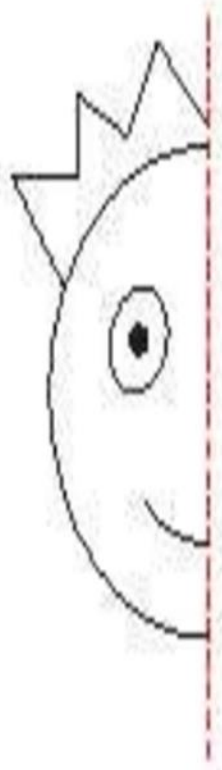
اشکال هندسی

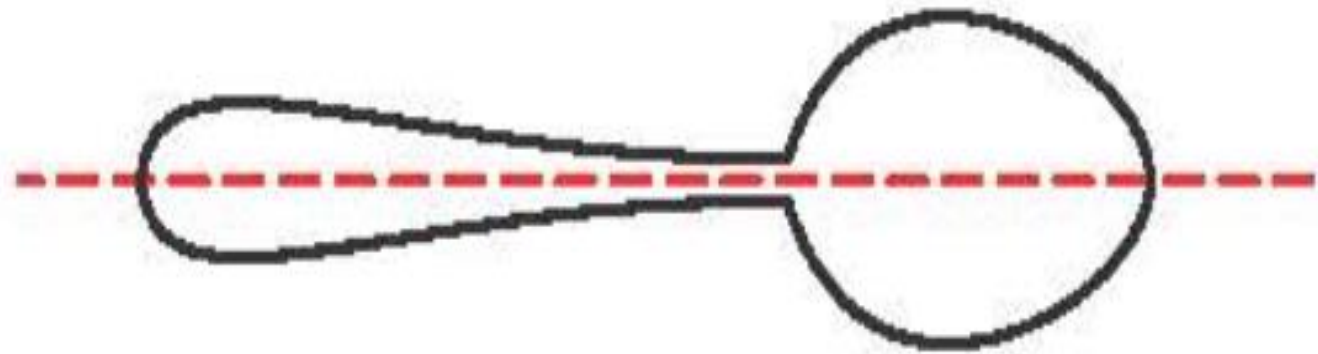
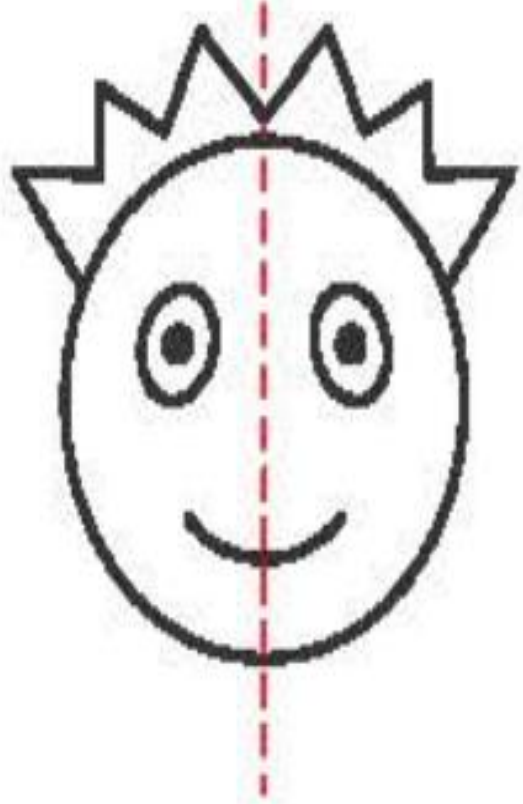
در منزل

فعالیت کلاسی




با توجه به خط تقارن، نیمه‌ی دیگر شکل‌ها را کامل کن.



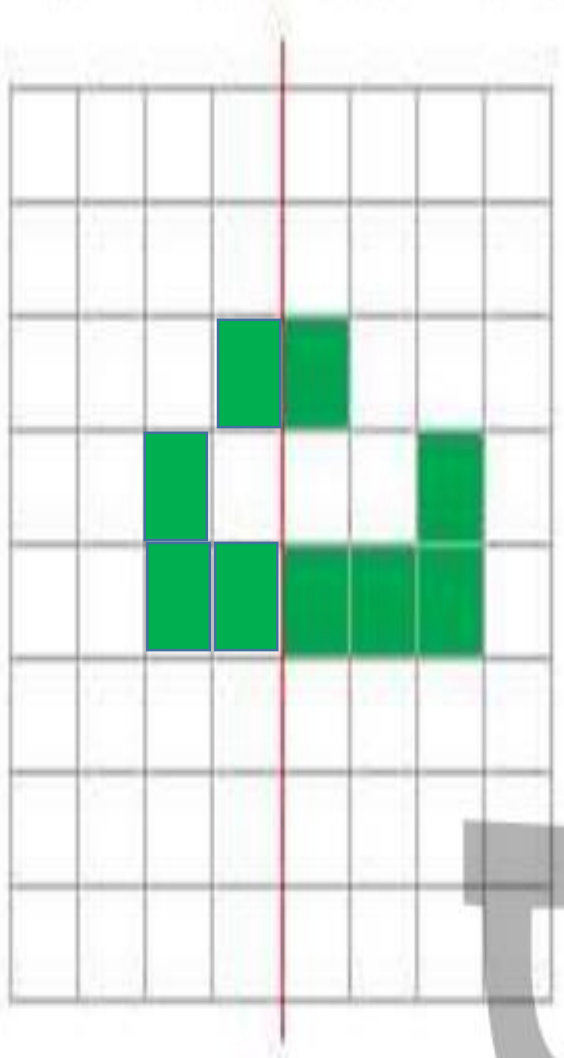


با توجه به خط تقارن، خانه‌های شطرنجی را رنگ کن. بعد از رنگ کردن، کدام نشانه، دیده می‌شود؟




نشانه دیده می‌شود.

با توجه به خط تقارن، خانه‌های شطرنجی را رنگ کن. بعد از رنگ کردن، کدام نشانه، دیده می‌شود؟

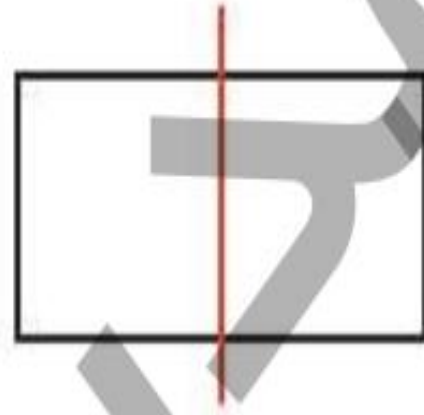


نشانه... **ت** ... دیده می‌شود.

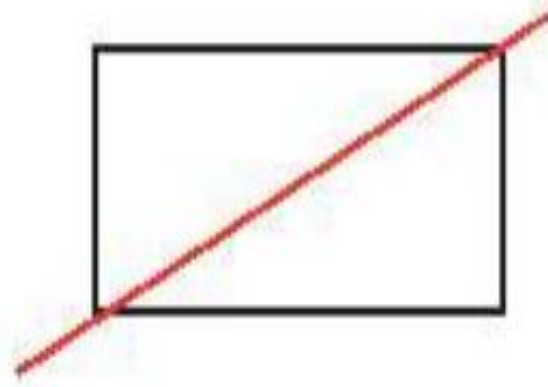
۳ خط رسم شده در کدامیک از شکل‌های زیر خط تقارن است؟ (دور آن خط بکش)



ج:



ب:



الف:


۴ ساعت ۷ است. اگر عقربه‌ی دقیقه شمار، ۳۰ دقیقه (نیم ساعت) حرکت کند. ساعت چند می‌شود؟ آن را روی ساعت نشان بده.



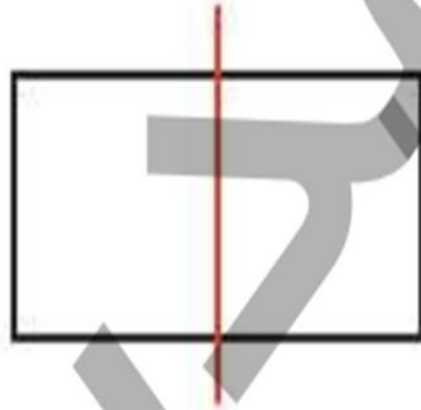
ساعت می‌شود.

خط رسم شده در کدامیک از شکل‌های زیر خط تقارن است؟ (دور آن خط بکش)

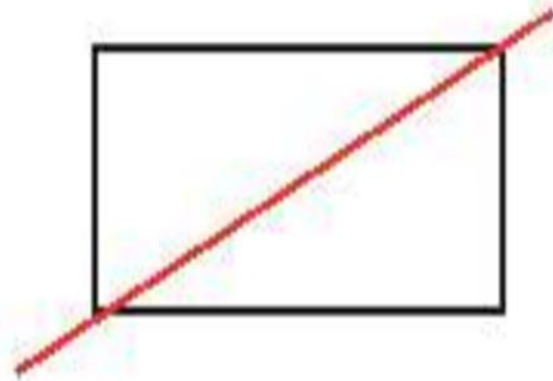
۳



پ:




ب:



الف:

ساعت ۷ است. اگر عقربه‌ی دقیقه شمار، ۳۰ دقیقه (نیم ساعت) حرکت کند. ساعت چند می‌شود؟ آن را روی ساعت نشان بده.

۴



ساعت ۷:۳۰ می‌شود.

در کدام یک از شکل‌های زیر، خط کشیده شده، خط تقارن نیست؟ (دور آن خط بکش)


الف:



ب:



پ:



ت:



۵ در کدام یک از شکل‌های زیر، خط کشیده شده، خط تقارن نیست؟ (دور آن خط بکش)


الف:



ب:



پ:



ت:



ریاضی دوم دبستان





هر عبارت را به جواب صحیح آن وصل کن.



مربع

مستطیل

دایره

مثلث

شکلی با ۳ ضلع مساوی و ۳ خط تقارن

شکلی دارای بی‌نهایت خط تقارن

شکلی با ۴ خط تقارن

شکلی با ۲ خط تقارن



هر عبارت را به جواب صحیح آن وصل کن.



- | | |
|--------|----------------------------------|
| مربع | شکلی با ۳ ضلع مساوی و ۳ خط تقارن |
| مستطیل | شکلی دارای بی‌نهایت خط تقارن |
| دایره | شکلی با ۴ خط تقارن |
| مثلث | شکلی با ۲ خط تقارن |

۲

درستی و نادرستی هر عبارت را مشخص کن.

الف: هر ساعت ۶۰ دقیقه و نیم ساعت همان ۳۰ دقیقه است.

ب: تعداد خطهای تقارن شکل‌های هندسی مختلف با هم برابر است.

پ: خط تقارن می‌تواند در شکل‌ها به صورت افقی و عمودی رسم شود.

ت: ساعت ۲:۳۰ همان ساعت دو و نیم است.

۳

زمان مربوط به هر ساعت را به دو صورت بنویس.



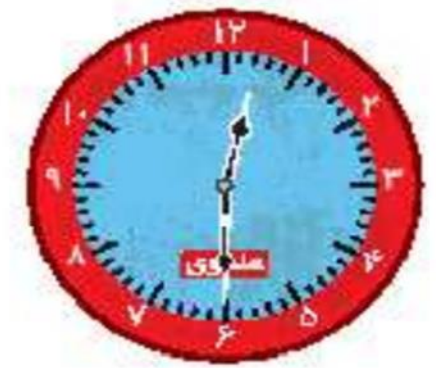
پ: ساعت

۲:۳۰



پ: ساعت ده و نیم

..... :



الف: ساعت

..... :

۲ درستی و نادرستی هر عبارت را مشخص کن.

الف: هر ساعت ۶۰ دقیقه و نیم ساعت همان ۳۰ دقیقه است.

ب: تعداد خطهای تقارن شکل‌های هندسی مختلف با هم برابر است.

پ: خط تقارن می‌تواند در شکل‌ها به صورت افقی و عمودی رسم شود.

ت: ساعت ۲:۳۰ همان ساعت دو و نیم است.

۳ زمان مربوط به هر ساعت را به دو صورت بنویس



پ: ساعت دو و نیم

۲:۳۰



ب: ساعت ده و نیم

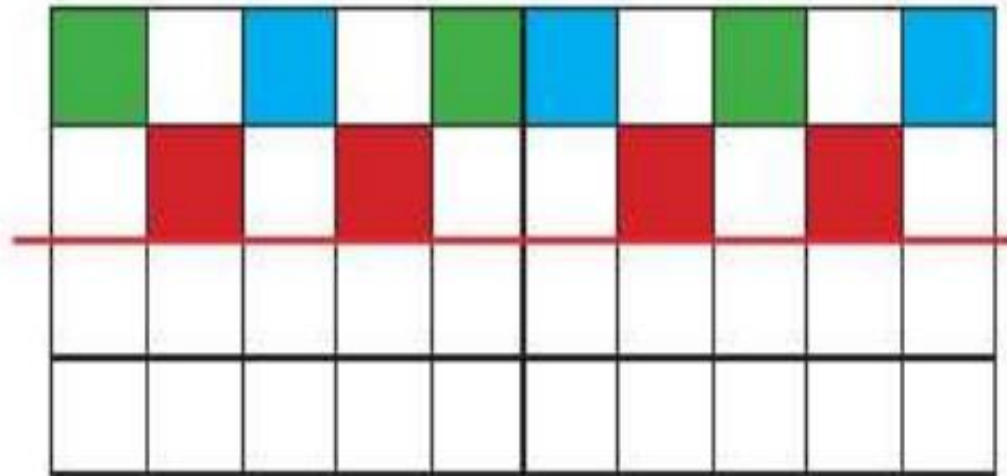
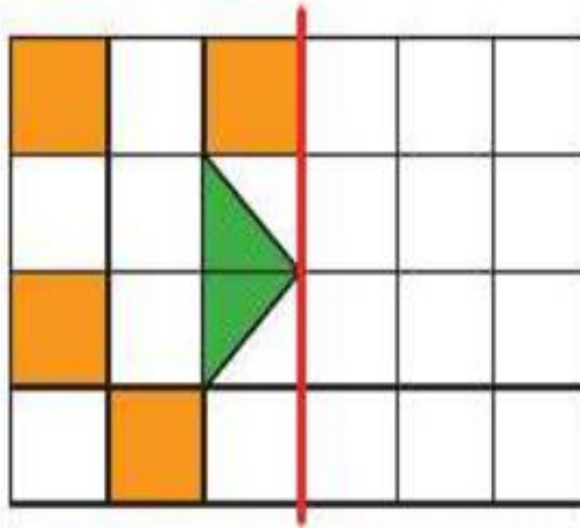
۱۰:۳۰



الف: ساعت دوازده و نیم

۱۲:۳۰

با توجه به خط تقارن، نیمه‌ی دیگر شکل‌های زیر را رنگ آمیزی کن.



در منزل

با توجه به خط تقارن، نیمه‌ی دیگر شکل‌های زیر را رنگ آمیزی کن.

