



به نام خدا



کتاب کار صفحات ۸۲ و ۸۳



فعالیت کلاسی



۱ درست یا نادرست بودن هر عبارت را مشخص کن.

۱

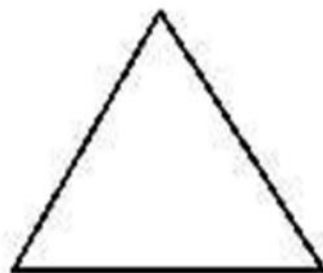
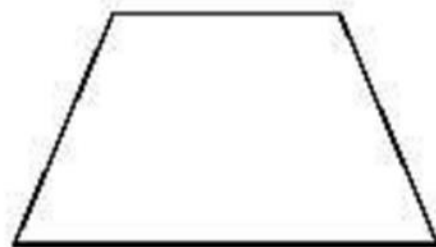
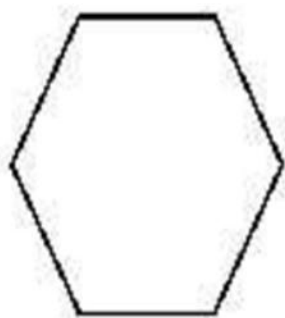
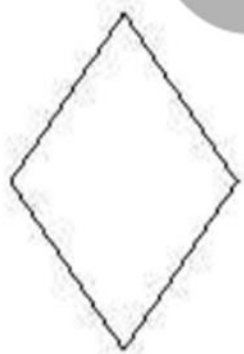
الف: تعداد خط تقارن های مربع از دایره کمتر است.

ب: مثلث با ۳ ضلع برابر، ۳ خط تقارن دارد.

پ: ساعت ۱۵:۰۶ یعنی ۱۵ دقیقه به ساعت ۶ مانده است.

۲ خطهای تقارن شکل های زیر را رسم کن.

۲



فعالیت کلاسی



۱ درست یا نادرست بودن هر عبارت را مشخص کن.



الف: تعداد خط تقارن های مربع از دایره کمتر است.

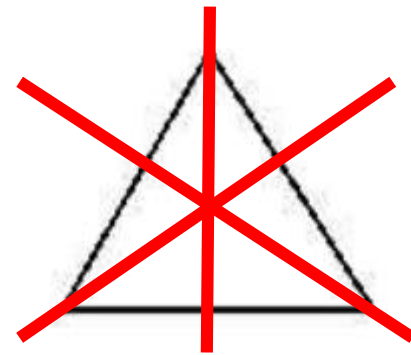
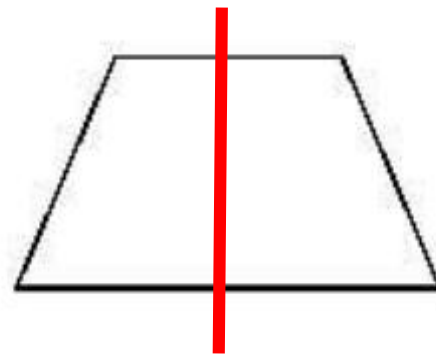
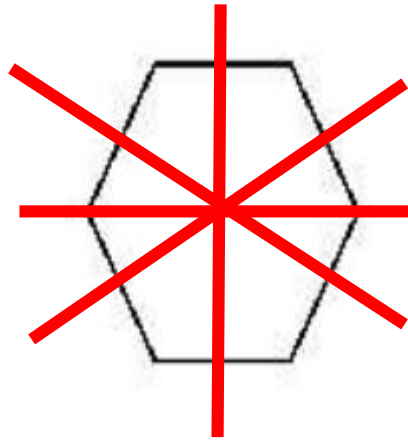
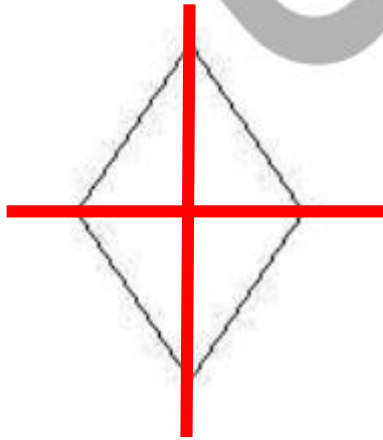


ب: مثلث با ۳ ضلع برابر، ۳ خط تقارن دارد.



پ: ساعت ۱۵:۰۶ یعنی ۱۵ دقیقه به ساعت ۶ مانده است.

۲ خط های تقارن شکل های زیر را رسم کن.



۲ زمان‌های زیر را روی هر ساعت نشان بده.



دوازده و ربع



یک و نیم



دو و ربع



هفت و نیم

۴ برای کامل کردن کف آشپزخانه‌ی شکل زیر، چند کاشی مربعی دیگر لازم داریم؟

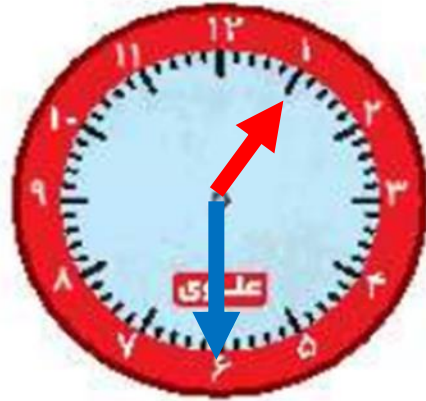


- ۱۲ (۱)
- ۱۰ (۲)
- ۹ (۳)
- ۶ (۴)
- ۴ (۵)

۲ زمان‌های زیر را روی هر ساعت نشان بده.



دوازده و ربع



یک و نیم



دو و ربع



هفت و نیم

۴ برای کامل کردن کف آشپزخانه‌ی شکل زیر، چند کاشی مربعی دیگر لازم داریم؟



۱۲ (۱)

۱۰ (۲)

۹ (۳)

۶ (۴)

۴ (۵)

هر زمان را به ساعت خودش وصل کن.

۱



یک ربع مانده به ۳



نیم ساعت گذشته از ۷


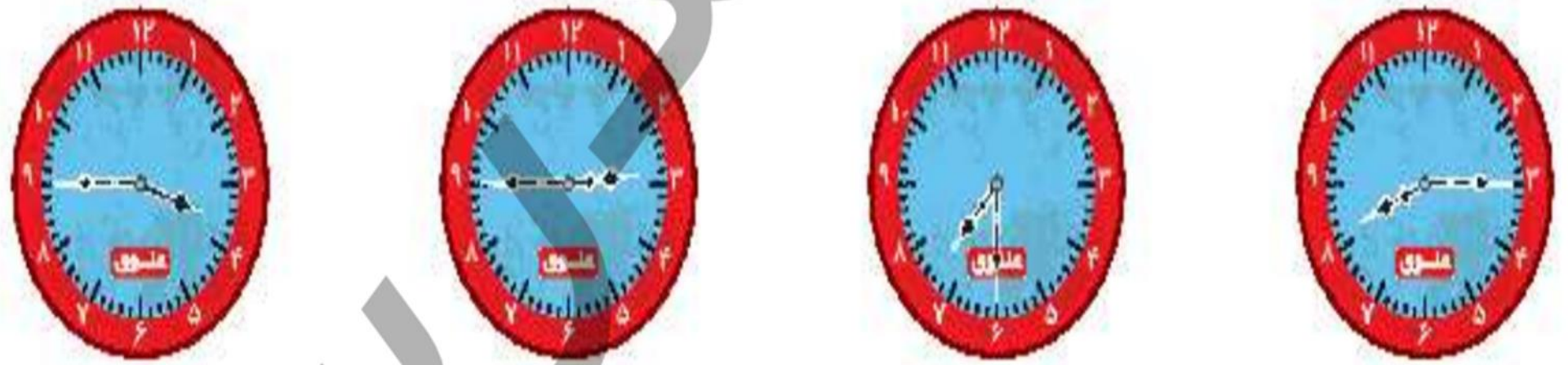


۸:۱۵



۳:۴۵

۱ هر زمان را به ساعت خودش وصل کن.



یک ربع مانده به ۳

نیم ساعت گذشته از ۷

۸:۱۵

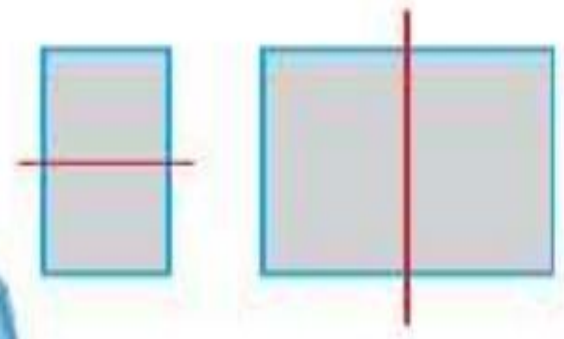
۳:۴۵

۲ درستی و نادرستی هر عبارت را مشخص کن.

الف: خط‌های رسم شده در مستطیل و مربع روبه‌رو، خط تقارن است.

ب: نیم ساعت بعد از ساعت ۰:۴۰ ۷ ساعت ۸ می‌شود.

پ: برای حرف B نمی‌توان خط تقارن رسم کرد.



اشکال هندسی ▶ فصل سوم

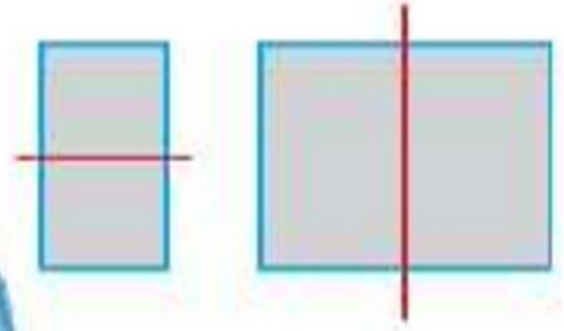


۲ درستی و نادرستی هر عبارت را مشخص کن.

الف: خط‌های رسم شده در مستطیل و مربع روبه‌رو، خط تقارن است.

ب: نیم ساعت بعد از ساعت ۳:۰۷ ساعت ۸ می‌شود.

پ: برای حرف B نمی‌توان خط تقارن رسم کرد.



~~B~~

