


100

# معرفی پول



## فعالیت

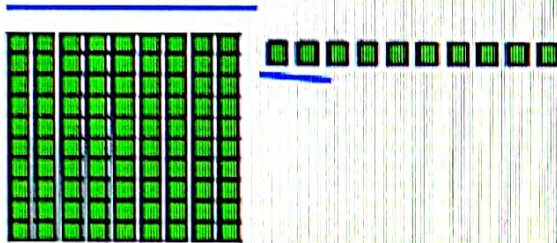
۱- آموزگار دسته‌های ده‌تایی و یکی را به گروه‌های ۲ نفره می‌دهد  
۹ دسته‌ی ده‌تایی را کنار هم بگذارید.



چه عددی ساخته می‌شود؟  
یک دسته‌ی ده‌تایی دیگر کنار آن قرار دهید. حالا عدد صد ساخته شده است. این عدد را به صورت ۱۰۰ می‌نویسند.  
حالا از ابتدا دسته‌های ده‌تایی را یکی یکی بشمارید و کنار هم بگذارید و عددها را بنویسید.

10 20 30 40 50 60 70 80 90 100

۲- دسته‌ی ده‌تایی را کنار هم بگذارید. از یکی‌ها یکی یکی بردارید و کنار آن بگذارید. هر بار عددی را که ساخته می‌شود، بنویسید.



90 91 92 93 94 95 96 97 98 99 100

در هر شکل چند تا مربع کوچک وجود دارد؟ تعداد آن را بنویسید.

شکل ۱



1

شکل ۲



4

شکل ۳




9

شکل ۴



16


شکل ۵



25



## کار در کلاس



شکل‌های چهارم و پنجم را با خط‌کش کامل کنید. تعداد مربع‌های هر شکل را زیر آن بنویسید. حدس می‌زنید شکل دهم چند تا مربع دارد؟

شکل دهم را با خط‌کش کامل کنید و تعداد مربع‌ها را بنویسید.

100