


معرفی پول



فعالیت


۱- آموزگار دسته‌های ده‌تایی و یکی را به گروه‌های ۲ نفره می‌دهد.
 ۹ دسته‌ی ده‌تایی را کنار هم بگذارید.



چه عددی ساخته می‌شود؟
 یک دسته‌ی ده‌تایی دیگر کنار آن قرار دهید. حالا عدد صد ساخته شده است. این عدد را به صورت ۱۰۰ می‌نویسند.
 حالا از ابتدا دسته‌های ده‌تایی را یکی یکی بشمارید و کنار هم بگذارید و عددها را بنویسید.

۱۰۰ - ۹۰ - ۵۰ - ۴۰ - ۳۰ - ۲۰ - ۱۰

۲- ۹ دسته‌ی ده‌تایی را کنار هم بگذارید. از یکی‌ها یکی بردارید و کنار آن بگذارید.
 هر بار عددی را که ساخته می‌شود، بنویسید.


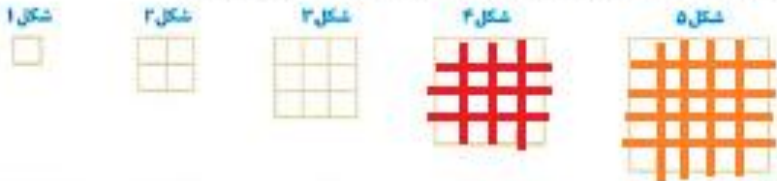


۱۰۰ - ۹۹ - ۹۸ - ۹۷ - ۹۶ - ۹۵ - ۹۴ - ۹۳ - ۹۲ - ۹۱ - ۹۰



کار در کلاس

در هر شکل چند تا مربع کوچک وجود دارد؟ تعداد آن را بنویسید.



شکل‌های چهارم و پنجم را با خط‌کش کامل کنید.
 تعداد مربع‌های هر شکل را زیر آن بنویسید.
 حدس می‌زنید شکل دهم چند تا مربع دارد؟ **۱۰۰**

شکل دهم را با خط‌کش کامل کنید
 و تعداد مربع‌ها را بنویسید.
۱۰۰