

به نام خدا ریاضی

ارزشیابی فصل چهارم



دور سکه ها طوری خط بکشید که جمع آنها برابر قیمت روی کادو شود.



=



=

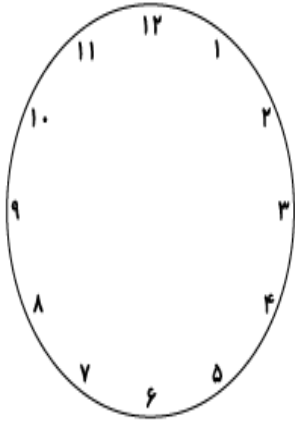


به اندازه‌ی هر عدد داده شده، سگه بکش.

۳۵۲ ریال

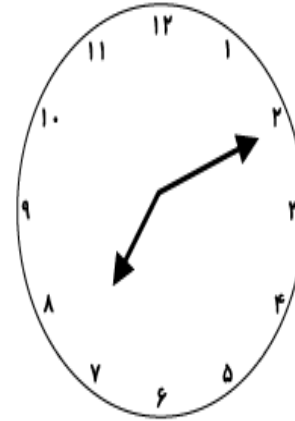
۴۷۶ ریال

ساعت‌های زیر را کامل کن و عقربه‌های آن را بکش.

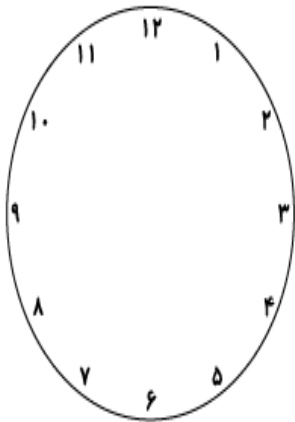


..... :

ساعت و دقیقه

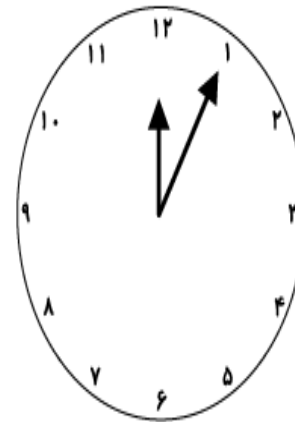


نیم ساعت بعد از ۷:۱۰



..... :

ساعت و دقیقه



یک ربع بعد از ساعت

۱۲ و ۵ دقیقه

گلم عدد‌های زیر را در جدول ارزش مکانی قرار بده و به رقم و حروف بنویس؟

4 دسته ی صدتایی ، 5 دسته ی ده تایی ، 7 تا یکی

به رقم :

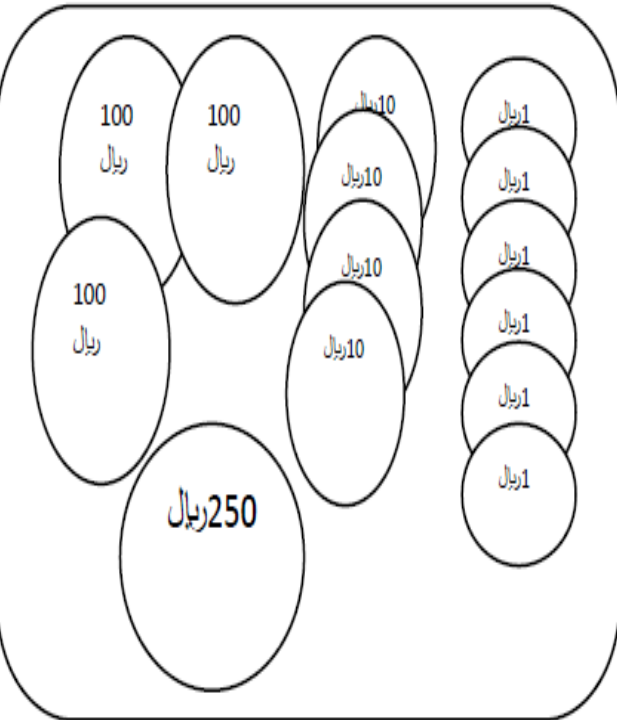
به حروف :

9 دسته ی صدتایی ، 7 دسته ی ده تایی

به رقم :

به حروف :

گلم ارزش سکه ی هر خانه را بنویس ؟



ریال

سکه ی 100 ریالی

سکه ی 10 ریالی

سکه ی 1 ریالی

گلم اگر سه سکه ی 100 ریالی به سکه هایت اضافه کنی چند ریال می شود ؟

ریال