

ق ا ن



فصل ۴

۱۰۰

عددهای سه رقمی



به نام خداوند بخشنده و مهربان

فصل سوم عددهای سه رقمی

آموزگار: خانم خاکسار



دبستان و پیش دبستان علوی

صفحه ی ۵۶ و ۵۷



معرفی پول



فعالیت

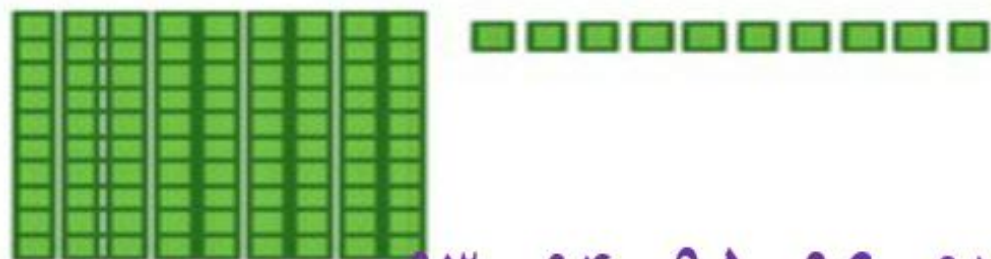
۱- آموزگار دسته‌های ده‌تایی و یکی را به گروه‌های ۲ نفره می‌دهد.
۹ دسته‌ی ده‌تایی را کنار هم بگذارید.



چه عددی ساخته می‌شود؟
یک دسته‌ی ده‌تایی دیگر کنار آن قرار دهید. حالا عدد صد ساخته شده است. این عدد را به صورت ۱۰۰ می‌نویسند.
حالا از ابتدا دسته‌های ده‌تایی را یکی یکی بشمارید و کنار هم بگذارید و عددها را بنویسید.

۱۰۰ ۹۰ ۸۰ ۷۰ ۶۰ ۵۰ ۴۰ ۳۰ ۲۰ ۱۰

۲- ۹ دسته‌ی ده‌تایی را کنار هم بگذارید. از یکی‌ها یکی‌ها بردارید و کنار آن بگذارید.
هر بار عددی را که ساخته می‌شود، بنویسید.



۱۰۰ ۹۹ ۹۸ ۹۷ ۹۶ ۹۵ ۹۴ ۹۳ ۹۲ ۹۱ ۹۰



در هر شکل چند تا مربع کوچک وجود دارد؟ تعداد آن را بنویسید.

شکل ۱




شکل ۲




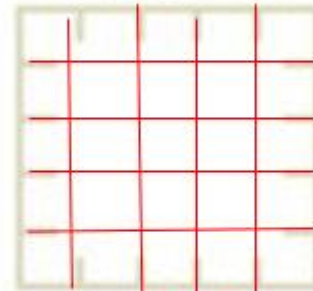
شکل ۳



شکل ۴




شکل ۵



شکل‌های چهارم و پنجم را با خط‌کش کامل کنید.
تعداد مربع‌های هر شکل را زیر آن بنویسید.
حداکثر می‌توانید شکل دهم چند تا مربع دارد؟

شکل دهم را با خط‌کش کامل کنید
و تعداد مربع‌ها را بنویسید.

صدگان	دهگان	یکان
۱	♦	♦
۲	♦	♦
۳	♦	♦
۴	♦	♦
۵	♦	♦
۶	♦	♦
۷	♦	♦
۸	♦	♦
۹	♦	♦





واحد پول کشور ما ریال است.

شکل مقابل سکه‌ی یک ریالی را نشان می‌دهد.

پول به شکل سکه و اسکناس با ارزش‌های مختلف وجود دارد.

شما هم حتماً پول‌های مختلف را دیده‌اید.



هر کس ۱۰ سکه‌ی ۱ ریالی به بانک بدهد، می‌تواند یک

سکه‌ی ۱۰ ریالی تحویل بگیرد.



۱- اگر علی ۲۰ سکه‌ی ۱ ریالی به بانک بدهد، چند سکه‌ی ۱۰ ریالی می‌گیرد؟ ۲ سکه

۲- زهرا ۸۰ سکه‌ی ۱ ریالی به بانک داده است، چند سکه‌ی ۱۰ ریالی تحویل می‌گیرد؟ ۸ سکه

۳- حسین ۱۰ تا سکه‌ی ۱۰ ریالی به بانک داد، بانک می‌تواند چه سکه‌ای به او بدهد؟ ۱ سکه‌ی ۱۰۰ ریالی

۴- اگر فاطمه ۱۰۰ تا سکه‌ی ۱ ریالی به بانک تحویل دهد، بانک چند سکه‌ی ۱۰ ریالی به او می‌دهد؟ ۱۰ سکه



بانک می تواند در مقابل ۱۰۰ تا سکه‌ی ۱ ریالی یک سکه‌ی ۱۰۰ ریالی بدهد.

نکته :

اگر به بانک ۱۰ تا سکه‌ی ۱۰ ریالی بدهیم و یا ۱۰۰ سکه‌ی یک ریالی بدهیم، بانک به ما یک سکه‌ی ۱۰۰ ریالی می دهد. فکر می کنید چرا در حال حاضر سکه‌های ۱ ریالی یا ۱۰ ریالی کم است. در این مورد در کلاس گفت و گو کنید.

الگویابی کن

الگوهای عددی را ادامه دهید.

$$4 \text{ - } 8 \text{ - } 12 \text{ - } 16 \text{ - } 20 \text{ - } 24 \text{ - } 28 \text{ - } 32 \text{ - } 36$$

+4 +4 +4 +4 +4 +4 +4 +4 +4

$$3 \text{ - } 6 \text{ - } 9 \text{ - } 12 \text{ - } 15 \text{ - } 18 \text{ - } 21 \text{ - } 24 \text{ - } 27$$

+3 +3 +3 +3 +3 +3 +3 +3 +3

$$7 \text{ - } 14 \text{ - } 21 \text{ - } 28 \text{ - } 35 \text{ - } 42 \text{ - } 49 \text{ - } 56 \text{ - } 63$$

+7 +7 +7 +7 +7 +7 +7 +7 +7



در مورد روش‌های مختلفی که برای پیدا کردن عددها استفاده کرده‌اید، با دوستان خود گفت‌وگو کنید.